

Aşağıdaki cümleleri okuyalım. Cümlelerle ilgili soruları cevaplayalım.

 Dün arkadaşıma bir hediye aldım.

Ne Zaman? Ne?

 Yüksek sesle müzik dinledi.

Nasıl? Ne?

 Elif ile babası dün akşam alışverişe çıkmışlar.

Ne Zaman? Nereye?

 Annem çok güzel yemek yapar.

Kim? Nasıl?

 Oyun oynamak için parka gitti.

Niçin? Nereye?

 Sabah elimi yüzümü lavaboda yıkadım.

Nerede? Ne Zaman?

 Ablam bahçedeki çiçekleri özenle suladı.


Kim? Nasıl?

 Babam salonda gazete okuyor.

Kim? Nerede?

 Yaz tatilinde İstanbul'a gideceğiz.

Ne Zaman? Nereye?



Yüzen kuğuyu boyamayalım.



En yüksekte olan iki kuğu siyah olsun.



Kuğuların gagaları turuncu olsun.



Çalıkları açık yeşile boyayalım.



Uzaktaki ağaçları koyu yeşile boyayalım.



Gökyüzü açık mavi olsun.



Göl mavi olsun.

1 Aşağıdaki metinlerin başlıklarını yazıp soruları cevaplayalım.

.....
Okan işe geç kalmıştı. Merdivenlerden koşarak çıkmaya başladı. Aniden dengesini kaybetti. Aşağıya doğru yuvarlandı. Neyse ki bir şey olmamıştı. Artık daha dikkatli olmaya başladı.



Okan nereye geç kalmıştı?

Sizce Okan'ın hatası nedir?

.....
Mert asansörü kullanarak indi. Asansörün kapısında duran Ayhan, Mert'in çıkmasını bekledi. Daha sonra dikkatli bir şekilde asansöre bindi. Düğmeye sadece bir kere basıp istediği kata çıktı.



Mert nasıl indi?

Aşağıda asansörü kim bekliyordu?

.....
İnci ofiste çalışırken susadığını farketti. Su sebiline gidip bir bardak su doldurdu. Çalıştığı masaya doğru hızlı adımlarla gidiyordu. Önündeki ufak su birikintisini görmedi. Suyu basınca kayd ve bardağın içindeki su üzerine döküldü.



İnci nereden suyu aldı?

Sizce İnci'nin hatası nedir?

.....

Her kış ailemle birlikte amcamlara giderdik. Onların yaşadığı bölgede kar yağardı. Kuzenimle karda oyunlar oynardık. Kış yaklaşmıştı. Her geçen gün daha fazla heyecanlanıyordum. Sonunda gitme günü gelmişti. Eşyalarımızı hazırladık ve yola çıktık. Yolumuz çok uzundu. Mola vere vere devam ettik. Babam arabayı kullanırken çok zorlanıyordu. Yollar kaygan olduğu için arabanın lastiğine zincir takmıştı. Uzun süren yolculuğun ardından amcamlara vardık. Kuzenimi görünce ona sarıldım. Çok mutlu oldum. Yol yorgunu olduğumuz için biraz dinlendik. Daha sonra hep birlikte yemek yemek için sofraya oturduk. Uzun uzun sohbet ettik.



1) Her kış nereye gidiyorlardı?

2) Kuzenini görünce ne yaptı?

3) Yol yorgunu olduğu için ne yaptılar?

4) Kiminle karda oyunlar oynardı?

- A) Annesi
- B) Amcası
- C) Kuzeni

5) Metnin başlığı aşağıdakilerden hangisi olabilir?

- A) Sevimli Köpeğim
- B) Amcamlara Gidiyoruz
- C) Annemin Mutfağı

 Aşağıdaki kelimeleri alfabetik(abecesel) sıraya göre örnekteki gibi yan tarafa yazalım.

kurt	aslan
inek	inek
aslan	kurt

bilek	
çivi	
armut	

yılan	
deve	
balık	

limon	
kavun	
elma	

köpek	
saat	
atki	

iğne	
vatan	
yürek	

tencere	
su	
bardak	

kalem	
ip	
yılan	

kuğu	
ceviz	
deniz	

tere	
pirasa	
rakun	

oyun	
masa	
demir	

kale	
lale	
bale	

soru	
cevap	
yanıt	

ince	
kalın	
şişman	

uzun	
ayak	
parmak	

lamba	
güneş	
ay	

anten	
demlik	
ketçap	

biber	
erik	
ananas	

 Hece sayıları aynı olan kelimelerin kutusunu işaretleyelim.

Atatürk	
tören	
bayrak	

yurt	
sev	
millet	

karpuz	
kavun	
dört	

aslan	
çaresiz	
kurtlu	

değirmen	
oyuncak	
sarı	

kuş	
sorgu	
tren	

tencere	
saçak	
huysuzluk	

karga	
gak	
dedi	

okul	
ev	
plan	

İstanbul	
Antalya	
Bitlis	

bir	
iki	
üç	

yosun	
oku	
kart	

 Aşağıdaki kelimelerden hecelerine doğru ayrılanların başındaki kutucuğu boyayalım.

 kah | ve

 kak | a | o

 don | dur | ma

 sađl | ik

 de | ğir | men

 kit | ap | lik

 den | iz

 pen | ce | re

 ak | var | yum

 göz | lük


 sev | im | li

 vat | an | daş

 pas | ta

 kal | em | lik

 oy | un | cak

 Aşağıdaki adların ortak özellikleri vardır. Bu özellikleri tek kelimeyle yazalım.

çilek, elma, armut

meyve

karga, kartal, serçe

köpek, kedi, tilki

ilkbahar, sonbahar

pazartesi, salı

ocak, şubat, mart


kırmızı, mavi, sarı

toplama, çıkarma

boyama, çizme

gül, lale, menekşe

sıcak, deniz, tatil

 Verilen kelimelerin son harfleriyle örnekteki gibi yeni kelimeler üretelim.

saat

terlik

kayık

köpek

ahtapot

kalem

demir

su

patates

aslan

lamba

ateş

tilki

değirmen



Aşağıdaki soruları verilen metinlere göre cevaplayalım.

Parkin önündeki bankta bir çocuk oturuyordu. Çok üzgün görünüyordu. Yanına gittim. Neden üzgün olduğunu sordum. Parasını kaybettiğini söyledi. Birlikte aradık. Bulduk. Çok mutlu oldu.

1. Metnin kaç cümleden oluştuğunu yazalım.
2. Metnin kaç kelimedenden oluştuğunu yazalım.
3. Metinde kaç tane tek heceli kelime olduğunu yazalım.
4. Birinci cümlede kaç kelime olduğunu yazalım.
5. İkinci cümlede kaç hece olduğunu yazalım.
6. Son cümlede kaç harf olduğunu yazalım.
7. Metindeki tek kelimelik cümlelerin kaçınıcı sırada olduğunu yazalım.

Yazın havalar iyice ısınır. Meyveler olgunlaşır. İnsanlar tatile gider. Yaz, en sıcak mevsimdir. Yaz mevsiminin ayları; haziran, temmuz ve ağustostur.

1. Metnin dördüncü cümlesindeki tek heceli sözcüğü yazalım.
.....
.....
2. Birinci cümledeki ünlü harfleri sırasıyla yazalım.
.....
.....
3. İkinci cümledeki ünsüz harfleri sırasıyla yazalım.
.....
.....
4. Üçüncü cümledeki tüm kelimeleri hecelerine ayırıp yazalım.
.....
.....

✓ Karışık olarak verilen kelimelerden anlamlı ve kurallı cümleler oluşturalım. Yandaki boş alana, başındaki numaraları koymadan yazalım.

1 uyandık - bir - ile - gürültü

2 koştuk - hızlıca - odaya

3 düşmüştü - masadaki - vazo

4 kedi - düşürmüştü - vazoyu

5 belliydi - suçlu - olduğu

6 vazoyu - kaldırdık - kırılan

7 orayı - temizledik - güzelce

8 annem - hazırladı - kahvaltı

9 birlikte - hep - masaya - oturduk

SORULAR

1) 3 numaralı cümle kaç kelimedenden oluşmaktadır?

3) 7 numaralı cümle kaç heceden oluşmaktadır?

2) 6 numaralı cümle kaç harften oluşmaktadır?

4) 1 numaralı cümledeki tek heceli kelimeyi yazalım.

Şiiri yanındaki boş alana yazalım ve 3 kere okuyalım.

Küçük Kurbağa
Suya atladı
Gri kurbağa
Sonra sıçradı
Yeşil yaprağa
Yüzüp durdu
Yorulmadan
Nefes açtı
Hiç durmadan
Küçük kurbağa
Çok sevimli
Mavi suda
Çok deneyimli

Empty space for writing the poem, featuring horizontal dashed lines for guidance.

Kurbağa nereye atladı?

Empty space for writing the answer to the question, featuring horizontal dashed lines for guidance.

Yorulmadan ne yaptı?

Empty space for writing the answer to the question, featuring horizontal dashed lines for guidance.


Hiç durmadan ne yaptı?

Empty space for writing the answer to the question, featuring horizontal dashed lines for guidance.

Kurbağa nerede çok deneyimlidir?

Empty space for writing the answer to the question, featuring horizontal dashed lines for guidance.

Aşağıdaki resmi şiire uygun boyayalım.



* Görseli aşağıdaki şiire göre boyayalım ve şiire başlık bulalım. Altındaki soruları cevaplayalım.



Geldi yine sonbahar
Döküldü sarı yapraklar
Turuncu sincabın elinde
Kahverengi palamut var

Hangi renk yapraklar döküldü?

Sincabın elinde ne var?

* Verilen kelimeleri okuyalım.

bal
balık
balıkçı

kal
kale
kalem

dik
diken
dikenler

kaz
kazak
kazaklar

kap
kapak
kapaklı

tuz
tuzlu
tuzluk

kok
koku
kokulu

sat
satır
satırlar

düş
düşen
düşenler

sır
sıra
sıralı

koz
koza
kozalak

dil
dilek
dilekçe

çay
çaydan
çaydanlık

öz
özgür
özgürlük

Alt alta verilen toplama işlemlerini yapalım.

$$\begin{array}{r} 12 \\ + 6 \\ \hline \end{array}$$

$$\begin{array}{r} 11 \\ + 4 \\ \hline \end{array}$$

$$\begin{array}{r} 7 \\ + 8 \\ \hline \end{array}$$

$$\begin{array}{r} 19 \\ + 1 \\ \hline \end{array}$$

$$\begin{array}{r} 8 \\ + 8 \\ \hline \end{array}$$

$$\begin{array}{r} 3 \\ + 7 \\ \hline \end{array}$$

$$\begin{array}{r} 5 \\ + 4 \\ \hline \end{array}$$

$$\begin{array}{r} 11 \\ + 3 \\ \hline \end{array}$$

$$\begin{array}{r} 10 \\ + 5 \\ \hline \end{array}$$

$$\begin{array}{r} 7 \\ + 6 \\ \hline \end{array}$$

$$\begin{array}{r} 13 \\ + 4 \\ \hline \end{array}$$

$$\begin{array}{r} 10 \\ + 2 \\ \hline \end{array}$$

$$\begin{array}{r} 7 \\ + 0 \\ \hline \end{array}$$

$$\begin{array}{r} 5 \\ + 2 \\ \hline \end{array}$$

$$\begin{array}{r} 6 \\ + 8 \\ \hline \end{array}$$

$$\begin{array}{r} 10 \\ + 9 \\ \hline \end{array}$$

Yan yana verilen toplama işlemlerini yapalım.

$$11 + 6 =$$

$$5 + 5 =$$

$$12 + 7 =$$

$$13 + 2 =$$

$$0 + 4 =$$

$$19 + 1 =$$

$$15 + 4 =$$

$$8 + 1 =$$

$$7 + 7 =$$

$$13 + 7 =$$

$$16 + 3 =$$

$$9 + 9 =$$

$$11 + 2 =$$

$$14 + 4 =$$

$$10 + 0 =$$

* Aşağıdaki toplama işlemlerinde verilmeyen sayıları bulup kutuların içine yazalım.

$$\begin{array}{r} \boxed{} \\ + 2 \\ \hline 12 \end{array}$$

$$\begin{array}{r} 3 \\ + \boxed{} \\ \hline 15 \end{array}$$

$$\begin{array}{r} \boxed{} \\ + 8 \\ \hline 11 \end{array}$$

$$\begin{array}{r} 7 \\ + \boxed{} \\ \hline 10 \end{array}$$

$$\begin{array}{r} \boxed{} \\ + 9 \\ \hline 19 \end{array}$$

$$\begin{array}{r} 7 \\ + \boxed{} \\ \hline 11 \end{array}$$

$$\begin{array}{r} \boxed{} \\ + 3 \\ \hline 17 \end{array}$$

$$\begin{array}{r} 7 \\ + \boxed{} \\ \hline 15 \end{array}$$

$$\begin{array}{r} \boxed{} \\ + 9 \\ \hline 18 \end{array}$$

$$\begin{array}{r} \boxed{} \\ + 2 \\ \hline 2 \end{array}$$

$$\begin{array}{r} 0 \\ + \boxed{} \\ \hline 6 \end{array}$$

$$\begin{array}{r} \boxed{} \\ + 5 \\ \hline 12 \end{array}$$

$$\begin{array}{r} \boxed{} \\ + 7 \\ \hline 13 \end{array}$$

$$\begin{array}{r} 6 \\ + \boxed{} \\ \hline 16 \end{array}$$

$$\begin{array}{r} \boxed{} \\ + 1 \\ \hline 10 \end{array}$$

$$\begin{array}{r} \boxed{} \\ + 9 \\ \hline 10 \end{array}$$

$$\begin{array}{r} \boxed{} \\ + 6 \\ \hline 13 \end{array}$$

$$\begin{array}{r} 1 \\ + \boxed{} \\ \hline 5 \end{array}$$

$$\begin{array}{r} \boxed{} \\ + 4 \\ \hline 9 \end{array}$$

$$\begin{array}{r} \boxed{} \\ + 9 \\ \hline 13 \end{array}$$

$$\begin{array}{r} \boxed{} \\ + 12 \\ \hline 19 \end{array}$$

$$\begin{array}{r} 6 \\ + \boxed{} \\ \hline 14 \end{array}$$

$$\begin{array}{r} \boxed{} \\ + 7 \\ \hline 7 \end{array}$$

$$\begin{array}{r} 9 \\ + \boxed{} \\ \hline 9 \end{array}$$

$$\begin{array}{r} \boxed{} \\ + 1 \\ \hline 2 \end{array}$$

🎀 Cümleleri okuyalım. Verilmeyen toplananları örnekteki gibi bulalım.

9 fazlası 12 olan sayı kaçtır?

$$\boxed{3} + 9 = 12$$

4 fazlası 4 olan sayı kaçtır?

.....

5 fazlası 16 olan sayı kaçtır?

.....

9 fazlası 9 olan sayı kaçtır?

.....

6 fazlası 15 olan sayı kaçtır?

.....

3 fazlası 7 olan sayı kaçtır?

.....

2 fazlası 11 olan sayı kaçtır?

.....

1 fazlası 1 olan sayı kaçtır?

.....

10 fazlası 16 olan sayı kaçtır?

.....

4 fazlası 15 olan sayı kaçtır?

.....

8 fazlası 10 olan sayı kaçtır?

.....

1 fazlası 3 olan sayı kaçtır?

.....

3 fazlası 6 olan sayı kaçtır?

.....

4 fazlası 15 olan sayı kaçtır?

.....

8 fazlası 18 olan sayı kaçtır?

.....

 Aşağıdaki çıkarma işlemlerini örnekteki gibi yapalım.

$$\begin{array}{r} 7 \\ - 4 \\ \hline 3 \end{array}$$

.....
.....
.....

eksilen
çıkan
fark

$$\begin{array}{r} 10 \\ - 7 \\ \hline \end{array}$$

.....
.....
.....

$$\begin{array}{r} 9 \\ - 8 \\ \hline \end{array}$$

.....
.....
.....

$$\begin{array}{r} 6 \\ - 5 \\ \hline \end{array}$$

.....
.....
.....

$$\begin{array}{r} 14 \\ - 7 \\ \hline \end{array}$$

.....
.....
.....

$$\begin{array}{r} 7 \\ - 7 \\ \hline \end{array}$$

.....
.....
.....

$$\begin{array}{r} 5 \\ - 0 \\ \hline \end{array}$$

.....
.....
.....

$$\begin{array}{r} 13 \\ - 2 \\ \hline \end{array}$$

.....
.....
.....

$$\begin{array}{r} 15 \\ - 5 \\ \hline \end{array}$$

.....
.....
.....

$$\begin{array}{r} 11 \\ - 3 \\ \hline \end{array}$$

.....
.....
.....

$$\begin{array}{r} 20 \\ - 4 \\ \hline \end{array}$$

.....
.....
.....

$$\begin{array}{r} 9 \\ - 3 \\ \hline \end{array}$$

.....
.....
.....

$$\begin{array}{r} 8 \\ - 4 \\ \hline \end{array}$$

.....
.....
.....

$$\begin{array}{r} 12 \\ - 6 \\ \hline \end{array}$$

.....
.....
.....

$$\begin{array}{r} 20 \\ - 5 \\ \hline \end{array}$$

.....
.....
.....

Alt alta verilen çıkarma işlemlerini yapalım.

$$\begin{array}{r} 12 \\ - 6 \\ \hline \end{array} \quad \begin{array}{r} 18 \\ - 5 \\ \hline \end{array} \quad \begin{array}{r} 15 \\ - 7 \\ \hline \end{array} \quad \begin{array}{r} 17 \\ - 9 \\ \hline \end{array} \quad \begin{array}{r} 10 \\ - 8 \\ \hline \end{array} \quad \begin{array}{r} 10 \\ - 1 \\ \hline \end{array} \quad \begin{array}{r} 11 \\ - 0 \\ \hline \end{array}$$

$$\begin{array}{r} 8 \\ - 7 \\ \hline \end{array} \quad \begin{array}{r} 13 \\ - 5 \\ \hline \end{array} \quad \begin{array}{r} 9 \\ - 6 \\ \hline \end{array} \quad \begin{array}{r} 19 \\ - 9 \\ \hline \end{array} \quad \begin{array}{r} 19 \\ - 1 \\ \hline \end{array} \quad \begin{array}{r} 16 \\ - 8 \\ \hline \end{array} \quad \begin{array}{r} 5 \\ - 3 \\ \hline \end{array}$$

$$\begin{array}{r} 20 \\ - 5 \\ \hline \end{array} \quad \begin{array}{r} 3 \\ - 2 \\ \hline \end{array} \quad \begin{array}{r} 6 \\ - 5 \\ \hline \end{array} \quad \begin{array}{r} 9 \\ - 2 \\ \hline \end{array} \quad \begin{array}{r} 12 \\ - 9 \\ \hline \end{array} \quad \begin{array}{r} 15 \\ - 4 \\ \hline \end{array} \quad \begin{array}{r} 18 \\ - 2 \\ \hline \end{array}$$

$$\begin{array}{r} 10 \\ - 5 \\ \hline \end{array} \quad \begin{array}{r} 12 \\ - 3 \\ \hline \end{array} \quad \begin{array}{r} 14 \\ - 8 \\ \hline \end{array} \quad \begin{array}{r} 16 \\ - 7 \\ \hline \end{array} \quad \begin{array}{r} 17 \\ - 8 \\ \hline \end{array} \quad \begin{array}{r} 15 \\ - 3 \\ \hline \end{array} \quad \begin{array}{r} 11 \\ - 0 \\ \hline \end{array}$$

Yan yana verilen çıkarma işlemlerini yapalım.

$$11 - 6 = \quad 12 - 5 = \quad 10 - 0 = \quad 6 - 6 =$$

$$9 - 3 = \quad 7 - 5 = \quad 15 - 5 = \quad 5 - 1 =$$

$$18 - 4 = \quad 8 - 1 = \quad 16 - 7 = \quad 7 - 3 =$$

$$15 - 9 = \quad 10 - 8 = \quad 3 - 2 = \quad 8 - 2 =$$

✂ Aşağıdaki problemlerin çözümlerini yandaki kareli alanlara yapalım.

Ali'nin 7 cevizi vardı. 5 ceviz annesi, 4 ceviz babası verdi. Ali'nin toplam kaç cevizi oldu?

Buzdolabında 6 yumurta vardı. Annem marketten 12 yumurta daha aldı. Dolapta toplam kaç yumurta oldu?

Dilek 12 yaşındadır. 3 yıl sonra Dilek'in yaşı kaç olacaktır?

Pazardan 3 kilo patates, 5 kilo domates, 2 kilo muz aldım. Pazardan aldıklarımın hepsi kaç kilodur?

Burak'ın 9 misketi vardı. 7 tane de abisi verdi. Burak'ın kaç misketi oldu?

Kümeste 8 tavuk vardı. Kümese 7 tavuk daha geldi. Kümeste toplam kaç tavuk oldu?

 Aşağıdaki problemlerin çözümlerini yandaki kareli alanlara yapalım.

6 tokam vardı. 5 tane de kardeşim verdi. Toplam kaç tokam oldu?

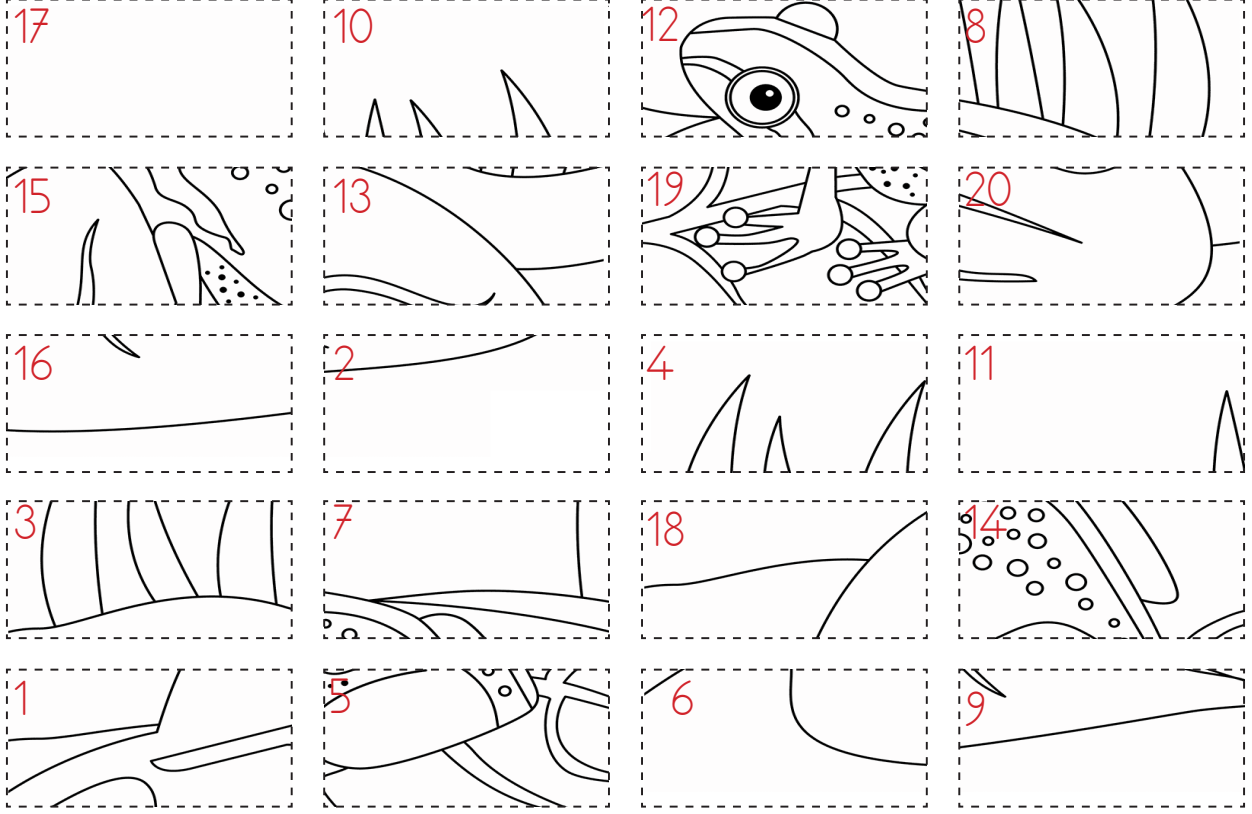
Ben 10 sayfa kitap okudum. Kardeşim benden 4 sayfa fazla okudu. Kardeşim kaç sayfa kitap okudu?

Murat'ın 12 boya kalemi, Duru'nun 7 boya kalemi var. İkinin toplam kaç boya kalemi var?

Babam 7 kavun, 6 karpuz aldı. Babam toplam kaç tane meyve aldı?

Okulun bahçesinde 8 portakal, 7 mandalina ağacı var. Okulun bahçesinde kaç ağaç vardır?

Dün 7 problem çözdüm. Bugün dünden 3 fazla problem çözdüm. Toplam kaç problem çözdüm?




✓ Yukarıdaki parçaları kestikten sonra aşağıdaki uygun alanlara yapıştıralım. Oluşan görseli istediğimiz renklere boyayalım.

$2+2$	$9+8$	$5+6$	$3+7$
$3+0$	$8+4$	$5+2$	$2+6$
$12+6$	$5+10$	$5+9$	$8+5$
$0+1$	$14+5$	$2+3$	$13+7$
$3+3$	$11+5$	$5+4$	$1+1$

3. Merdivenlerden inip çıkarken hareketlerini yapmalıyız? İşaretleyelim.

- Sağdan çıkıp soldan inmeliyiz.
- Koşarak çıkmalıyız.
- Yürüyerek inmeliyiz.
- Çantamız varsa korkuluklara tutunmalıyız.




4. Islak zeminde nasıl davranmalıyız? İşaretleyelim.

- Yerler ıslakken koşmamalıyız.
- Tabanı kaymayan ayakkabı giymeliyiz.
- Banyoda kaymayan terlik tercih etmeliyiz.
- Islak merdivenlerden koşarak inmeliyiz.



5. Asansör kullanırken nelere dikkat etmeliyiz? İşaretleyelim.

- Tek başımıza binmeliyiz.
- Asansöre dikkatli binmeliyiz.
- Kabini görmeden adım atmamalıyız.
- Asansörü çağırmak için butonlara sürekli basmalıyız.



1. Aşağıdaki cümleleri numara vererek uygun şekilde eşleştirelim.

1) Pencere ve balkonlardan

bir şey almamalıyız.

2) Tanımadığımız kişilerden

oynamamalıyız.

3) Kibrit, çakmak ve prizlerle

aşağıya sarkmamalıyız.

4) Temizlik malzemelerine

dikkatli yaklaşmalıyız.

5) Kırılabilir eşyalara

dokunmamalıyız.

2. Aşağıdaki cümlelerin başına doğruysa "D", yanlışsa "Y" yazalım.

Islak zeminler kaygan olduğu için dikkatli yürümeliyiz.

Merdivenlerden aşağı inerken koşabiliriz.

Kibrit, çakmak ve prizlerle oynamamız tehlikelidir.




































Temizlik malzemelerine istediğimiz gibi dokunabiliriz.

Ailemizin izni olmadan komşunun evine gitmemeliyiz.



Musluk suyunu açık bırakmamalıyız.



Pencereden ve balkondan sarkmamalıyız.

★ Renklerin kesişiminde bulunan yoncaların her bir yaprağını o renklere boyayalım.


★ Soldaki kaplumbağa okları takip ederek yiyeceğe ulaştı. Okları aynı şekilde sağ tarafa da çizelim ve yiyeceğe ulaştıralım.

						
↓			↑	→	→	→
↓			↑			↓
↓	→	→	→			↓
						↓
						


Görselleri, boş kutucuklardan uygun olanına yerleştirelim.

A1 A3 B3 B2 B1 C1 C2 C3 A2 

	A	B	C
1			
2			
3			


Görselleri, boş kutucuklardan uygun olanına yerleştirelim.

A1 A3 B3 B2 B1 C1 C2 C3 A2 


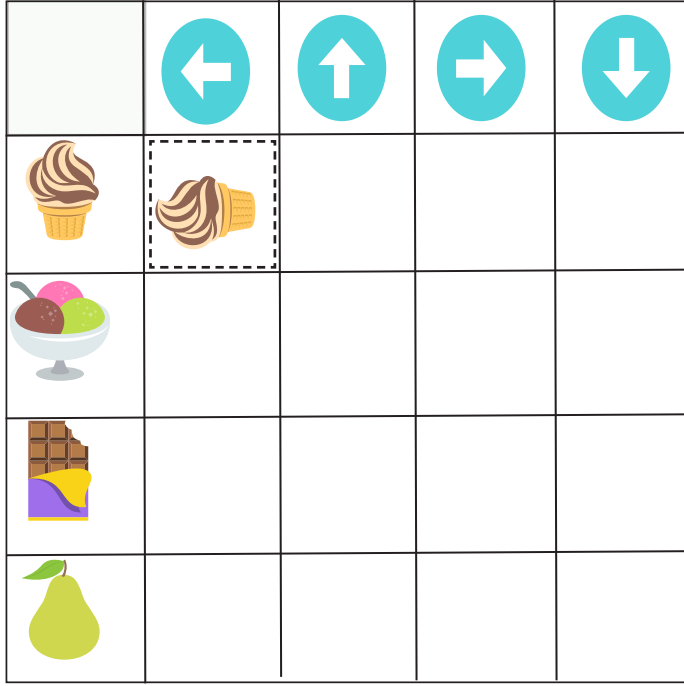
	A	B	C
1			
2			
3			

Görselleri, boş kutucuklardan uygun olanına yerleştirelim.

A1 A3 B3 B2 B1 C1 C2 C3 A2 

	A	B	C
1			
2			
3			

★ Görselleri, örnekteki gibi yandan kesip uygun kutucuklara yapıştıralım.



★ Görselleri, örnekteki gibi yandan kesip uygun kutucuklara yapıştıralım.

