

Adı:

Soyadı:

Kazanım Değerlendirme Sınavı

Dünya Öykü Günü

Selin, görsel sanatlar dersini çok seviyordu. Yine görsel sanatlar dersinin olduğu bir gün, sulu bo-yalarını çıkardı. Öğretmeni serbest çalışma yapabileceğini söyledi. Selin'in aklında müthiş bir fikir vardı. O gün, 14 Şubat Dünya Öykü Günü olduğu için kapak resmi yapmaya karar verdi. Renklerin adeta dans ettiği bir görsel ortaya çıkardı. Çalışması çok beğenildi ve panoya asıldı.



İlk 2 soruyu parçaya göre cevaplayınız.

1) Dünya Öykü Günü ne zamandır?

- A) Yarın
- B) Bugün
- C) 14 Şubat

2) Selin hangi dersi çok seviyordu?

- A) Türkçe
- B) Görsel Sanatlar
- C) Matematik

3) Ecem, ablasının sorduğu soruya yanlış cevap verdi.

Yukarıdaki cümlede altı çizili sözcüğün yerine hangisi kullanılabilir?

- A) soru
- B) yanıt
- C) yanlış



4) Yukarıdaki görsellerden hangisini yazılışları farklı, anlamları aynı olan kelimelerle ifade edebiliriz?



5) Aşağıdaki sözcüklerden hangisinin eş anlamlısı yoktur?

- A) ihtiyar
- B) soğan
- C) beyaz

6) Aşağıdakilerden hangisinde zıt anlamlı kelimeler bir arada verilmiştir?




- A) kelime - sözcük
- B) üst - alt
- C) kocaman - büyük

7)

uzak	batı
doğu	kötü
iyi	yakın

Yukarıdaki sözcükler zıt anlamlılarıyla eşleştirilecektir.

Buna göre eşleştirme nasıl olmalıdır?

- A) 
- B) 
- C) 

8)

- Havalar soğudu.
- Şişman adam yürümekte zorlandı.
- Al bayrağım göklerde dalgalanıyor.

Yukarıdaki cümlede aşağıdakilerden hangisinin zıt anlamlısı yoktur?




- A) sıcak
- B) kırmızı
- C) zayıf

9) Aşağıdakilerden hangisinin zıt anlamlısı yoktur?

- A) ileri
- B) zor
- C) insan

10) 

Yukarıdaki her bir şekil zıt yöne çevrilirse hangi görüntü oluşur?

- A) 
- B) 
- C) 



Yukarıdaki örüntü hangi şekille devam etmelidir?



Ahmet, yukarıdaki yıldızlardan bir örüntü oluşturacak. Örüntünün kuralı; 1 sarı yıldız, 2 beyaz yıldız şeklindedir.

Buna göre Ahmet yıldızları nasıl boyamalıdır?



Yukarıdaki örüntünün kuralı aşağıdakilerden hangisidir?

A) İki yıldız, bir top, iki kalp

B) Bir yıldız, iki top, bir kalp

C) İki yıldız, iki top, bir kalp



Ayın yüzeyi belirli bir kurala göre boyanıyor. Bu kurala göre “?” yerine aşağıdakilerden hangisi gelmelidir?






15) Aşağıdakilerden hangisi yaz mevsiminde yetişir?

- A) limon
- B) portakal
- C) vişne

16)







Aşağıdaki kıyafetlerden hangisi görseldeki mevsime en uygundur?

- A) 
- B) 
- C) 




17) Aşağıdakilerden hangisi kış mevsiminde yetişir?

- A) karpuz
- B) erik
- C) mandalina

18)

YAZ	KIŞ
	
	

Yukarıdaki tabloda hangileri yanlış yerleştirilmiştir?

- A) 
- B) 
- C) 

19) Ali kalın kazağının üstüne montunu giydi ve atkısını boynuna sarıp sokağa çıktı. Kardan adam yaptı.

Bu bilgilere göre yaşanan mevsim hangisi olabilir?

- A) İlkbahar
- B) Yaz
- C) Kış

20) Aşağıdakilerden hangisi yaz mevsimi ile ilgili bir görsel olabilir?

- A) 
- B) 
- C) 