

Ad:
Soyad:

Kazanım Değerlendirme Sınavı

YARDIMSEVER ALİ

Ali yolda yalnız yürüyordu. Tam yolun karşısında kaldırımda yaşlı bir amca gördü. Yaşlı amca karşıdan karşıya geçmeye çalışıyordu. Arabalar çok hızlı gittiği için yolun karşısına geçemiyordu. Ali, arabalara kırmızı ışığın yandığını görünce yaşlı amcanın yanına gitti. Yaşlı amcanın koluna girip yolun karşısına geçirdi. Yaşlı amca, Ali'ye teşekkür etti.

1. Ali yolda kimle yürüyordu?

- A) yalnız
- B) annesiyle
- C) babasıyla

2. Ali ne zaman yaşlı amcanın yanına gitti?

- A) Yayalara kırmızı ışık yanınca
- B) Arabalara kırmızı ışık yanınca
- C) Yaşlı amca düşünce

3.



Eşya adları



Kişi Adları



Bayram adları

Yukarıdaki sözcüklerin hangisinde yazım yanlışı vardır?

A)



B)



C)



4.

Bursalı

ilkbahar

Ali'nin

Berke'ler

Yukarıdaki tabloda yazımı doğru sözcüklerin bulunduğu kutular boyanırsa hangi görüntü oluşur?



Ad:
Soyad:

Kazanım Değerlendirme Sınavı

5. Aşağıdakilerden hangisi öykü unsurlarından biri değildir?

- A) olay
- B) yer
- C) düşünce

6. Okuduğunuz bir öykünün unsurlarını belirlerken 5N1K unsurlarından hangisini kullanmalıyız?

- A) olay
- B) yer
- C) düşünce

7.

Bir pazar sabahı

Büyük park

Salıncakta heyecanla sallanması

yer

olay

zaman

ana kahraman

Yukarıdaki bilgilerle öykü unsurları eşleştirildiğinde hangisi dışta kalır?

- A) ana kahraman
- B) zaman
- C) olay

8. Yüksek sestten korkan Selim'in balon patlaması sırasında yaşadıkları

Yukarıda hangi öykü unsuru ile ilgili açıklama yapılmamıştır?

- A) Ana kahraman
- B) yer
- C) olay

9. Aylin'in yeni aldığı "Kar Yağıyor" adlı kitapta anlatılan olaylar ne zaman geçmiş olabilir?

- A) Ocak ayı
- B) Aralık ayı
- C) Haziran ayı

10.

 Kasımın

 Adanalı

 İlkaylar

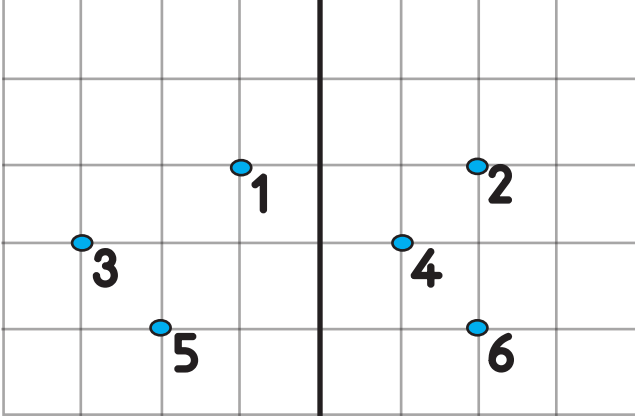
Yukarıdaki sözcüklerin hangisinde yazım yanlışı vardır?

- A) 
- B) 
- C) 

Ad:
Soyad:

Kazanım Değerlendirme Sınavı

☞ 11, 12 ve 13. soruları aşağıdaki şekle göre yanıtlayınız.



11. 2'nin tam altında hangi rakam vardır?

- A) 4 B) 5 C) 6

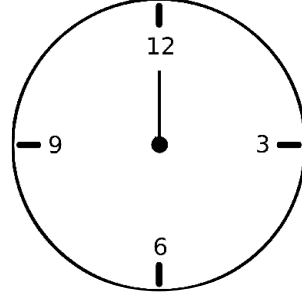
12. 5'in tam karşısında hangi rakam vardır?

- A) 6 B) 3 C) 1

13. 1 ile 5'in bulunduğu alandaki iki sayı arasında hangi rakam vardır?

- A) 2 B) 3 C) 4

☞ 14, 15 ve 16. soruları aşağıdaki şekle göre yanıtlayınız.



14. 12 noktasından saat yönünde çeyrek dönüş yapıldığında hangi sayıya ulaşılır?

- A) 3 B) 6 C) 9

15. 12 noktasından saatin tersi yönünde yarım dönüş yapıldığında hangi sayıya ulaşılır?

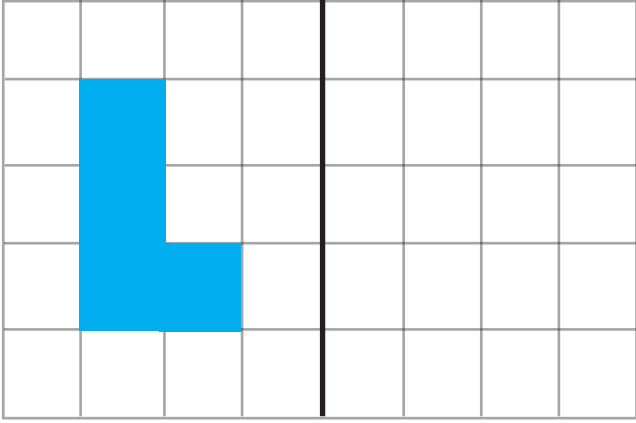
- A) 6 B) 9 C) 12

16. 12 noktasından saat yönünde tam dönüş yapıldığında hangi sayıya ulaşılır?

- A) 12 B) 3 C) 6

Ad:
Soyad:

Kazanım Değerlendirme Sınavı

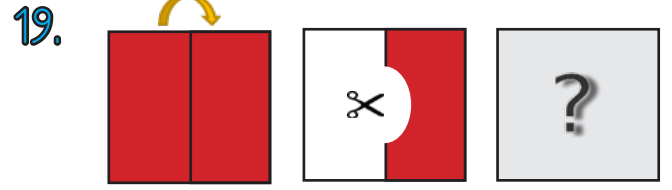


17. Kareli zeminde verilen boyalı şeklin simetriği hangisidir?




18. Aşağıdaki şekiller ve bu şekilleri oluşturan parçalar eşleştirilmiştir.

Hangi şeklin parçaları simetrik değildir?



Görselde kağıt katlanıp şekildeki gibi kesiliyor ve sonrasında tekrar açılıyor. "?" yerine aşağıdakilerden hangisi gelmelidir



Yukarıda simetrik parçalarından biri verilen şeklin bütünü hangisidir?



Ad:
Soyad:

Kazanım Değerlendirme Sınavı

21. Aşağıdakilerden hangisi sağlık alanında hizmet veren meslek çalışanı değildir?

- A) polis
- B) doktor
- C) hemşire




22. Hastalıkları teşhis ve tedavi eden, hangi ilaçları kullanacağımıza karar veren sağlık çalışanı hangisidir?

- A) hemşire
- B) doktor
- C) itfaiye

23.



Yukarıdakilerden hangisi, doktorun yardımcısıdır?

- A) 
- B) 
- C) 

24. Akay merdivenden düştüğü sırada dizleri kanamıştır.

Akay aşağıdakilerden hangisini öncelikle yapmalıdır?

- A) Dizlerine ilaç sürmelidir.
- B) Hastaneye gitmelidir.
- C) Eve gidip yatmalıdır.



25. Aşağıdakilerden hangisi yemekte uyduğumuz görgü kurallarından biri değildir?

- A) Yemek yerken konuşabiliriz.
- B) Yemek yerken ağızımızı kapatmalıyız.
- C) Yemek yerken çatal, kaşık ve bıçak kullanmalıyız.

26.



Hangisi yemek yerken görgü kurallarına uymamaktadır?

- A) 
- B) 
- C) 