

Adı:


Soyadı:

Genel Değerlendirme

22. hafta

Şakacı Fıldır

Ahırdaki inekler, Fıldır'ın şakalarından bıkmıştı. Tüm şakaları sadece kendisine komik geliyordu. Diğer inekler bu durumdan şikayetçiydi. Aralarında toplanıp Fıldır'a bir ders vermeye karar verdiler. Fıldır'ın yaptığı şakalardan birini ona yaptılar. Fıldır bu durum karşısında ne yapacağını şaşırды. Şaka ona yapılırınca hiç de komik olmamıştı. Empati kurunca anladı ki kendine yapılmasını istemediği şeyi başkasına yapmamalıydı. Sonrasında diğer ineklere karşı daha dikkatli davranmaya başladı.



İlk 2 soruyu parçaya göre cevaplayınız.

1) Fıldır'ın şakaları kime komik geliyordu?

- A) Tüm hayvanlara
- B) Sahibine
- C) Kendisine

2) İnekler aralarında toplanıp ne yapmaya karar verdiler?

- A) Fıldır'a ders vermeye
- B) Fıldır'ı ahırdan atmaya
- C) Fıldır'ı dövmeğe

3) Aşağıda satır sonuna sığmayan kelimeler verilmiştir. Hangisinin ayrımı yanlıştır?

- A) a- raba
- B) ke- lime
- C) du- man

4) Aşağıdaki cümlelerden hangisinde ön ad kullanılmıştır?

- A) Gözlüğümü takmalıyım.
- B) Kırık cam ayağına battı.
- C) Dün seni gördüm.

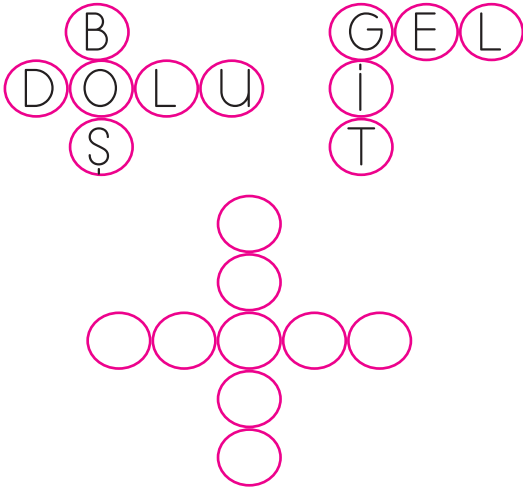
5) Samet 'in ailesi yolculuk yap mak için arabaya bindi 

Yukarıdaki cümlede sembollerle gösterilen yerlere hangi noktalama işaretleri yazılmalıdır?



- A) (,) (,) (.)
B) (') (-) (.)
C) (') (,) (?)

6)



Bulmacadaki kelimelerin anlam ilişkisine göre boş alana hangi kelimeler yazılmalıdır?

- A) SİYAH - BEYAZ
B) KISA - UZUN
C) AL - KIRMIZI

7) ● Kalın kazak giydiği için üşümedi.

Yukarıdaki cümlede hangisinin özelliği belirtilmiştir?

- A) kazak
B) kalın
C) giydiği

8) Aşağıdaki sözcüklerden hangisi bir varlığın özelliğini belirtmez?




- A) kırık B) ince
C) kalem

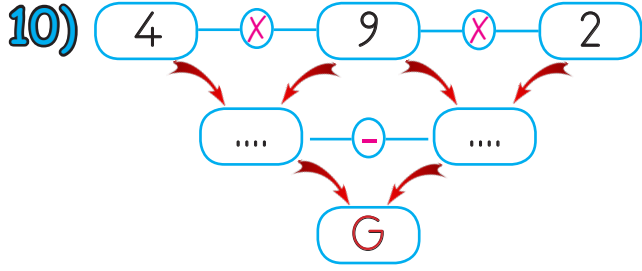
9)

silgi	at
kalemlik	tahta

Aldığı ekten dolayı anlamı değişen bölümler boyanacaktır.

Buna göre tablonun boyalı hali aşağıdakilerden hangisi gibi olacaktır?

- A)  B) 
C) 



Yukarıdaki şemada işlemler sırasıyla yapılırsa "G" yerine hangi sayı yazılır?

- A) 18 B) 20 C) 22

11) Bir kolide 6 yumurta vardır. 4 kolide toplam kaç yumurta bulunur?

Yukarıdaki problemin çözümü hangi seçenekte verilmiştir?

- A) $6 + 6 + 6 + 6 = 24$
 B) $4 + 4 + 4 + 4 = 16$
 C) $4 + 6 = 10$

12) Halit'in cebinde 4 tane 5 lira vardır. Halit'in cebinde kaç lira vardır?

- A) 9 B) 20 C) 30

- 13) 5'in 4 katı = \triangle
 3'ün 9 katı = \circ
 2'nin 5 katı = \square

Yukarıda verilenlere göre hangisi yanlıştır?

- A) \triangle ile gösterilen sayı 20'dir.
 B) \circ ile gösterilen sayı 24'tür.
 C) \square ile gösterilen sayı 10'dur.

14) Hasan'ın 8 bilyesi vardır. Enes'in bilyelerinin sayısı ise Hasan'ın bilyelerinin sayısının 3 katıdır. İkisinin toplam kaç bilyesi vardır?

- A) 11 B) 24 C) 32

15) Pınar 9 yaşındadır. Ablasının yaşı Pınar'ın yaşının 2 katıdır. İkisinin yaşları toplamı kaçtır?

- A) 27 B) 18 C) 11

16)



Okula gelirken uy-
mamız gereken trafik
kuralları nelerdir?

Verilen cevaplardan hangisi
yanlıştır?

- A) Karşıdan karşıya geçerken
koşmalıyız.
- B) Trafik ışıklarının olduğu
yerden karşıya geçmeliyiz.
- C) Karşıdan karşıya geçerken
alt ve üst geçitleri kullan-
malıyız.

17) Aşağıdaki taşıtlardan hangisi
farklı yerde hareket eder?



18)

Taşıt	Hareket ettiği yer	Yük ve yolcu aldığı yer
otobüs	karayolu	terminal
uçak


Yukarıdaki tabloda boş bırakılan
yerlere sırasıyla aşağıdakilerden
hangisi gelmelidir?

- A) karayolu - gar
- B) hava yolu - havaalanı
- C) deniz yolu - liman

19) Otobüs ve minibüslerin yol-
cu indirip bindirdikleri yere ne
denir?

- A) havaalanı
- B) durak
- C) liman

20)



Yandaki ulaşım
aracını kullananla-
ra ne denir?

- A) vatman
- B) şoför
- C) kaptan