

Faruk, çalışma masasına oturdu. Önünde duran resim defterinin sayfalarını çevirdi. İçini dikkatlice inceledi. Sayfalarda, küçükken yaptığı resimleri gördü. Renkli kalemlerle yaptığı çalışma dikkatini çekti. Renklerin uyumu çok hoşuna gitmişti.



1. ve 2. soruları metne göre cevaplayalım.

1. Faruk neyin sayfalarını çevirdi?

- A. Matematik defterinin
- B. Türkçe defterinin
- C. Resim defterinin

2. Faruk sayfalarda neyi gördü?

- A. Küçükken yaptığı resimleri
- B. Annesini ve babasını
- C. Hayvan resimlerini

3. Aşağıdakilerden hangisi hem harf hem hecedir?

- A. el
- B. 5
- C. o

4.



Yukarıdaki varlığın ismi kaç harften oluşmaktadır?

- A. 5
- B. 6
- C. 7

5.

kitaplık

Yukarıdaki kelime satır sonuna sığmamıştır. Hangi seçenekte doğru yazılmıştır?

- A. kit-aplık
- B. kitap-lık
- C. kita-plık

6. Aşağıdaki kelimelerden hangisinin ismi 2 hecelidir?

- A. 
- B. 
- C. 

7. Aşağıdakilerden hangisi 4 harf, 1 heceden oluşmuştur?

- A. Kale  
B. Dört  
C. Sayı

8.  bilgisayar  
 zürafa  
 deniz

Yukarıdaki kelimelerden hangisinin hece sayısı fazladır?

- A.  B.  C. 

9. Aşağıdaki kelimelerden hangisinin yazımında yanlışlık yapılmamıştır?

- A. pilan B. sovan  
C. tren

10. Okula giderken yolda arkadaşımı .....

Noktalı yere aşağıdakilerden hangisi yazılmalıdır?

- A. sınıf B. bitti C. gördüm

11.   

Anlamli kelime oluşturmak için noktalı yere hangisi gelmelidir?

- A. dört  
B. sar  
C. sil

12. Aşağıdakilerden hangisinin zıt anlamlısı yoktur?

- A. uzun  
B. kitap  
C. şişman

1. Aşağıdaki sayılardan hangisinin okunuşu yanlış yazılmıştır?

- A. 38 : Otuz sekiz  
B. 63 : Altı üç  
C. 21 : Yirmi bir

2.



Yukarıdaki balonlara 6 balon daha eklenirse kaç balon olur?

- A. 14      B. 12      C. 8

3. (57) (56) (55) (....) (53) (52) (51)

Yukarıdaki ritmik saymada hangi sayı verilmemiştir?

- A. 54      B. 53  
C. 55

4. (2) (4) (6) (....) (10) (12)

Yukarıdaki ritmik saymada verilmeyen sayı hangisidir?

- A. 8      B. 6      C. 10

5. Sekiz eksi beş eşittir üç

Yukarıdaki cümlenin matematiksel ifadesi hangisidir?

- A.  $8 + 5 = 3$   
B.  $8 - 5 = 3$   
C.  $3 + 8 = 5$

6. Aşağıdaki toplama işlemlerinden hangisinin sonucu doğru değildir?

- A.  $6 + 9 = 15$   
B.  $4 + 8 = 12$   
C.  $3 + 7 = 11$

7.

$$\begin{array}{r} \text{○} \\ + 2 \\ \hline 12 \end{array}$$

Yukarıdaki toplama işleminde verilmeyen toplanan kaçtır?

- A. 10  
B. 12  
C. 14

8. Arda'nın 9 tane bilyesi vardır. Mert'in 7 tane bilyesi vardır. İkisinin bilyeleri toplamı kaçtır?

- A. 2      B. 9      C. 16

9. Kolideki 20 yumurtanın 8 tanesi kırıldı. Kolide kaç yumurta kaldı?

- A. 12      B. 20  
C. 28

10. Hangi seçenekteki paraların toplamı 1 liradır

- A. 25 kr + 50 kr + 50 kr  
B. 25 kr + 25 kr + 50 kr  
C. 50 kr + 50 kr + 50 kr

11. Aşağıdakilerden hangisi çıkarma işleminin elemanlarından biri değildir?

- A. Eksilen  
B. Fark  
C. Toplanan




12. Elif 7 yaşındadır. Kardeşi, Eliften 5 yaş küçüktür. İkisinin yaşları toplamı kaçtır?

- A. 9  
B. 12  
C. 14

1. Aşağıdakilerden hangisi okulumuzun bölümlerinden değildir?

- A. market  
B. rehberlik odası  
C. müdür odası




2. Aşağıdaki hayvanların hangisinin etinden ve yumurtasından faydalanırız?

- A.  B.   
C. 




3. Aşağıdaki davranışlardan hangisi can güvenliğimiz ile ilgilidir?

- A. Oyun oynamak  
B. Pencereden aşağı sarkmak  
C. Akşam erken uyumak

4. Çocuklar gün içinde en çok hangisine zaman ayırmaktadır?

- A.  B.   
C. 



5. Aşağıdakilerden hangisine dokunmak tehlikeli olabilir?

- A.  B.   
C. 

6. Kendimizi tanıtırken aşağıdakilerden hangisini söylemeyiz?

- A. Adımızı ve soyadımızı  
B. Anenin adını  
C. Yaşımızı

7. Aşağıdakilerden hangisi karayolu taşıtı değildir?

- A.  B.   
C. 

8. Aşağıdakilerden hangisi kişisel bakım araçlarından değildir?

- A.  B.   
C. 