

➔ Şiiri yanındaki boş alana yazalım ve ezberleyelim.

### Küçük Kurbağa

Suya atladı  
Gri kurbağa  
Sonra sıçradı  
Yeşil yaprağa  
Yüzüp durdu  
Yorulmadan  
Nefes açtı  
Hiç durmadan  
Küçük kurbağa  
Çok sevimli  
Mavi suda  
Çok deneyimli

---

---

---

---

---

---

---

---

---

---

---

---

➔ Kurbağa nereye atladı?

---

---

---

➔ Yorulmadan ne yaptı?

---

---

---

➔ Hiç durmadan ne yaptı?

---

---

---


➔ Kurbağa nerede çok deneyimlidir?

---

---

---

➔ Aşağıdaki resmi, şiire uygun boyayalım.





Aşağıdaki tablolarda verilen sözcüklerin zıt anlamlılarını yazalım.

Sözcükler	Zıt Anlamlıları
tatlı	
yaşlı	
boş	
sağlam	

Sözcükler	Zıt Anlamlıları
sağ	
ince	
zengin	
beyaz	



Aşağıda verilen sözcüklerin zıt anlamlılarını bulalım. Bulduğumuz kelimeleri cümle içinde kullanalım.

gece →

Cümle : .....

uzun →

Cümle : .....

çık →

Cümle : .....

alt →

Cümle : .....

taze →

Cümle : .....

dik →

Cümle : .....

zayıf →

Cümle : .....

Ü	Z	Ü	N	T	Ü	A	Z	O	R
G	E	N	Ç	F	Z	A	Y	I	F
Ü	N	S	O	L	O	Ğ	L	A	N
Z	G	A	K	Ü	Ç	Ü	K	E	R
E	İ	V	İ	G	Ü	N	D	Ü	Z
L	N	A	Y	Ü	K	S	E	K	N
K	I	Ş	Y	A	Ş	C	E	Z	A

ŞİFRE: ○○○○○○

➔ Aşağıdaki kelimelerin zıt anlamlılarını örnekteki gibi yukarıdaki bulmacada bulup aynı renge boyayalım. Kalan harfleri sırasıyla birleştirelim ve şifreyi oluşturalım. Oluşan şifreyi yazalım.

SEVİNÇ  
ŞİŞMAN  
BÜYÜK  
YAZ

ÇİRKİN  
KOLAY  
YAŞLI  
SAĞ

ALÇAK  
FAKİR  
BARİŞ  
KIZ

GECE  
KURU  
ÖDÜL  
AZ

➔ Kelebeklerin kanatlarındaki kelimeleri zıt anlamlılarıyla aynı renge boyayalım.

öz  
doğu

soru  
ham

sağlam  
kısa

iniş  
cevap

uzun  
sıvı

çürük  
üvey

olgun  
yokuş

batı  
katı

## 1. Etkinlik

Kelime gruplarından cümle olanların kutusunu işaretleyelim.

Ali evde yatıyor

Görüyorum

Seninle oraya

Denizde yüzmek hoşuma

Haftanın ilk

Kitap okumayı çok

Dün gece yağmur yağdı

Dünya, Güneş'in etrafında dönüyor

Bir yılda dört mevsim var

Onunla ne yapmayı

## 2. Etkinlik

Aşağıdaki kelime gruplarını tamamlayarak cümleler oluşturalım.

→ Bugün yağmur .....

→ Babamın doğum gününü .....

→ Arda futbol oynamayı .....

→ Her sabah kalktığında elimi, yüzümü .....

→ Hava soğuk olduğu için yorganın altına .....

yıkarım

kutladık

girdim

seviyor

yağdı

## 3. Etkinlik

Karışık olarak verilen kelimelerden anlamlı ve kurallı cümleler oluşturalım.

ağacının

dökülmez

yaprakları

çam

→ .....

geldi

eve

bizim

misafir

→ .....

Sinan

top

oyladı

arkadaşıyla

→ .....

★ Karışık olarak verilen kelimelerden anlamlı ve kurallı cümleler oluşturalım. Yandaki boş alana, başındaki numaraları koymadan yazalım.

- 1) uyandık - bir - ile - gürültü
- 2) koştuk - hızlıca - odaya
- 3) düşmüştü - masadaki - vazo
- 4) kedi - düşürmüştü - vazoyu
- 5) belliydi - suçlu - olduğu
- 6) vazoyu - kaldırdık - kırılan
- 7) orayı - temizledik - güzelce
- 8) annem - hazırladı - kahvaltı
- 9) birlikte - hep - masaya - oturduk

---

---

---

---

---

---

---

---

---

### SORULAR

1) 3 numaralı cümle kaç kelimedenden oluşmaktadır?

-----

2) 6 numaralı cümle kaç harften oluşmaktadır?

-----

3) 2 numaralı cümle kaç harften oluşmaktadır?

-----

4) 7 numaralı cümle kaç heceden oluşmaktadır?

-----

5) 5 numaralı cümle kaç kelimedenden oluşmaktadır?

-----

6) 1 numaralı cümle kaç heceden oluşmaktadır?

-----

➔ Aşağıdaki çıkarma işlemlerini örnekteki gibi yapalım.

$$\begin{array}{r} 7 \\ - 4 \\ \hline 3 \end{array}$$

...eksilen...  
...çıkan...  
...fark...

$$\begin{array}{r} 10 \\ - 7 \\ \hline \end{array}$$

$$\begin{array}{r} 9 \\ - 8 \\ \hline \end{array}$$

$$\begin{array}{r} 6 \\ - 5 \\ \hline \end{array}$$

$$\begin{array}{r} 14 \\ - 7 \\ \hline \end{array}$$

$$\begin{array}{r} 7 \\ - 7 \\ \hline \end{array}$$

$$\begin{array}{r} 5 \\ - 0 \\ \hline \end{array}$$

$$\begin{array}{r} 13 \\ - 2 \\ \hline \end{array}$$

$$\begin{array}{r} 15 \\ - 5 \\ \hline \end{array}$$

$$\begin{array}{r} 11 \\ - 3 \\ \hline \end{array}$$

$$\begin{array}{r} 20 \\ - 4 \\ \hline \end{array}$$

$$\begin{array}{r} 9 \\ - 3 \\ \hline \end{array}$$

$$\begin{array}{r} 8 \\ - 4 \\ \hline \end{array}$$

$$\begin{array}{r} 12 \\ - 6 \\ \hline \end{array}$$

$$\begin{array}{r} 20 \\ - 5 \\ \hline \end{array}$$

$$\begin{array}{r} 3 \\ - 1 \\ \hline \end{array}$$

$$\begin{array}{r} 11 \\ - 4 \\ \hline \end{array}$$

$$\begin{array}{r} 20 \\ - 9 \\ \hline \end{array}$$

## 1. Etkinlik

Aşağıda alt alta verilmiş işlemleri yapalım.

$$\begin{array}{r} 11 \\ - 3 \\ \hline \end{array}$$

$$\begin{array}{r} 14 \\ - 2 \\ \hline \end{array}$$

$$\begin{array}{r} 12 \\ - 0 \\ \hline \end{array}$$

$$\begin{array}{r} 15 \\ - 6 \\ \hline \end{array}$$

$$\begin{array}{r} 16 \\ - 4 \\ \hline \end{array}$$

$$\begin{array}{r} 18 \\ - 5 \\ \hline \end{array}$$

$$\begin{array}{r} 6 \\ - 5 \\ \hline \end{array}$$

$$\begin{array}{r} 4 \\ - 2 \\ \hline \end{array}$$

$$\begin{array}{r} 13 \\ - 2 \\ \hline \end{array}$$

$$\begin{array}{r} 19 \\ - 8 \\ \hline \end{array}$$

$$\begin{array}{r} 7 \\ - 5 \\ \hline \end{array}$$

$$\begin{array}{r} 9 \\ - 1 \\ \hline \end{array}$$

## 2. Etkinlik

Aşağıda yan yana verilmiş işlemleri yapalım.

$$12 - 3 = \dots\dots\dots$$

$$15 - 4 = \dots\dots\dots$$

$$2 - 0 = \dots\dots\dots$$

$$13 - 7 = \dots\dots\dots$$

$$17 - 5 = \dots\dots\dots$$

$$10 - 3 = \dots\dots\dots$$

$$20 - 5 = \dots\dots\dots$$

$$16 - 2 = \dots\dots\dots$$

$$14 - 9 = \dots\dots\dots$$

## 3. Etkinlik

Aşağıda işlemleri örnekteki gibi yapalım.

$$\boxed{8} - \boxed{6} = \boxed{2}$$



----- Sekiz eksi altı eşittir iki. -----

$$\boxed{6} - \boxed{2} = \boxed{\phantom{0}}$$



-----

$$\boxed{5} - \boxed{1} = \boxed{\phantom{0}}$$



-----

$$\boxed{10} - \boxed{6} = \boxed{\phantom{0}}$$



-----

1

Ahmet'in 20 tane bilyesi vardır. 6 tanesini arkadaşına verdi. Ahmet'in kaç bilyesi kaldı?


5

10 yumurtanın 4'ü kırılırsa kaç yumurta kalır?


2

Ağaçta 12 kuş vardır. Kuşların 3 tanesi uçarsa ağaçta kaç kuş kalır?


6

Bir pakette 16 kek vardır. Keklerin 5 tanesini yedim. Pakette kaç tane kek kaldı?


3

Ada 9 yaşındadır. Kardeşinin yaşı Ada'nın yaşının 3 eksigidir. Kardeşi kaç yaşındadır?


7

Büşra'nın 18 topu vardır. Toplardan 5 tanesi patladı. Büşra'nın kaç topu kaldı?


4

Bir saksıda 14 papatya vardır. Papatyaların 6 tanesi soldu. Saksıda kaç papatya kaldı?


8

Bir odada 9 sağlam lamba vardır. Lambaların 4 tanesi patladı. Geriye kaç sağlam lamba kaldı?






1 bütün 2 yarım eder.


2 yarım 1 bütün eder.

1 bütün 4 çeyrek eder.

4 çeyrek 1 bütün eder.



➔ Aşağıda görselleri verilen nesnelerin yanına "bütün", "yarım" ifadelerinden uygun olanını yazalım.


















➔ Aşağıda verilen limon gruplarındaki limonlardan kaç bütün limon oluşur? Altlarına yazalım.



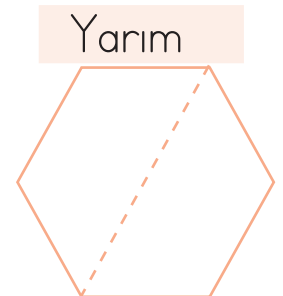
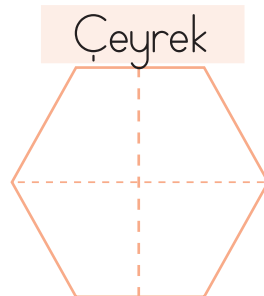
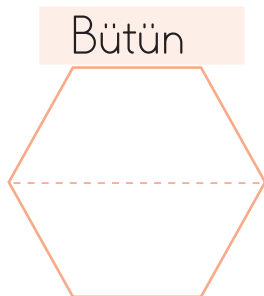
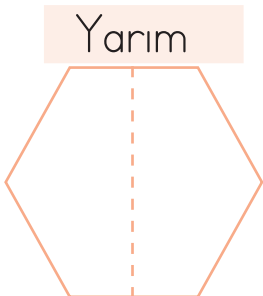
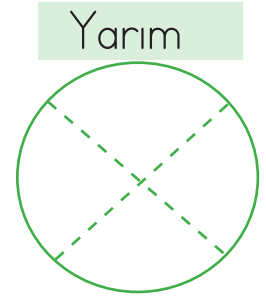
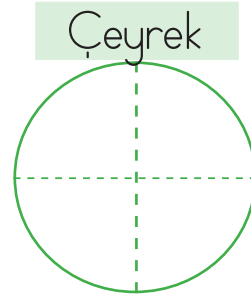
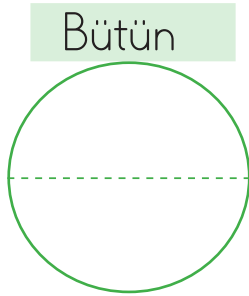
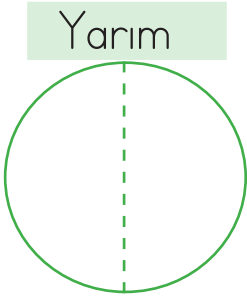
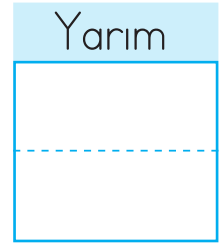
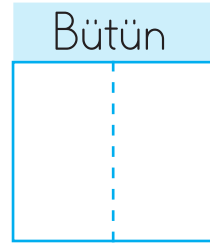
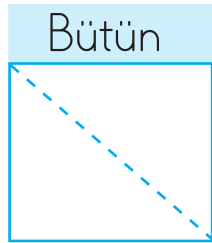
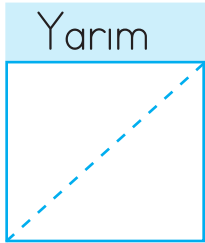
→ Aşağıda şekillerin boyalı kısımlarının bütünün ne kadarını belirttiğini "bütün, yarım" ifadelerinden uygun olanlarını yazarak belirtiniz.



Yarım




→ Aşağıda şekillerin belirtilen kısmı kadarını boyyalım.



➔ Aşağıdaki soruları çözelim. Kareli alana örnekteki gibi şekiller oluşturalım.

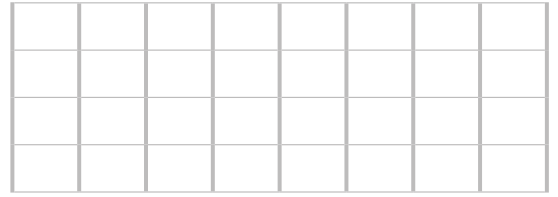
1 bütün kaç yarım eder?

2 yarım eder.....



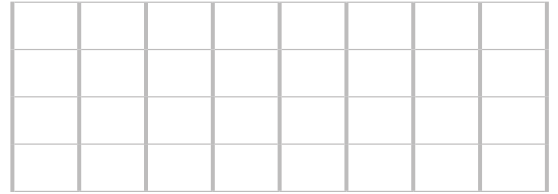
2 bütün kaç yarım eder?

.....



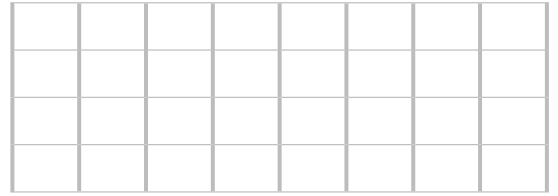
3 bütün kaç yarım eder?

.....



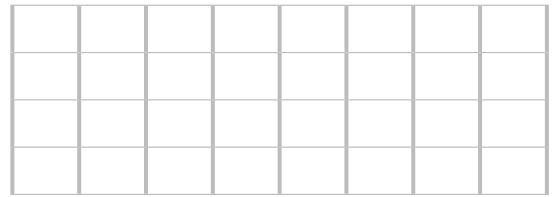
4 bütün kaç yarım eder?

.....



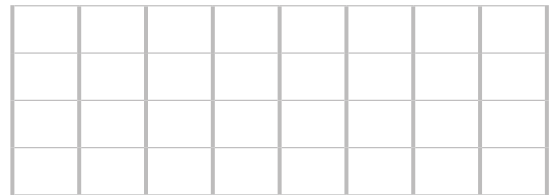
2 yarım kaç bütün eder?

.....



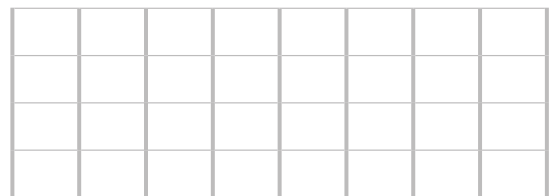
4 yarım kaç bütün eder?

.....



6 yarım kaç bütün eder?

.....



➔ Aşağıdaki numaralarla kurumları eşleştirelim.

156

187

177

122

110

İTFAİYE

ORMAN  
YANGINI

AFAD

JANDARMA

DOĞALGAZ


➔ Aşağıdaki görselleri keselim. Uygun numaraların altlarına yapıştıralım.

122

112

155

110



➔ Görsellerle güvenli oyun alanlarını eşleştirelim.




1 Oyun parkları

2 Parklar

3 Evin bahçesi

4 Trafiğe kapalı alanlar



➔ Görsellerde güvensiz alanlar verilmiştir. Görseller ile isimlerini numara vererek eşleştirelim.



1 İnşaat alanları


2 Çukurlar

3 Asansörler

4 Caddeler

5 Su kanalları

6 Süs Havuzları



1. 1 suda 2 yaşar  
3 balık

Karışık olarak verilmiş kelimelerden cümle oluşturacağız. Doğru sıralama nasıl olur?

- A. 2 - 1 - 3  
B. 3 - 1 - 2  
C. 1 - 2 - 3

2. aradı geçince eve

Karışık olarak verilmiş kelimelerden cümle oluşturacağız. Baştan ikinci kelime hangisi olur?

- A. aradı  
B. geçince  
C. eve

3. Aşağıdakilerden hangisi cümledir?

- A. Okan eve geçti  
B. Dayım bize  
C. Denize girince

4. Aşağıdaki kelimelerden hangisinin zıt anlamlısı yoktur?




- A. uzun  
B. yakın  
C. demir

5. Aşağıdaki cümlelerden hangisinde zıt anlamlı kelimeler bir arada kullanılmıştır?

- A. Sağlıklı olduğu için çok mutluymuştu  
B. Genç adam, yaşlılara yardımcı olmayı seviyor.  
C. Hava bugün kapalı.

6. çok kısa  
şişman zayıf  
uzun az

Yukarıdaki kelimeler zıt anlamlılılarıyla eşleştirilirse eşleşme nasıl olur?

- A.  B.  C. 

7.

$$\begin{array}{r} 18 \\ -5 \\ \hline \end{array}$$

Yukarıdaki işlemin sonucu hangisidir?

- A. 23      B. 13      C. 3

8. Hasan'ın 14 tane çikolatası vardır. 4 tanesini kardeşine verdi. Hasan'ın kaç çikolatası kaldı?

- A. 10      B. 8      C. 18

9.  = 18       = 6

 -  = 

işleminde  kaçtır?

- A. 24      B. 20      C. 12

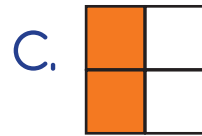
10.



Yukarıdaki harfin yarısı hangisidir?

- A.       B.       C. 

11. Aşağıdaki şekillerden hangisinin çeyreği boyanmıştır?



12. İpek 4 yarım elma yedi. İpek kaç bütün elma yemiş oldu?

- A. 4      B. 8      C. 2



13.



Yukarıdaki durumla karşılaşan Nedim amca hangi numarayı aramalıdır?

- A. 110      B. 187      C. 122

14. Aşağıdakilerden hangisi güvenli alanlardan biridir?

- A. Asansörler  
B. Oyun parkları  
C. Su kanalları

15.

Evin bahçesi	Cadde
Parklar	İnşaat alanı

Yukarıdaki tabloda güvenli oyun alanları boyanacaktır.

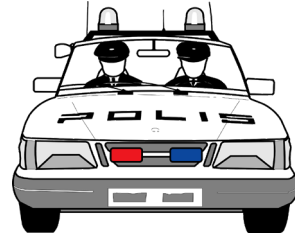
Boyandıktan sonra aşağıdaki tablolardan hangisi oluşur?

- A. 


      B. 


      C. 

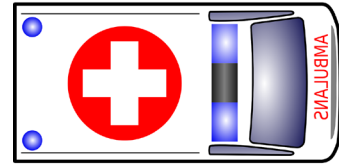

16.



Çocuklar sokakta oynarken resimdeki aracı görmüşler. Yaşanmış olabilece olayla ilgili tahminlerde bulunmuşlar. Aşağıdaki tahminlerden hangisi doğru olabilir?

- A. Yangın çıkmıştır.  
B. Biri fenalaşmıştır.  
C. Hırsızlık olmuştur.

17.



Gizem yolda görseldeki aracı görmüştür. .... numaralı kurumun arandığını düşünmüştür.

Noktalı yere hangisi gelmelidir?

- A. 122      B. 155      C. 112