

ADA'NIN YARDIMI

Ada karşıya geçmek için arabaların geçmesini sabırla bekliyordu. Etrafına bakınca yolun karşısına geçmeye çalışan minik bir köpek gördü. Minik köpek arabaların hızlı geçmesinden korkuyor, çaresizce bekliyordu. Ada hemen minik köpeğe doğru yöneldi. Gözlerine inanamadı. Bu, Ebru'nun köpeğiydi. Köpeğin adı Tarçın'dı. Tarçın'ın yanına gitti. Yayaalara yeşil ışık yandıktan sonra tasmaından tutup karşıya geçmesine yardımcı oldu. Daha sonra arkadaşı Ebru'nun evine doğru yol aldılar.



1. Karşıya geçmek için kim bekliyordu?

2. Ada ve Tarçın ne zaman karşıya geçtiler?

3. Ada, minik köpeğin yanına gelince neyi anladı?

4. Ada, minik köpeği nerede gördü?

5. Metnin başlığı kaç harften oluşmuştur?

A. 2 B. 6 C. 13

6. Görseldeki kızın elbisesi hangi renktir?

A. kırmızı
B. yeşil
C. pembe

7. Görseldeki köpeğin benekleri hangi renktir?

A. mavi
B. kahverengi
C. beyaz

➔ Aşağıdaki resmi metne uygun boyayalım, soruları cevaplayalım.

SAMET'İN BAŞINA GELENLER



Samet, sarı saçları olan beş yaşında bir çocuktur. Evlerinin bahçesindeki salıncağa binmeyi çok seviyordu. Gün boyu salıncakta sallanmak istiyordu. Annesi, Samet'i bahçeye tek başına gitmemesi konusunda sürekli uyarıyordu. Çünkü salıncakta tek başına sallanması çok tehlikelidir. Samet annesinin sözünü dinliyordu. Samet'i salıncağa babası götürüyordu. O gün babası geç kalmıştı. Samet çok sabırsızdı. Bir an önce babasının, onu salıncağın yanına

götürmesini istiyordu. Samet daha fazla dayanamayıp kırmızı tişörtünü giydi ve dışarı çıktı. Kahverengi gövdeli, yeşil yapraklı ağaçtaki salıncağa bindi. Sallanırken sarı ve mavi renkleri olan kelebeğe daldı. Dengesini kaybetti ve turuncu çitlerin dibine düştü. Ağlamaya başladı. Sesi duyan annesi koşarak Samet'in yanına geldi. Hastaneye götürdü ve Samet'e pansuman yaptırdı. Daha sonra eve döndüler. Samet çok pişman olmuştu. Bu ona büyük bir ders oldu. Bir daha annesinin sözünden hiç çıkmadı.

1) Samet dışarı çıkmak için hangi renk tişört giydi?

2) Samet'i her zaman salıncağa götüren kimdi?

→ Aşağıda verilen harflerden önce ve sonra gelen harfleri örnekteki gibi uygun yerlere yazalım.

J	K	L
	O	
	S	
	T	

	B	
	C	
	Y	
	E	

	U	
	J	
	Ğ	
	V	

→ Aşağıdaki kelimeleri örnekteki gibi hecelere ayıralım, kaç heceden oluştuđunu karşısına yazalım.

kapı



ka - pı



2 hece

bilgisayar



güneş



tren



→ Sebzeleri ve meyvelerin isimlerini altlarına yazalım.



--



--



--



--



--



--



--

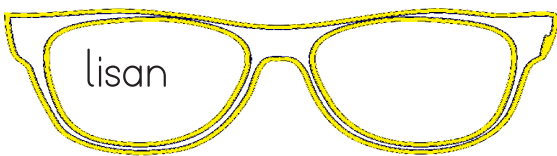
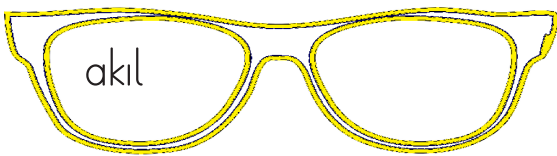

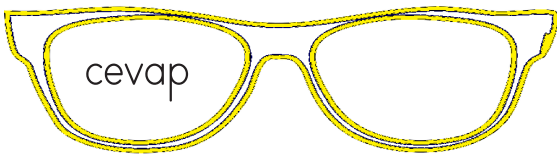
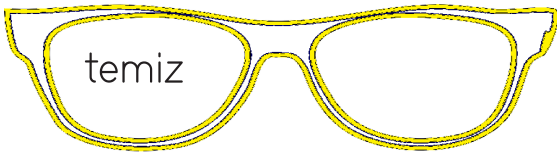
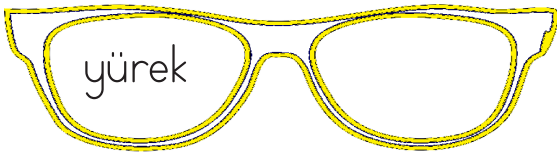
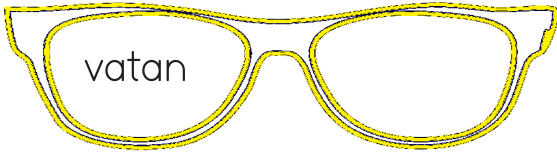
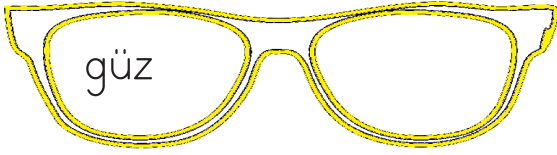
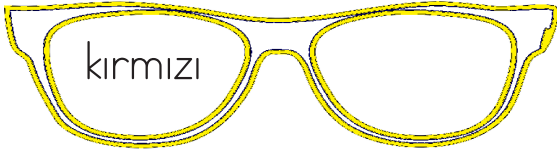


--




--

→ Gözlüklerin boş olan camına kelimelerin eş anlamlılarını yazalım.



➔ Aşağıdaki cümleleri metindeki sıralarına göre yeniden yazalım.



İnekler "mööö" diye ses çıkarır. Onların sütünden faydalanırız. İnekler ot ile beslenir. Et yemezler. Dört ayaklıdırlar.

➔ 1. Cümle :

➔ 2. Cümle :

➔ 3. Cümle :

➔ 4. Cümle :




Zebralar çizgileri olan hayvanlardır. Çok hızlı koşabilirler. Yabani hayvanlardır. Afrika'da çok fazla zebra bulunmaktadır.

➔ 1. Cümle :

➔ 2. Cümle :

➔ 3. Cümle :

➔ 4. Cümle :



Tavuklar, dünyada en fazla bulunan kuş türleridir. Uçamazlar. Yumurtlayarak çoğalırlar. Tavukların yumurtasından çıkan yavrularına civciv denir.

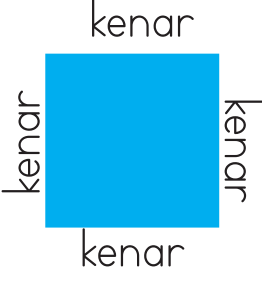

➔ 1. Cümle :

➔ 2. Cümle :

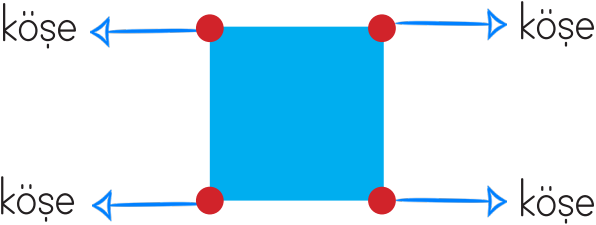
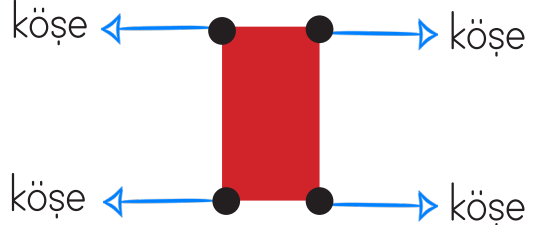

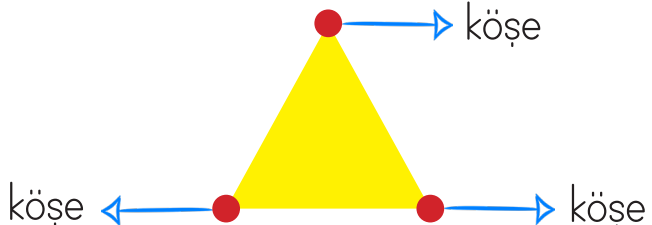
➔ 3. Cümle :

➔ 4. Cümle :



➔ Aşağıdaki açıklamaları dikkatlice okuyalım.

 <p>Dört eşit kenarı olan şekillere kare denir.</p>	 <p>Üç kenarlı kapalı şekillere üçgen denir.</p>
 <p>Dört kenarlı, karşılıklı kenarları birbirine eşit, iki uzun ve iki kısa kenarı olan şekillere dikdörtgen denir.</p>	 <p>Yuvarlak kapalı şekillere çember denir. Çemberin köşesi ve kenarı yoktur.</p>

➔ Aşağıdaki şekilleri inceleyelim.

	
 <p>Köşesi yoktur</p>	


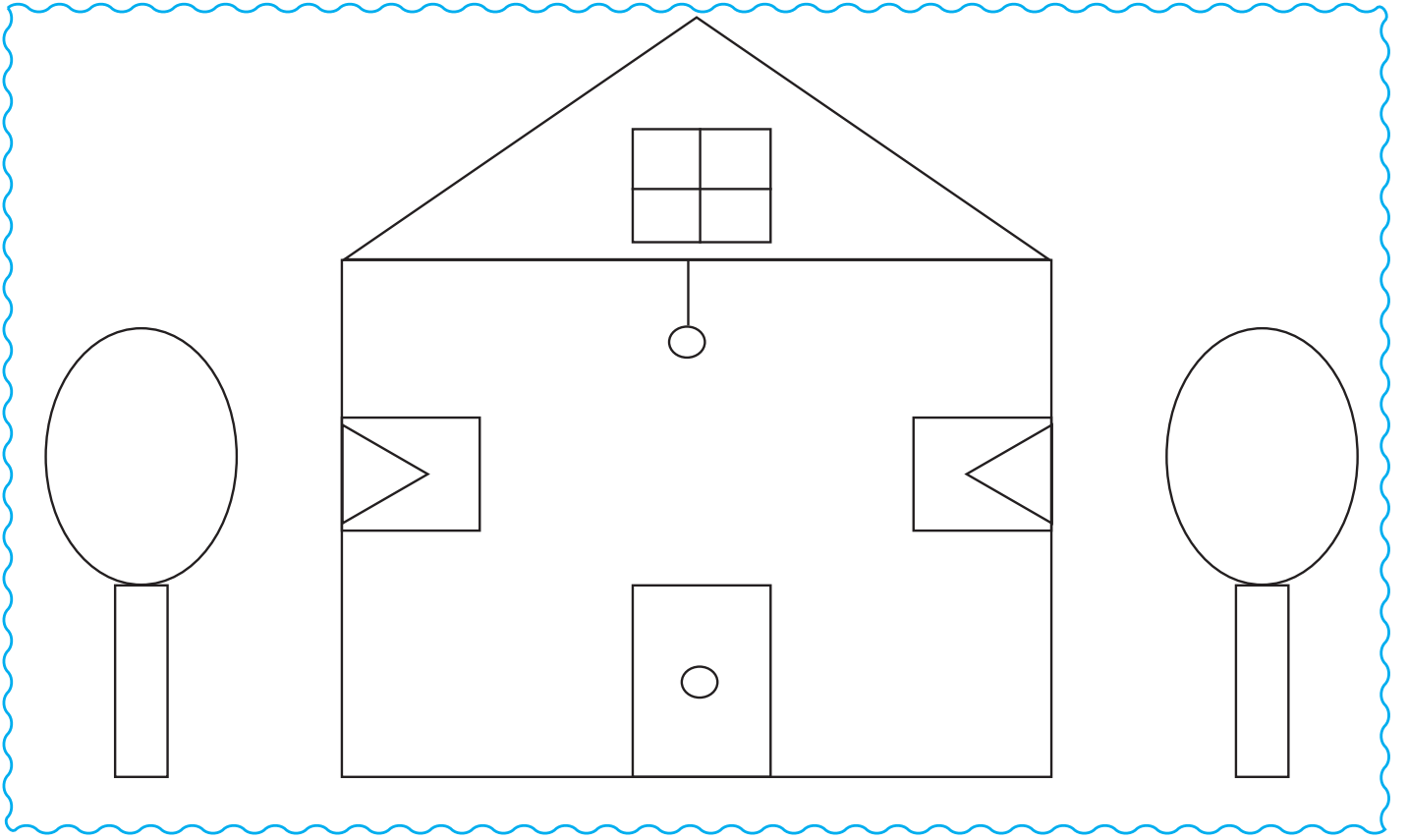
➔ Geometrik şekillerin aynısını karşılarına çizelim.



➔ Geometrik şekillerin isimlerini, kenar ve köşe sayılarını yazalım.

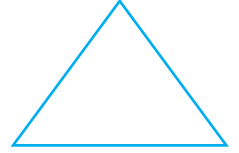
Şekil	Şeklin adı	Köşe sayısı	Kenar sayısı
			
			
			
			

➔ Resmi inceleyelim. Resimde kaç tane geometrik şekil olduğunu sayalım.
Altlarına yazalım.

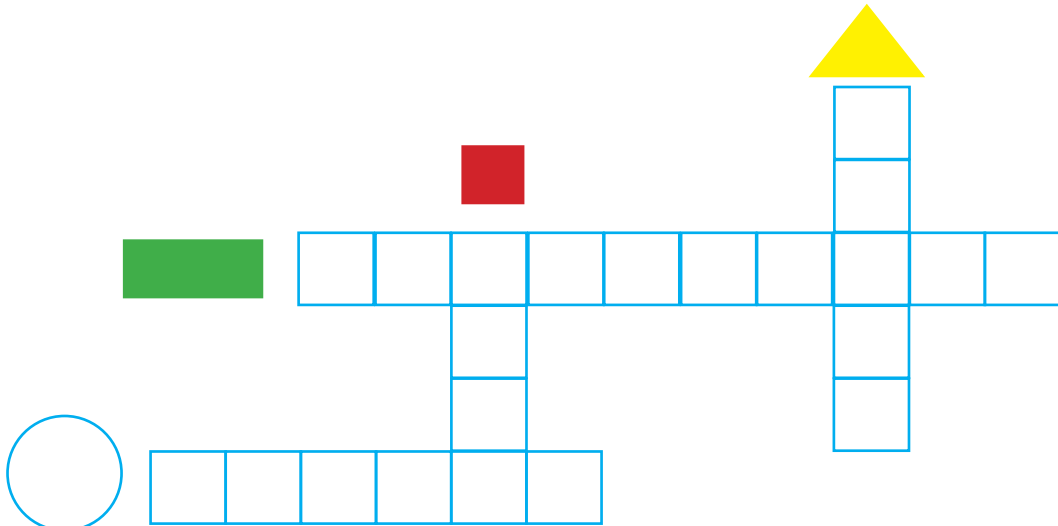








➔ Aşağıdaki geometrik şekillerin adlarını uygun şekilde bulmacaya yazalım.



Ayder Yaylası



RİZE

Sümela Manastırı



TRABZON

Karagöl



ARTVIN

Topkapı Sarayı



İSTANBUL

Balıklıgöl



ŞANLIURFA

Nemrut



ADİYAMAN

Ulubat Gölü



BURSA

Tortum Şelalesi




ERZURUM

Kapadokya



NEVŞEHİR

Zeugma



GAZİANTEP

Ani Harabeleri



KARS

İshak Paşa Sarayı



AĞRI