


Hava çok güzeldi. Seda, köpeği Benekli'yi alıp dışarı çıktı. Evin yakınlarında bir park vardı. Parkta koşup eğlendiler. Oyunlar oynadılar. Benekli, Seda ile çok iyi vakit geçiriyordu. Artık eve dönme vakti gelmişti. Çünkü annesinden bir saatlik izin alabilmişti.



1. ve 2. soruları metne göre cevaplayalım.

1. Seda, köpeği ile nerede oynadı?

- A. Parkta
- B. Bahçede
- C. Ormanda

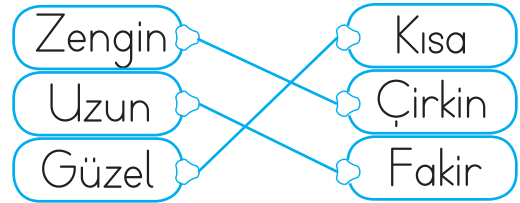
2. Seda'nın köpeğinin adı nedir?

- A. Pamuk
- B. Benekli
- C. Karabaş

3. Aşağıdakilerden hangisi "K" ve "R" harflerinin arasında değildir?

- A. M
- B. Ö
- C. S

4.



Yukarıda zıt anlamlı kelimeler eşleştirilmiştir.

Bu eşleşmelerden kaç tanesi yanlıştır?

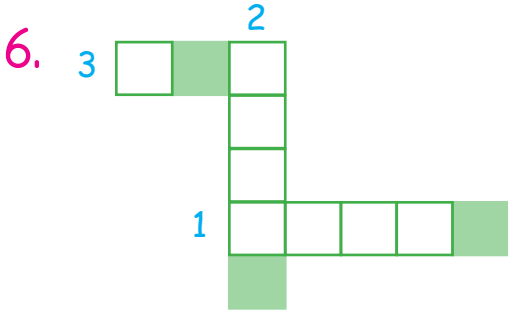
- A. 1
- B. 2
- C. 3

5.



Numaralandırılmış balonların içindeki sözcüklerden hangisinin yazımı yanlıştır?

- A. 1
- B. 2
- C. 3



1. "Mutlu" sözcüğünün zıt anlamlısı
2. "Büyük" sözcüğünün zıt anlamlısı
3. "Az" sözcüğünün zıt anlamlısı

Yukarıdaki bulmaca çözüldüğünde boyalı kutulardaki harflerle hangi sözcük oluşturulabilir?

- A. saç B. küs C. kon

7. Aşağıdakilerden hangisi "kırmızı" kelimesinin eş anlamlısıdır?


- A. Ak
B. Al
C. Siyah

8. Bal yapan, iğnesi olan ve sokan böcek.

Tanıtımı yapılan hayvan aşağıdakilerden hangisidir?

- A. B. C.

9.



Yukarıdaki sözcüklerle anlamlı ve kurallı cümle oluşturulduğunda sıralama nasıl olmalıdır?

- A. 1 - 2 - 3 - 4
B. 3 - 1 - 2 - 4
C. 2 - 4 - 1 - 3

10. Aşağıdakilerden hangisi harf değildir?

- A. 2 B. K C. A

11. Aşağıdakilerden hangisinin sonuna nokta konulmalıdır?

- A. Ayça kitap okuyor
- B. Denize girelim mi
- C. Oooo, çok güzel olmuş

12. Aşağıdakilerden hangisi cümle değildir?

- A. Benimle oynar mısın
- B. Gördüm
- C. Sabah kahvaltı

13. Aşağıdakilerden hangisi hecelerine doğru ayrılmıştır?

- A. kitap-
lık
- B. pat-
ates
- C. sek-
iz


14.


öykü	isim	kırmızı
al	harf	büyük
ad	hikaye	ses


Tahtadaki eş anlamlı sözcükler eşleştirildiğinde hangisi dışarıda kalır?

- A. harf
- B. büyük
- C. ad

15.

Ali  zaman - vakit

İsa  ak - beyaz

Can  uzak - yakın

Yukarıdaki tabloda hangi öğrencilerin yazdığı kelimeler eş anlamlı değildir?

- A. İsa
- B. Can
- C. Ali

1. Aşağıdaki saatlerden hangisi beş buçuğu göstermektedir?



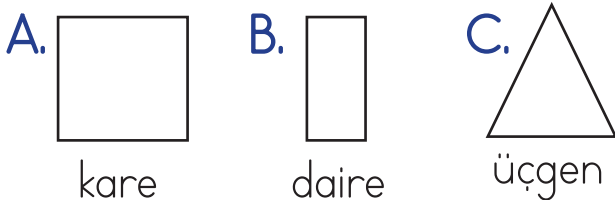
2. "Saatin uzun olan ibresine , kısa olan ibresine denir." cümlesine aşağıdakilerden hangileri sırasıyla yazılmalıdır?

- A. yelkovan - akrep
B. saat - analog
C. dakika - saniye

3. Bugün nisanın 19'u ise 3 gün sonra nisan ayının kaçınıcı günü olur?

- A. 16 B. 19 C. 22

4. Aşağıdakilerden hangisinin adı yanlış yazılmıştır?



5. Aşağıdakilerden hangisinin köşesi yoktur?

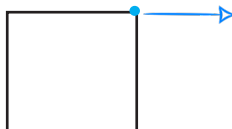


6. Aşağıdaki bilgilerden hangisi yanlıştır?

- A. Dairenin bir köşesi vardır.
B. Karenin dört köşesi vardır.
C. Üçgenin üç köşesi vardır.

7. Aşağıdaki bilgilerden hangisi çemberin özelliğidir?

- A. Bir köşesi vardır.
B. Üç kenarı vardır.
C. Köşesi ve kenarı yoktur.

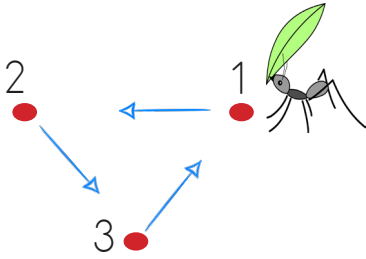
8.  Okla gösterilen yere ne ad verilir?

- A. kenar B. köşe C. çizgi

9. Hangi şeklin tüm kenar uzunlukları eşittir?

- A. kare B. daire C. üçgen

10.



Karınca 1 noktasından başlayıp ok yönünde düz bir şekilde ilerliyor. Tekrar 1 noktasına vardığında tam bir tur atmış oluyor. Karıncanın ayak izleri ile hangi geometrik şekil çıkmış olur?

- A. çember B. üçgen C. kare

11.



Yandaki kibrit çöplerinin tamamı ile hangi şekli oluşturabiliriz?

- A. çember B. kare C. üçgen

12.




Aşağıdaki hangi şeklin kenar sayısı ile yandaki şeklin kenar sayıları eşittir?


A.



B.



C.



13.



Takvim yaprağı hangi aya aittir?

A. Salı

B. 7

C. Nisan

14. Bir yılda kaç ay vardır?

A. 7

B. 12

C. 10

15. Aşağıdakilerden hangisi hafta sonunun günleridir?

A. Pazartesi - Salı

B. Çarşamba - Perşembe

C. Cumartesi - Pazar

1. ülkemizin adı, ise başkentimizin adıdır. Yukarıdaki noktalı yere hangileri sırasıyla gelmelidir?
- A. Türkiye - Ankara
B. İstanbul - Ankara
C. Türkiye - İstanbul

2. Doğal güzellikleri olan bir yere gitmek isteyen Barış aşağıdaki yerlerden hangisine gitmelidir?



3. Aşağıdakilerden hangisi Kayseri yöremize ait bir yemektir?
- A. Döner
B. Manti
C. Makarna
4. Aşağıdakilerden hangisi Adana yöremizin geleneksel yemeklerinden biridir?
- A. Tantuni
B. Manti
C. Kebap
5. Topkapı Sarayı hangi ilimizdedir?
- A. Bursa
B. Çanakkale
C. İstanbul

6. Ülkemizin kültürel mirasını öğrenmek için ziyaret etmeliyiz.

Yukarıda boş bırakılan yere hangisi gelebilir?

- A. otele
- B. müzeleri
- C. İzmir

7. Ülkemizin bayrağı hangi seçenekte verilmiştir?



8. İstanbul'u gezen biri hangisini göremez?

- A. Sümela Manastırı
- B. Dolmabahçe Sarayı
- C. Ayasofya Cami

9. Kapadokya hangi ilimizdedir?

- A. Muğla
- B. Kütahya
- C. Nevşehir

10. Karadeniz Bölgesi'nde kemençe ile oynanan halk oyunu hangisidir?

- A. Zeybek
- B. Horon
- C. Zumba