

## KÜÇÜK KARA KEDİ

Bir zamanlar küçük yemyeşil bir park varmış. Parkta çok sayıda sevimli hayvan yaşamış. Parka gelen insanlar köpekleri, kedileri, kuşları, sincapları beslemiş. Mahallenin veterineri kedi ve köpeklerin aşılarını yaparmış. Hayvanlar da bu iyi insanları çok sevmiş. Özellikle çocuklarla oyun oynamayı çok severlermiş ama küçük kara kedi çocuklarla oynayan arkadaşlarını uzaktan seyredermiş, oyunlara katılmamış. Bir gün küçük kara kedi yine oyun oynayan hayvanları ve çocukları seyrediyormuş. Parkta oynayan bir kız onu görmüş, yanına gelmiş. Küçük kara kedinin başını okşamış: "Sen neden arkadaşlarınla oynamıyorsun?" diye sormuş. Bu parkta herkesin bir ismi var : kedilerin, köpeklerin hatta sincapların bile özel isimleri var ama benim yok. Kimse seslenip beni çağırıyor demiş küçük kara kedi. Eyvah! Demiş küçük kız senin derdin çok büyükmüş, sana çabucak bir isim bulmalıyız. Küçük kara kedi: "Çok sevindir, hadi hemen bir isim bulalım." demiş. Kömür hadi gel biraz dinlen, tüm günü oyun oynadın, yoruldu diye seslenmiş küçük kız. Küçük kara kedi koşarak küçük kızın yanına gelmiş. Artık herkes beni Kömür diye çağırıyor. İsmimi o kadar çok sevdim ki heyecandan senin ismini sormayı unuttum. Senin ismin nedir, diye sormuş. Küçük kız: "Benim adım seninkine çok benziyor, benim adım Ömür." demiş. Ömür ile Kömür bu olaydan sonra çok iyi iki arkadaş olmuşlar.



## SORULAR

1) Parka gelen insanlar ne yaparmış?

---

---

---

3) Kara kediyi dinleyen küçük kız ona nasıl yardım ediyor?

---

---

---

2) Kara kedi neden üzgünmüş?

---

---

---

4) Kara kedinin yeni adı ne olmuş?

---

---

---



Aşağıdaki cümlelerde boş bırakılan yerleri verilen sözcüklerden uygun olanı ile tamamlayınız.

Harf	İsim (insan)	Şehir	Bitki	Hayvan	Eşya
H	Hasan	Hatay	Havuç	Horoz	Huni
M					
N					
C					
D					
K					
İ					
A					
E					
L					



Aşağıdaki verilen isimleri örnekteki gibi cümle içinde kullanınız.

Çilek	→	Dayımların bahçesinden <b>çilek</b> topladık.
Kuş	→	.....
Televizyon	→	.....
Ahmet	→	.....
Bisiklet	→	.....
Armut	→	.....
Adana	→	.....
Gezegen	→	.....
Elma	→	.....
Okul	→	.....
Öğretmen	→	.....



Aşağıdaki tabloda verilen isimleri örnekteki gibi özelliklerine göre işaretleyiniz.

İsimler	Tekil İsim	Çoğul İsim	Özel İsim	Tür (cins) İsmi
Patlıcan	✓			✓
Kalemler				
Aliler				
Kazak				
Arabalar				
Çiçekler				
Saksı				
Okan				
Bilgisayar				
Erikler				
Oyuncaklar				
Çorap				
Nedimler				
Resim				
Kitaplar				
Cemre				
Paten				

1

Parçalanmamış olana "bütün" denir.


1 2

Bir bütünü iki eş parçaya ayırdığımızda her bir parçaya "yarım" denir.

1 2  
3 4


Bir bütünü dört eş parçaya ayırdığımızda dört eş parçadan her birine "çeyrek" denir.

→ Bir bütünde 2 yarım vardır. Verilen yarımaları örnekteki gibi eşleştirerek kaç bütün ettiğini yazınız.



2 yarım ekmek

1 tam ekmektir.




..... yarım armut

..... tam armuttur.




..... yarım portakal

..... tam portakaldır.




..... yarım yumurta

..... tam yumurtadır.



..... yarım limon


..... tam limondur.



..... yarım sandviç

..... tam sandviçtir .

→ Bir bütünde 4 çeyrek vardır. Verilen çeyrekleri örnekteki gibi eşleştirerek kaç bütün ettiğini yazınız.




4 çeyrek karpuz  
1 tam karpuzdur.



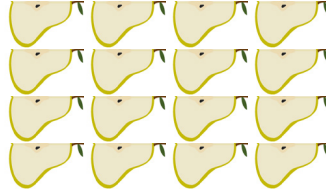
..... çeyrek karpuz  
..... tam karpuzdur.




..... çeyrek elma  
..... tam elmadır.



..... çeyrek pizza  
..... tam pizzadır.



..... çeyrek armut  
..... tam armuttur.

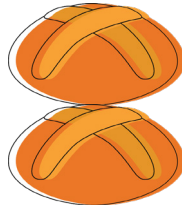


..... çeyrek sandviç  
..... tam sandviçtir.


→ Aşağıdaki bütünlerin kaç yarım ettiğini örnekteki gibi bulup yazınız



1 bütün pizza  
2 yarım pizzadır.




..... bütün ekmek  
..... yarım ekmektir.




..... bütün domates  
..... yarım domatestir.



..... bütün muz  
..... yarım muzdur.




..... bütün karpuz  
..... yarım karpuzdur.



..... bütün limon  
..... yarım limondur..

➔ Aşağıdaki bütünlerin kaç çeyrek ettiğini örnekteki gibi bulup yazınız.




1 tam portakal  
4 çeyrek portakaldır.




..... tam armut  
..... çeyrek armuttur.



..... tam çikolata  
..... çeyrek çikolatadır.



..... tam pasta  
..... çeyrek pastadır.



..... tam elma  
..... çeyrek elmadır.



..... tam kurabiye  
..... çeyrek kurabiyedir.

➔ Aşağıdaki cümlelerdeki boşlukları dolduralım.

2 bütün ekmek ..... yarım ekmek eder.

4 bütün elma ..... yarım elma eder.

6 bütün kurabiye ..... yarım kurabiye eder.

3 bütün çikolata ..... çeyrek çikolata eder.

5 bütün muz ..... çeyrek muz eder.

4 yarım karpuz ..... bütün karpuz eder.


6 yarım pizza ..... bütün pizza eder.

8 çeyrek pasta ..... bütün pasta eder.

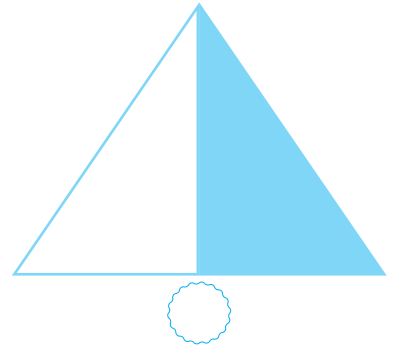

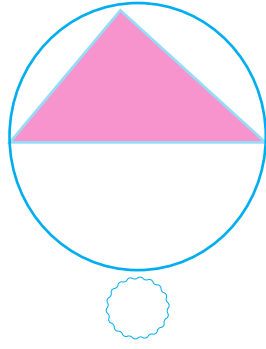
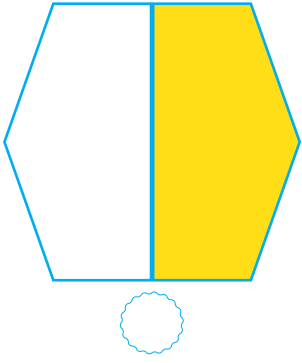
12 çeyrek armut ..... bütün armut eder.

8 yarım portakal ..... bütün portakal eder.

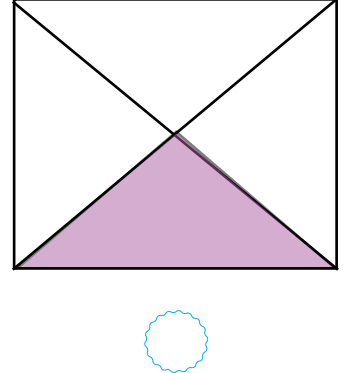
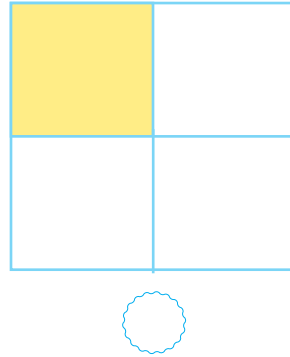


16 çeyrek limon ..... bütün limon eder.



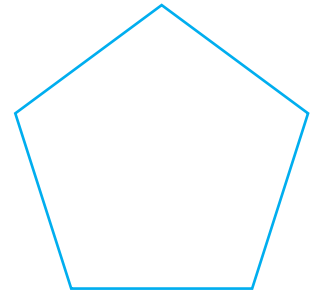

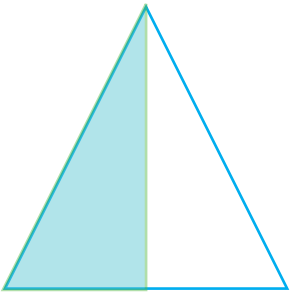
➔ Aşağıdaki şekillerden yarısı boyalı olanları işaretleyiniz.



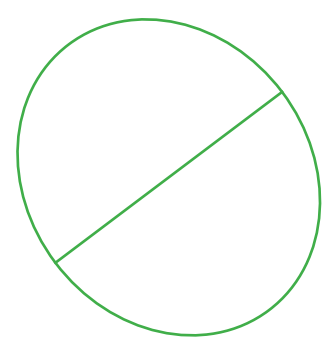

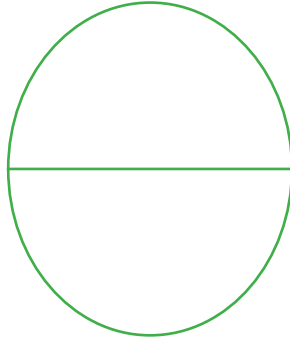
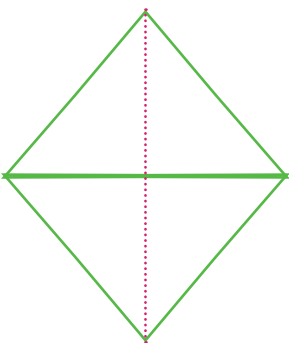
➔ Aşağıdaki şekillerden çeyreği boyalı olanları işaretleyiniz.



➔ Aşağıdaki şekilleri iki parçaya ayırıp yarısını boyayalım.



➔ Aşağıdaki iki eş parçaya ayrılan şekilleri örnekteki gibi bir çizgi çizerek 4 parçaya ayıralım. Oluşan şeklin çeyreğini boyayalım.



**Bunları Bilelim**

Bir millete ait bilgi ve davranışlarla bunlara ait eserler **kültürümüzü** oluşturur. Geleneklerimiz, göreneklerimiz, el sanatlarımız, yemeklerimiz giyim kuşamımız, türkülerimiz ve folklorumuz kültürümüzü oluşturan öğelerdendir.

Kültür

Türküler

Bağlama

Giyim

Horon

Gelenek

Okçuluk

Kayseri

Mimari yapılar

Halay

➔ Yukarıda verilen kültür ile ilgili kavramları aşağıda verilen boşluklara yazalım.

- Bir topluma özgü düşünce ve sanat eserlerinin bütünü .....olarak adlandırılır.
- Ülkemizin farklı yörelerinde farklı ezgilerle söylenen ..... kültürel öğelerimizdendir.
- ..... tarzı milletlerin kültürünü yansıtan özelliklerdendir.
- Karadeniz Bölgesi'nde ..... adı verilen halk oyunu oynanır.
- Manti ..... ilimizle özdeşleşen yemeklerimizdendir.
- ..... ata sporlarımızdandır.
- ..... da kültürel mirasımızın öğelerindendir.
- ..... bizim kültürümüze ait bir müzik aletidir.
- ..... folklorik öğelerimizden olup halk oyunlarımızdan biridir
- Misafir ağırlama ve büyüklerin elini öpme Türk Kültürüne ait .....dir.



→ Aşağıda verilenlerden kültürümüze ait olanları işaretleyiniz.

