

TURNUVA

Okulun son zamanlarıydı. Serhan öğretmenin sınıfı okulda sene sonu yarışmalarında iddialı bir sınıftı. Basketbol, voleybol ve futbol turnuvaları yapılacaktı. Neredeyse her dalda birinci olmak için en büyük aday bu sınıftı. Futbol maçlarında finale gelinmişti. Takım kaptanı Ahmet final maçını da kazanarak şampiyon olacaklarından emindi. Serhan Öğretmen her maçta olduğu gibi bu maçta da yardımlaşmayı ve paslaşmayı unutmamalarını söylemişti. Ama Ahmet maçta öğretmenin verdiği taktiklere hiç uymuyordu. Bencilce davranıyordu. Orta sahadan kaleye şut atıyordu. Pas vermediği için diğer arkadaşları da ona kızmaya başlamıştı.



Maçı karşı sınıf kazanmıştı. Ahmet ve arkadaşları çok üzülmüştü. Serhan öğretmen takımı topladı. "Ben size yardımlaşmayı ve paslaşmayı unutmayın demiştim. Siz buna uymadınız bencil davranıyorsunuz. Ama üzülmeyin. Bu bize ders olsun." dedi. Ahmet bencilliği için arkadaşlarından ve öğretmeninden özür diledi.

SORULAR

1. Hangi sınıf turnuvalarda iddialıydı?

2. Takım kaptanı kimdir?

3. Diğer arkadaşları Ahmet'e neden kızdı?

4. Sizce yardımlaşmanın önemi nedir?

➔ Tabloda verilen kelimeleri okuyalım. Harf sayıları ile ünlü ve ünsüz harf sayılarını yazalım.

Kelime	Harf Sayısı	Ünlü Harfler	Ünsüz Harfler
kaplumbağa			
bardak			
şemsiye			
saatçi			
kalemlik			
yuvarlak			
dondurma			

➔ Verilen kelimelerin ünlü harf sayısını kutuya yazalım.

Melisa
□

kitap
□

televizyon
□

kapak
□

çanta
□

sandalye
□

Ali
□

baklava
□

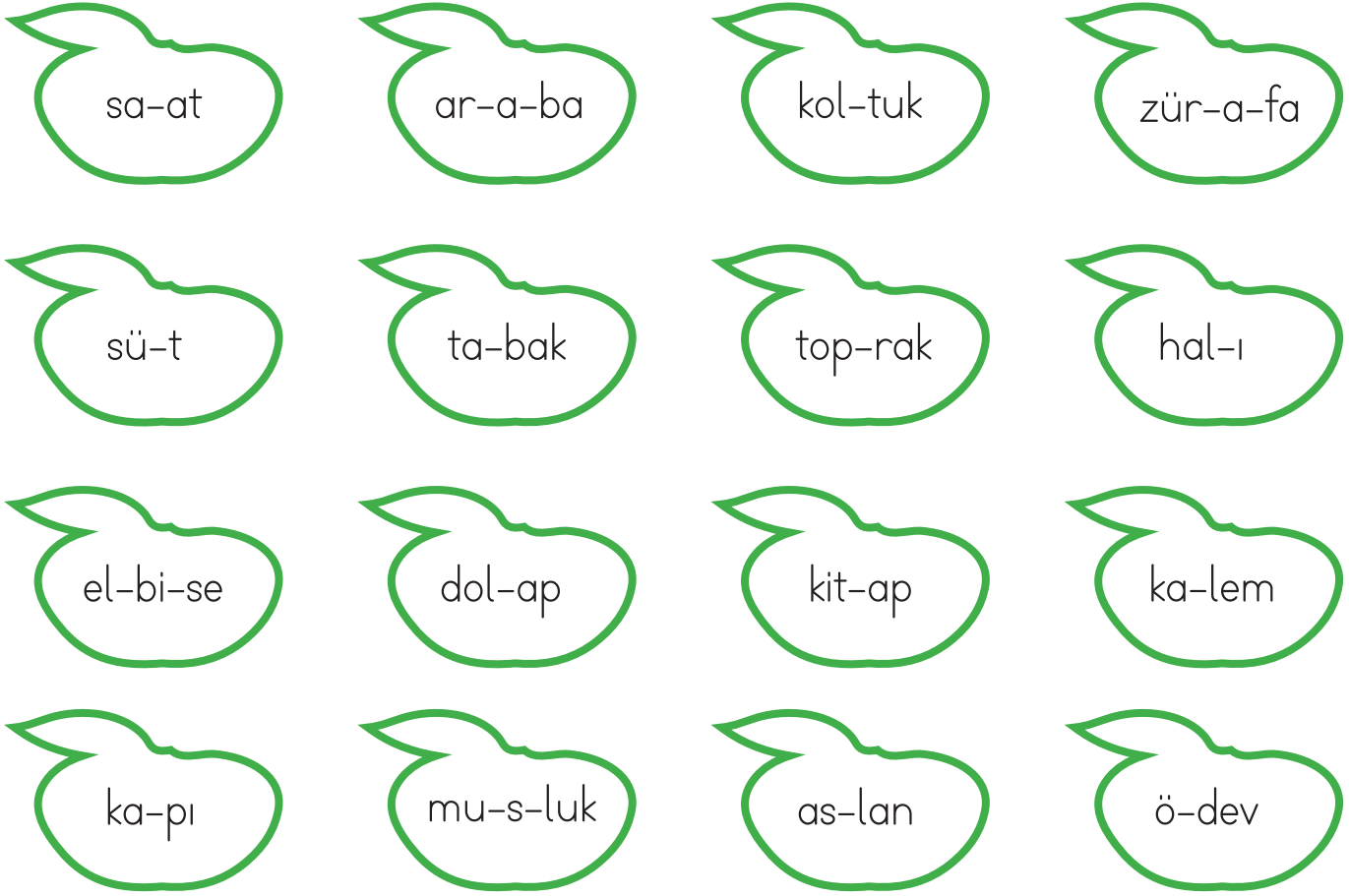
yastık
□

kırtasiye
□

otomatik
□

korkuluk
□

➔ Hecelerine yanlış ayrılmış olan elmaları kırmızıya, doğru ayrılmış olanları yeşile boyayalım.



➔ Verilen kelimeleri hecelerine ayıralım.

kapalı ➔

halı ➔

mendil ➔

kapak ➔

otobüs ➔

dalgalı ➔






makine ➔

demirci ➔

çiçek ➔

dolmuş ➔

➔ Aşağıdaki görsellerin size anımsattığı 3 kelimeyi yazınız.



➔ Aşağıdaki sözcüklerin anımsattığı kelimeleri yazınız.

Kitap

Orman

Okul

Zil

Dağ

Meyve

➔ Yazılan kelimedeki yanlış düzelterip kelimeyi tekrar yazalım.

mersine	ahmete	ayşenin	Atatürkün
➔ Mersin'e 👍	➔ ----- ?	➔ ----- ?	➔ ----- ?
hasana	pelinin	fatihde	bursada
➔ ----- ?	➔ ----- ?	➔ ----- ?	➔ ----- ?
adaya	akdenize	aselin	egede
➔ ----- ?	➔ ----- ?	➔ ----- ?	➔ ----- ?
ardanın	sonere	şabanda	izmire
➔ ----- ?	➔ ----- ?	➔ ----- ?	➔ ----- ?

➔ Yazım yanlışları olan cümlelerin başındaki daireyi kırmızıya boyayalım.

- Defteri'yi evde unutmuşum.
- Serhan'ı parkta gördüm.
- Ethem'in karnı ağrıyor.
- Ali'yle oyunlar oynadık.
- Sezen'in kardeşi geldi.
- Fatoşa telefon aldık.

- Minnoş'a mama verdik.
- Babam'dan kalem istedim.
- İzmir'den dayım gelecek.
- Ezgi'nin siyah kazağı var.
- Gazete'den ilan kestik.
- Fulden'i parka çağırdım.

→ Aşağıdaki cümleleri okuyalım. Parantezlere gelmesi gereken noktalama işaretini koyalım.

* Fulden () Fikret () Eslem ve Efe şiir okudular ()

* Ada () nın kalemi () defteri ve silgisi kaybolmuş ()

* Babam () bana çok güzel bir bebek aldı ()

* 19 Mayıs () ta sokaklar bayraklarla donatıldı ()

* Off ya , okuldan gelirken çok fena düştüm ()

→ Aşağıda karışık olan kelimerle cümleler oluşturalım. Oluşturduğumuz cümlelerde uygun noktalama işaretlerini kullanalım.

★ bugün okula misiniz gidecek siz

★ gidecek Orkun Ali ve Umut denize sabah yarın

★ aldım meyve suyu simit kantinden

★ attı gol dün Ali maçta iki

★ gitti kursa Mehmet sabah erken saatlerde

➔ Aşağıdaki soruları verilen ders programına göre cevaplayalım.

Pazartesi	Salı	Çarşamba	Perşembe	Cuma
Hayat Bilgisi	Türkçe	Türkçe	Hayat Bilgisi	Türkçe
Türkçe	Türkçe	Türkçe	Hayat Bilgisi	Türkçe
Matematik	Hayat Bilgisi	Matematik	Türkçe	Matematik
Serbest Etkinlikler	Müzik	Matematik	Matematik	Matematik
Görsel Sanatlar	Beden Eğitimi	Beden Eğitimi	Serbest Etkinlikler	Serbest Etkinlikler
Beden Eğitimi	Beden Eğitimi	Serbest Etkinlikler	Görsel Sanatlar	Serbest Etkinlikler

SORULAR

1) Haftanın ilk dersi hangisidir?

2) Matematik dersi haftada kaç saattir?

3) Hangi ders her gün işlenmektedir?

4) Beden Eğitimi dersi haftada kaç gün vardır?

5) Resim defteri hangi gün okula götürülmelidir?

6) Müzik dersi hangi gündür?

7) Tamamı farklı derslerden oluşan gün hangisidir?

➔ Verilen verileri tablolar üzerinde gösterelim.

Veri: Hayvan sayıları

Bir çiftlikte 10 koyun, 20 inek, 15 tavuk ve 30 horoz vardır.

Tablo: Çiftlikteki hayvan sayıları

Hayvanlar	Hayvan Sayısı
Koyun	10
İnek	-----
Tavuk	-----
Horoz	-----

Veri: Oyuncak sayıları

Bir kutuda 12 tane ayıcık, 8 tane bilye, 6 tane kamyon, 15 tane oyuncak bebek vardır

Tablo: Kutudaki oyuncak sayıları

Oyuncaklar	Oyuncak sayısı
-----	-----
-----	-----
-----	-----
-----	-----

Veri: Kalem sayıları

Ada'nın kalemlüğünde 8 kırmızı, 10 sarı, 4 yeşil, 8 kahverengi kalem vardır.

Tablo: Kalemlikteki kalem sayıları

Kalemler	Kalem Sayısı
Kırmızı	-----
Sarı	-----
Yeşil	-----
Kahverengi	-----

Veri: Çiçek sayıları

Bir çiçekçide 5 tane papatya, 7 tane lale, 4 tane sümbül, 10 tane de orkide vardır.

Tablo: Çiçekçideki çiçek sayıları

Çiçek Türleri	Çiçek Sayısı
-----	-----
-----	-----
-----	-----
-----	-----

➔ Aşağıda verilen ifadelerden doğru olana (D), yanlış olana (Y) yazalım.

- Kurban bayramı, dini bayramlarımızdandır.
- Bayramlarda sadece annemiz ve babamızla bayramlaşırız.
- Ramazan bayramı, dini bayramlarımızdandır.
- Bayramlarda sevdiğimiz insanlarla biraraya geliriz.
- Dini bayramlarda şiirler okunur, şarkılar söylenir.
- Dinimiz açısından önemli ve kutsal günler dini bayramlarımızdır.
- Dini bayramlarda özellikle çocuklara çeşitli ikramlar yapılır.

➔ Aşağıda kutu içinde verilen ifadeleri, cümlelerdeki uygun boşluklara yerleştirelim.

aile büyükleri

anlayış

giysiler




şeker

- ➔ Bayramlarda çocuklara ikram edilir.
- ➔ Bayramlarda sevgi ve duygusu vardır.
- ➔ Bayramlarda en yeni giyilir.
- ➔ Bayramlarda akrabalar ve ziyaret edilir.

1. Aşağıdaki kelimelerden hangisinde 3 ünlü harf vardır?

- A. telefon
- B. lastik
- C. denizcilik

2. Aşağıda görseldeki cisimlerin hangisinin isminin hece sayısı daha fazladır?

- A. 
- B. 
- C. 

3.

Yukarıdaki hecelerle hangi sözcük oluşturulamaz?

- A. kayısı
- B. kapı
- C. kale

4. Babam, pazardan kivi aldı.




Aşağıdaki cümlelerden hangisi yukarıdaki cümle ile aynı hece sayısından oluşmaktadır?

- A. Bugün top oynadık.
- B. Telefonda müzik dinledim.
- C. Sabah kahvaltı yaptım.

5. Aşağıdaki cümlelerin hangisinin sonuna nokta konulmalıdır?

- A. Kumandayı uzatır mısın
- B. Okula servisle mi gittin
- C. Akşam yemeğini çok beğendim

6. Aşağıdaki hayvanların isimleri alfabetik sıraya konulursa, hangisinin ismi ikinci sırada yer alır?

- A. 
- B. 
- C. 

7. Aşağıda cümle sonuna koyulan noktalama işaretlerinin hangisinde hata yapılmıştır?

- A. Okula gittim.
- B. Annen pazara gitti mi?
- C. Bugün ders çalıştım?

8.

ağrı dağı	Serhan'a	Mersine
-----------	----------	---------

Şekilde yanlış yazılan kelimeler boyandığında tablonun son görünümü nasıl olur?

- A.

--	--	--
- B.

--	--	--
- C.

--	--	--

9. Zil çaldı Ayşe Mehmet ve Ali derse geç kaldı. Sen de geç kaldın mı

Yukarıdaki kutulara sırasıyla hangi noktalama işaretleri gelmelidir?


- A. . , ?
- B. , , ?
- C. ? , .

10. Ahmet ile Onur pikniğe gitti.

Yukarıdaki cümlede, aşağıdaki sorulardan hangisinin cevabı yoktur?

- A. Kim
- B. Nereye?
- C. Nasıl?

11.  → Nokta

 → Virgül

 → Soru işareti

Eylül Melike parka gitmişler
Parkta kimi görmüşler

Yukarıdaki cümlede kutulara gelecek noktalama işaretlerinin doğru kodu, aşağıdakilerden hangisidir?

A.   

B.   

C.   

12. Aşağıdaki özel isimlerden hangisi yanlış yazılmıştır?

- A. Arda'da
- B. Serhan'ı
- C. mehmet'e

Tablo: Çiftlikteki hayvanlar

Hayvanlar	Hayvan Sayısı
Tavuk	11
İnek	9
Eşek	9
At	8

Tabloda bir çiftlikteki hayvan sayısı verilmiştir.

Buna göre 1, 2, ve 3. soruları cevaplayalım.

- Bu çiftlikte en fazla hangi hayvan türünden bulunmaktadır?
A. At
B. Tavuk
C. Eşek
- Bu çiftlikte bulunan eşek ve tavuk sayılarının toplamı kaçtır?
A. 18
B. 19
C. 20
- Çiftlikteki hangi hayvanların sayısı birbirine eşittir?
A. tavuk-inek
B. inek-eşek
C. at-eşek

Tablo: Mart ayı hava olayları

Hava olayı	Gün sayısı
	11
	8
	3
	9

Tabloda Mart ayındaki hava olaylarının gün sayısı verilmiştir. Buna göre 4, 5, ve 6. soruları cevaplayalım.

- Güneşli gün sayısı ile yağmurlu gün sayısı arasındaki fark kaçtır?
A. 2
B. 3
C. 4
- Karlı gün sayısı ile bulutlu gün sayısı toplamı kaçtır?
A. 11
B. 12
C. 13
- Bu ay toplam kaç günden oluşmaktadır?
A. 29
B. 30
C. 31

Tablo: Çocukların doğdukları aylar

Aylar Çocuklar	Ali	Mert	Efe	Aslı
Mart		X		
Nisan	X			X
Mayıs			X	

Tabloda aynı yıl doğan 4 arkadaşın doğdukları aylar verilmiştir. Buna göre 7, 8, ve 9. soruları cevaplayalım.

7. Çocuklardan hangisi Mart ayında doğmuştur?
- A. Ali
B. Efe
C. Mert
8. Hangi iki çocuk bu yılın aynı ayında doğmuştur?
- A. Mert - Efe
B. Ali - Aslı
C. Efe - Aslı
9. Efe yılın kaçınıcı ayında doğmuştur?
- A. 4
B. 5
C. 6

Tablo: Oyuncuların attığı basketler

Oyuncular Attıkları sayılar	7	8	9	10	11
Mehmet	✓				
Arda					✓
Ozan				✓	
Ömer			✓		

Tabloda bir maçta oyuncuların attıkları basketler verilmiştir. Buna göre 10, 11, ve 12. soruları cevaplayalım.

10. Maçta en fazla sayıyı hangi oyuncu atmıştır?
- A. Ozan
B. Arda
C. Ömer
11. Ömer ile Mehmet'in attığı sayılar toplamı kaçtır?
- A. 14
B. 15
C. 16
12. Maçta en fazla sayı atan oyuncu ile en az sayı atan arasındaki fark kaçtır?
- A. 3
B. 4
C. 5