

ZEBRA

Küçük zebra yürümekte zorlanıyordu. Ormanın en sakar hayvanlarından biriydi. İki adım atınca takılıp yere düşüyordu. Bu sakarlığı diğer hayvanların alay konusu olmuştu. Ormanlar kralı aslan bu duruma el attı. Diğer hayvanları uyardı. Bir daha kimse küçük zebra ile alay etmedi. Zebra, aslanın bu davranışından dolayı ona teşekkür etti.



1. ve 2. soruları metne göre cevaplayalım.

1. Zebra neden alay konusu olmuştu?

- A. Sakarlığından dolayı
- B. Sinirli olduğu için
- C. Dans ettiği için

2. Hayvanlardan hangisi bu duruma el attı?

- A. Kaplan
- B. Aslan
- C. Zürafa

3. Alfabemizde kaç tane ünlü harf vardır?

- A. 29
- B. 21
- C. 8

4.



Yaşadığım yerin adı alfabemizin beşinci harfi ile başlamaktadır.

Buna göre Burak'ın yaşadığı yer aşağıdakilerden hangisi olabilir?

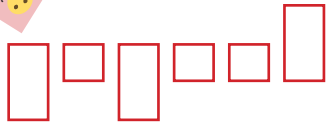
- A. İstanbul
- B. Denizli
- C. Edirne

5. Aşağıdaki hayvanlardan hangisinin adı üç hecelidir?



Soruya Gel!

6.



Yukarıdaki şekil harflerin çıkıntılarına göre oluşturulmuştur. Aşağı doğru uzayan şekil kuyruklu harfleri, yukarı doğru uzanan şekil uzun harfleri ifade etmektedir.

Aşağıdakilerden hangisi yukarıdaki şekli ifade eden kelime olabilir?

- A. yaprak
- B. kaplan
- C. sütlaç

7.

el

?

insan

ayak

omuz

"?" Yerine aşağıdakilerden hangisi gelemez?

- A. kol
- B. bacak
- C. elma

8. Aşağıdaki sözcüklerden hangisi hecelerine yanlış ayrılmıştır?

- A. kan-gu-ru
- B. sa-a-t
- C. a-i-le

9. Çok soğuk bir geceydi. Yorganın altına girdim. Bir süre sonra yorganın sıcaklığının etkisiyle uyuyakalmışım.

Altı çizili sözcüklerden kaç tanesinin zıt anlamlısı vardır?

- A. 4
- B. 3
- C. 2

10. + Koştu

☀ Balkondan seslendi

★ Saksının yanına

Yukarıdakilerden hangisi cümle değildir?

- A. ★
- B. +
- C. ☀

11.

salladım

beşiğini

Erdi'nin

dikkatlice

Yukarıdaki sözcüklerle anlamlı ve kurallı cümle oluşturulacaktır.

Buna göre hangi sözcük en sonda yer alır?

- A. salladım
B. beşiğini
C. dikkatlice

13.

sipor	dört	tiren
soğan	pilan	altmış

Tablodaki yazımı yanlış olan sözcüklerin bulunduğu kutucuklar çıkarılırsa hangi şekil oluşur?

- A.

--	--	--

 B.

--	--	--

C.

--	--	--

Soruya Gel

14.

karala

 →

123242

arka

 → ?

Yukarıdaki harfler belli bir kurala göre şifrelenmiştir. Bu kurala göre "?" yerine aşağıdakilerden hangisi gelmelidir?

- A. 1234 B. 2312
C. 3124

12.

SORU	CEVAP
1 Nerede?	Evin önünde
2 Kim?	Parkta
3 Niçin?	Durduğu için

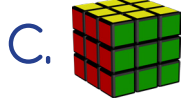
Hangi sayıyla gösterilen soru ve yanıt yanlış eşleştirilmiştir?

- A. 3 B. 2 C. 1

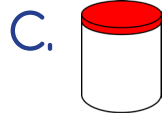
15. Aşağıdaki sözcüklerden hangisi hem harf hem kelimedir?

- A. kel B. o C. c

1. Aşağıdakilerden hangisi köşeli değildir?



2. Aşağıdakilerden hangisi yuvarlaktır?



3. Aşağıdakilerden hangisi kullanarak çember çizilebilir?



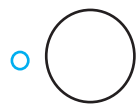
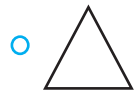

4.



Yukarıdaki nesne için hangisi doğrudur?

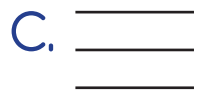
- A. Çember çizmemize yarar.
- B. Yüzlerinden biri karedir.
- C. Köşeleri vardır.

5.



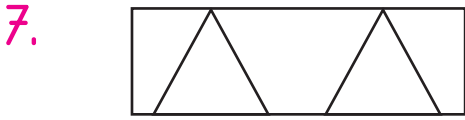
Yukarıdaki nesnelere yüzle-ri eşleştirilecektir.

Buna göre doğru eşleştirme nasıl olmalıdır?



6. Köşesi ve kenarı yoktur.
Yukarıda açıklaması yapılan
şekil hangisidir?

- A. Kare
- B. Dikdörtgen
- C. Çember



Yukarıdaki şekilde aşağıdaki-
lerden hangisi yoktur?

- A. Çember
- B. Dikdörtgen
- C. Üçgen




Yukarıdaki noktaları birleştirire-
rek kaç kare oluşturulabilir?

- A. 3
- B. 4
- C. 5

Soruya Gel 😊

9.






Yukarıdaki sudokuda boş bırakı-
lan yerleri dolduralım.

Sudoku tamamlandığında
topları çizgilerle birleştirirsek
hangi şekil oluşur?

- A. Kare
- B. Dikdörtgen
- C. Üçgen

10.

Geometrik Şekil	Adı
1. 	Üçgen
2. 	Kare
3. 	Çember

Tablonun kaçınıcı bölümünde
hata yapılmıştır?

- A. 3
- B. 2
- C. 1

11. Yarım ekmek: 50 kuruş
Bütün ekmek: 1 lira

Ahmet marketten 2 bütün ve 1 yarım ekmek alırsa ne kadar para öder?

- A. 2 lira 50 kuruş
B. 4 lira
C. 1 lira 50 kuruş

12.



Sincap Moli, büyük ağaçtan 8 palamut topluyor. Küçük ağaçtan da bir miktar palamut topluyor. Topladığı palamutları sayınca 16 palamudu olduğunu fark ediyor.

Moli, küçük ağaçtan kaç palamut toplamıştır?

- A. 8 palamut
B. 16 palamut
C. 24 palamut

13. Sinan haftanın ilk iki günü Türkçe çalışıyor. Daha sonra 3 gün Matematik çalışıyor. Sonraki iki gün dinleniyor. Sinan'ın dinlendiği günler hangileridir?

- A. Pazartesi - Salı
B. Çarşamba - Cuma
C. Cumartesi - Pazar

14. Bugün "Cumartesi" ise iki gün önce hangi gündü?

- A. pazar
B. cuma
C. perşembe

15.



Ali yukarıdaki havuçları da toplarsa 17 havucu olacaktır. Ali'nin kaç havucu vardır?

- A. 10 B. 9 C. 8


1. Aşağıdaki bayramlardan hangisi 23 Nisan tarihinde kutlanmaktadır?
- A. Zafer Bayramı
B. Cumhuriyet Bayramı
C. Ulusal Egemenlik ve Çocuk Bayramı

2. Aşağıdakilerden hangisi milli bayramlarımızdan değildir?
- A. Ramazan Bayramı
B. Cumhuriyet Bayramı
C. Zafer Bayramı

3. ülkemizdeki illerden biri değildir?
Yukarıda boş bırakılan yere hangisi gelmelidir?
- A. Mersin
B. Denizli
C. Paris

4. Her yıl 19 Mayıs'ta kutladığımız bayram hangisidir?
- A. Ramazan Bayramı
B. Cumhuriyet Bayramı
C. Gençlik ve Spor Bayramı

5. Doğal güzellikleri olan bir yere gitmek isteyen Kaan aşağıdaki yerlerden hangisine gitmelidir?



6. Ülkemizdeki yerleşim birimlerinin küçükten büyüğe doğru sıralanışı aşağıdakilerden hangisidir?

- A. İl - İlçe - Köy
- B. Köy - İlçe - İl
- C. İlçe - Köy - İl

7. İlçeyi kim yönetir?

- A. Vali
- B. Kaymakam
- C. Muhtar

8. Aşağıdaki şehirlerden hangisi tantunisi ile ünlüdür?

- A. Van
- B. İstanbul
- C. Mersin

9.



Anıtkabir, Türkiye'nin başkentida yer alan Mustafa Kemal Atatürk'ün anıt mezarıdır.

Yukarıda boş bırakılan yere hangisi yazılmalıdır?

- A. Ankara
- B. İstanbul
- C. Türkiye

10. Aşağıdakilerden hangisi bağımsızlık sembollerimizden biri değildir?

- A. Okul
- B. İstiklal Marşı
- C. Bayrak