

SAKLAMBAÇ

Fuat, arkadaşlarını evine davet etti. Evlerinin kocaman bir bahçesi vardı. Oyun oynamak için uygun bir yerdi. Ne oynayacaklarını düşündüler. Oy birliği ile saklambaç oynamaya karar verdiler. Oyunun kazananı Simge oldu.



1, 2 ve 3. soruları metne göre cevaplayalım.

1. Kim arkadaşlarını evine davet etti?

- A. Fuat
- B. Simge
- C. Canan

2. Çocuklar nerede oyun oynadı?

- A. Parkta
- B. Evin bahçesinde
- C. Okulda

3. Oyunu kim kazandı?

- A. Fuat
- B. Simge
- C. Canan

Soruya Gel 😊

4. Kelimenin hece sayısı kadar papatya yaprağı boyanacaktır. Aşağıdaki papatyalardan hangisi hatalı boyanmıştır?












5. Aşağıdakilerden hangisi "sözcük" kelimesinin eş anlamlısıdır?

- A. kelime
- B. cümle
- C. harf

6.   

Yukarıdaki görselleri sözlük sırasına göre dizersek sıralama nasıl olur?

- A.   
 B.   
 C.   

7. Aşağıdakilerden hangisi ünlü harfle başlayan tek heceli bir sözcüktür?

- A. arı
 B. ilk
 C. onu

8. Aşağıdakilerden hangisi cümle değildir?

- A. Babam bana pazardan
 B. Kapattım
 C. Kovaya su doldurdum

9.

S	C	A	D	G	H	J
V	E	N	S	O	R	U
B	Z	S	R	T	E	Ü
N	A	K	A	L	I	N

Bulmacada soldan sağa ve yukarıdan aşağı sözcükler gizlenmiştir.

Gizlenen sözcüklerden hangisinin zıt anlamlısı aşağıda verilmemiştir?

- A. ÖDÜL
 B. CEVAP
 C. GENİŞ

10. Aşağıda satır sonuna sığmayan kelimeler verilmiştir. Hangisinde yanlışlık yapılmıştır?

- A.

ar-
alık

 B.

ka-
lem

 C.

ce-
saret


11. Aaahhh  canım yandı 
Neden bunu yaptın 

Yukarıda, sembollerle belirtilen yerlere sırasıyla aşağıdaki noktalama işaretlerinden hangisi gelmelidir?



A.	,	!	?
B.	?	,	!
C.	!	,	?

12.



Yukarıda karışık olarak verilen harflerle aşağıdaki kelimelerden hangisini oluşturamayız?

- A. pas
B. sincap
C. pancar

13.

1 havada

2 yoktu

3 hiç

4 bulut

Yukarıda karışık verilen kelimelerle anlamlı ve kurallı cümle oluşturacak olursak sıralama nasıl olmalıdır?

- A. 1 - 2 - 3 - 4
B. 1 - 3 - 4 - 2
C. 4 - 2 - 1 - 3

14. "Sen çok iyi bir insansın."

Yukarıdaki cümlede kaç tane tek heceli sözcük vardır?

- A. 2 B. 3 C. 4

15.

yüzmeyi

seviyor

karada

denizde

Yukarıdaki kelimelere anlamlı ve kurallı cümle oluşturulacaktır. Buna göre hangi sözcüğü kullanmamıza gerek yoktur?

- A. seviyor
B. havada
C. karada





1/J Sınıf Sevilen Renkler

Renkler	Öğrenci Sayısı
 SARI	5
 MAVİ	9
 YEŞİL	4
 MOR	2
 KIRMIZI	1

1. ve 2. soruyu tabloya göre cevaplayalım.

- En sevilen renk aşağıdakilerden hangisidir?
 - mavi
 - kırmızı
 - sarı
- Tabloda tüm öğrenciler sevdiği renkleri söylediğine göre sınıf mevcudu kaçtır?
 - 20
 - 22
 - 21

1/J Sınıf Sevilen Hayvanlar

Hayvanlar	Sayı
Kaplumbağa	
Tavuk	
Kuş	
Arı	
Yılan	

3, 4 ve 5. soruları tabloya göre cevaplayalım.

- Hangi hayvanlar eşit sayıda seviliyor?
 - tavuk - kuş
 - yılan - arı
 - kuş - kaplumbağa
- En çok sevilen hayvan hangisidir?
 - tavuk
 - yılan
 - kuş
- Tabloya göre kaç kişi arı sevmektedir?
 - 4
 - 3
 - 2

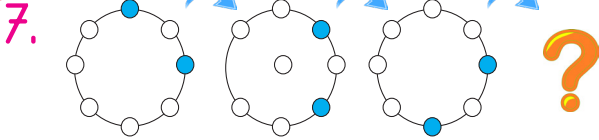
6.	1	MART	2
----	---	------	---

Yukarıdaki tabloda 1 ve 2 numaralı yerlere mart ayından önce ve sonra gelen aylar yazılacaktır.

1 ve 2 numaralı yerlere sırasıyla ne yazılmalıdır?


- A. Nisan - Mayıs
- B. Şubat - Nisan
- C. Haziran - Temmuz

Soruya Gel 😊




Yukarıdaki örüntü devam ettirilirse "?" yerine hangisi gelir?

- A.
- B.
- C.



Yukarıdaki örüntünün kuralı "1 tavşan, 2 tavuk" olduğuna göre boş bırakılan yerlere sırasıyla hangileri gelmelidir?

- A.
- B.
- C.



Yukarıdaki nesneyi kullanarak hangi şekli çizebiliriz?










- A. Çember
- B. Üçgen
- C. Kare

10. 1 onluk 3 birlikten oluşan sayının 4 fazlası kaç eder?

- A. 9
- B. 17
- C. 8

Soruya Gel 😊

11.


Yukarıdaki tablo belli bir kurala göre oluşturulmuştur. Bu kurala göre "?" yerine hangisi gelmelidir?

- A.  B.  C. 

12. Babam marketten aldığı ürün için 20 lira verdi ve 6 lira para üstü aldı. Babamın aldığı ürün kaç liradır?

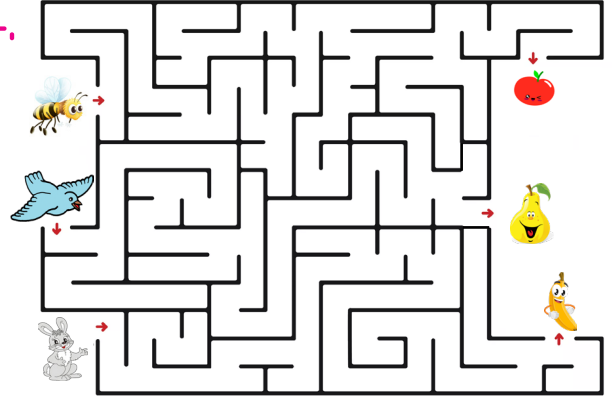
- A. 26 B. 14 C. 8

13. Kovana birinci gün 5, ikinci gün birinci günden 6 fazla arı girmiştir. İki günde kovana toplam kaç arı girmiştir?





















- A. 11 B. 15 C. 16

14.



Labirentteki hayvanları meyvelere ulaştırmaya çalışalım. Hangi hayvanın hangi meyveye ulaştığı aşağıda verilmiştir. Bu bilgilerden hangisi doğrudur?

- A.  —  B.  — 
 —   — 
 —   — 
- C.  — 
 — 
 — 

Soruya Gel 😊

15. Atılan gol ile yenilen gol arasındaki farka **averaj** denir. Soner'in takımı, 8 gol atıp 3 gol yediği maçta kaç averaj elde etmiştir?



- A. 5 B. 11 C. 14




1. Aşağıdakilerden hangisi dini bayramlarımızdan biridir?

- A. Ramazan Bayramı
- B. Cumhuriyet Bayramı
- C. Zafer Bayramı

2. Dini gün ve bayramlarda aşağıdakilerden hangisi yapılmaz?

- A. Büyüklerin elleri öpülür.
- B. Dayanışma duygusu güçlenir.
- C. Bayrak töreni yapılır.

3. Dini bayramlarımızda daha çok aşağıdakilerden hangisi çocuklara ikram edilir?

- A.  B. 
- C. 

4.

Ramazan Bayramı

Kurban Bayramı

Zafer Bayramı

Yukarıdaki tabloda dini bayramlara yer verilmiştir. Hangisi yanlıştır?

- A. Ramazan Bayramı
- B. Zafer Bayramı
- C. Kurban Bayramı


5.

Seren sınıfa başka ülkeden gelen öğrencinin yanına gidip "hoş geldin" der. Mustafa ise bu duruma pek hoş bakmayıp selam bile vermez. İnci tek oturduğu için yeni gelen öğrenciyi yanına oturması için davet eder.

Yukarıdaki metne göre hangi davranış yanlıştır?

- A. Seren
- B. Mustafa
- C. İnci


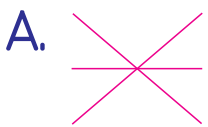
6. Aşağıdakilerden hangisi evcil bir hayvandır?




7.



Yukarıdaki hayvanlar barındıkları yerler ile eşleştirilirse eşleşme nasıl olur?



8. Hangi görselde "Kurban Bayramı kutlanıyor." diyebiliriz?



9. Aşağıdakilerden hangisi milli bayramlarda yapılan etkinliklerden değildir?

- A. Büyükler ziyaret edilir.
- B. Sınıflar süslenir.
- C. Şiirler okunur.

10. Aşağıda adı yazılı bayramlardan hangisi bir yönüyle diğerlerinden farklıdır?

- A. Cumhuriyet Bayramı
- B. Zafer Bayramı
- C. Kurban Bayramı