

Dedemin Çiftliği

Güzel bir yaz sabahıydı. Elif sabahın erken saatlerinde, heyecanlı bir şekilde uyanmıştı. Babası söz vermişti, dedesinin çiftliğine gideceklerdi. Elif hem dedesini görecek hem de çiftlikteki hayvanlarla zaman geçirecekti. Kısa bir süre sonra çiftliğe vardılar. Dedesiyle zaman geçiren Elif, hızlıca çok sevdiği keçilere koştu. Keçilerle oyunlar oynadı, onlara kendi eliyle ot yedirdi. Elif'in ve keçilerin mutluluğu görülmeye değerdi.



Sorular

1) Elif sabah nasıl uyanmıştı?

2) Elif neden heyecanlıydı?

3) Elif çiftliğe varınca ne yapmış?

4) Elif keçilerle nasıl zaman geçirmiş?

5) Metnin başlığı kaç harften oluşmuştur?

A. 8 B. 12 C. 15

6) Görseldeki kızın elbisesi hangi renktir?

A. yeşil
B. kırmızı
C. sarı

7) Yukarıdaki görselde aşağıdakilerden hangisi yoktur?






A. keçi
B. ot
C. tavşan

➔ Aşağıdaki harfleri kullanarak örnekteki gibi sözcükler yazınız.




masa


kasa




➔ Aşağıdaki sözcüklerde en çok tekrarlanan harfi örnekteki gibi yazınız



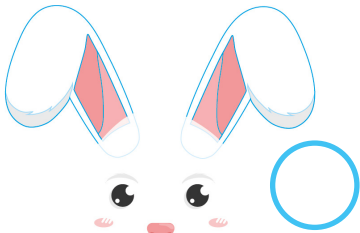
Mutluluk




Eğlence




Matara



Bilgili



Yetenek




Yıldız

→ Aşağıdaki kelimeleri hecelerine ayırarak hece sayısını yazınız.



Harita

Ha-ri-ta 3



Eldiven



Bilgisayar



Sevgi



Bardak



Televizyon

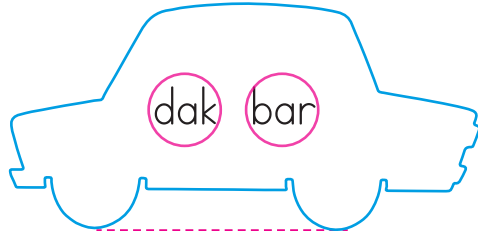


Öğretmen



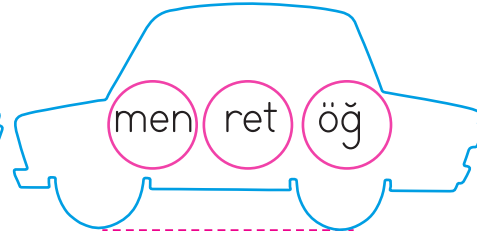
Kalem

→ Aşağıda karışık olarak verilen hecelerden anlamlı kelimeler yazalım.




dak bar

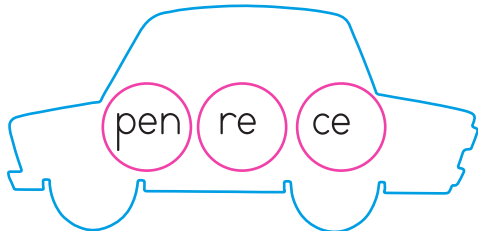
bardak



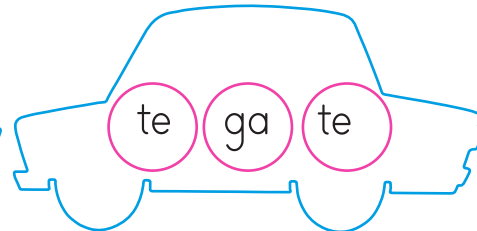
men ret öğ



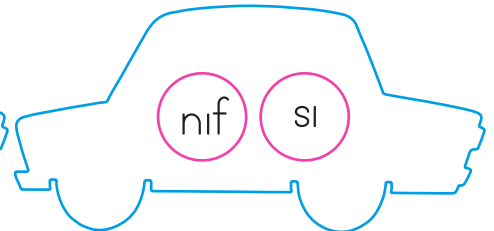
sim mev



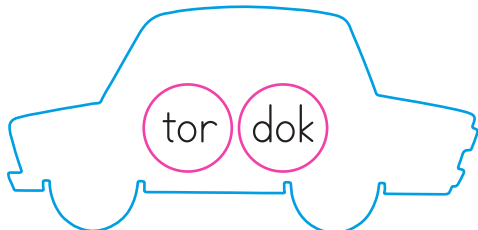
pen re ce



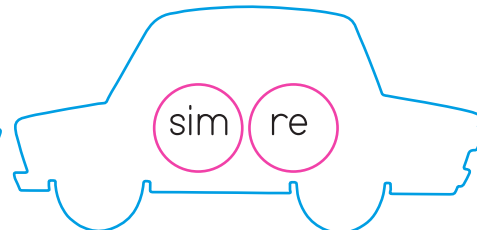
te ga te



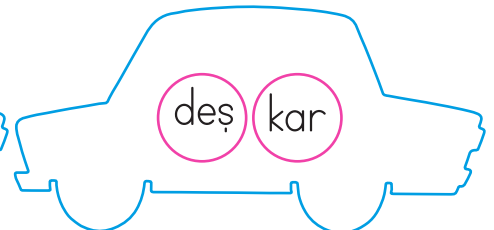
nıf sı



tor dok



























sim re





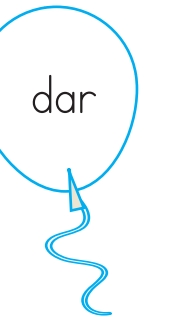









deş kar

➔ Aşağıdaki sözcüklerin zıt anlamlılarını yazınız.

 güzel 	 gece 	 soru 	 eski 
 uzak 	 zayıf 	 hızlı 	 yaşlı 
 kolay 	 tatlı 	 temiz 	 sıcak 

➔ Zıt anlamlı sözcüklerin olduğu balonları aynı renge boyayalım.

 küçük	 ucuz	 açık	 aşağı	 dar	 iyi
 kapalı	 yukarı	 kötü	 büyük	 geniş	 pahalı

→ Aşağıdaki sözcük gruplarından birbiriyle ilişkili olanları örnekteki gibi işaretleyiniz.



→ Aşağıdaki görsellerin çağrıştırdığı sözcükleri yazınız.



.....

.....

.....



.....

.....


.....



.....

.....

.....



.....

.....


.....



.....

.....

.....



.....

.....

.....

Geometrik Örüntüler


➔ Aşağıdaki örüntülerin kuralını örnekteki gibi altına yazalım.

1)




➔ Örüntünün kuralı: Bir kare, iki üçgen ve bir daireden oluşmaktadır.

2)



➔ Örüntünün kuralı:

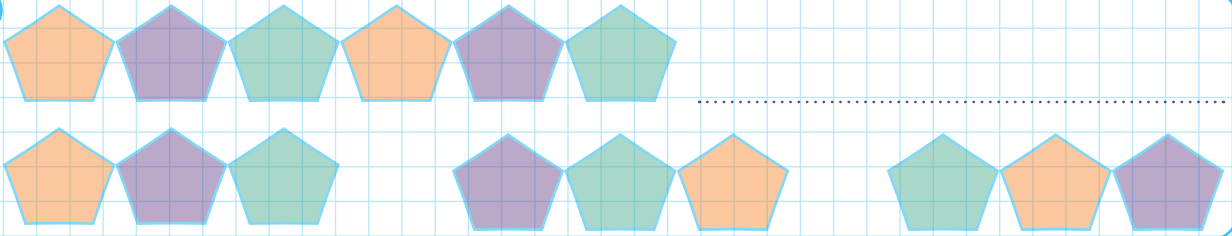
3)



➔ Örüntünün kuralı:

➔ Aşağıdaki örüntüleri inceleyelim, örüntüyü devam ettirecek şekil grubunu yuvarlak içine alalım.

1




2



3

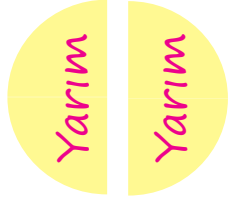


Kesirler



✓ Parçalanmamış olana "bütün" denir.

✓ Bir bütünü iki eş parçaya ayırdığımızda her bir parçaya "yarım" denir.



✓ Bir bütün iki yarım eder.

➔ Aşağıdaki görselleri verilen nesnelerin altına "bütün, yarım" ifadelerinden uygun olanı yazınız.










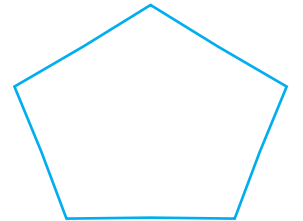

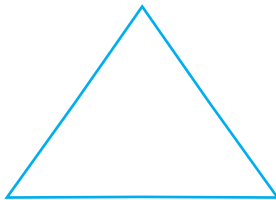








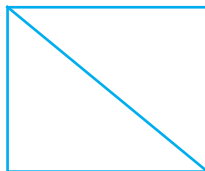



➔ Aşağıdaki şekillerin yarısını boyayalım.

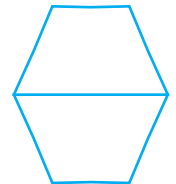


➔ Aşağıdaki şekillerden iki eş parçaya ayrılmış olanları işaretleyelim.









Zamanı Ölçme



Yelkovan dakikaları gösterir.

Akrep saati gösterir.



Yelkovan 12'nin tam üzerinde iken gösterdiği zaman, **tam saattir**.



Yelkovan (uzun çubuk) 6'nın üzerindeyken saatler **buçuk** olarak okunur.

➔ Aşağıdaki saatlerin okunuşlarını yazınız.





















➔ Aşağıda okunuşları verilen saatlere uygun akrep ve yelkovan çiziniz.



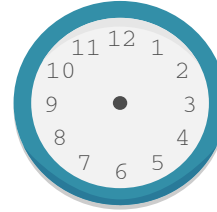
Saat: İki



Saat: On



Saat: Yedi



Saat: Üç



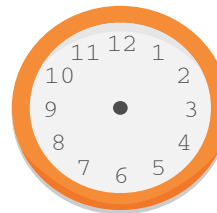
Saat: Beş



Saat: Bir buçuk



Saat: Üç buçuk



Saat: beş buçuk



Saat: Yedi buçuk

Zamanı Ölçme

➔ Aşağıdaki boşlukları haftanın günlerini yazarak doldurunuz.

1. gün

Pazartesi

2. gün

3. gün

4. gün

5. gün

6. gün

7. gün

➔ Aşağıdaki tabloda verilen çalışmaları yapınız.

Dün	Bugün	Yarın
	Pazartesi	

Dün	Bugün	Yarın
	Salı	

Dün	Bugün	Yarın
		Cuma

Dün	Bugün	Yarın
	pazar	

➔ Aşağıdaki soruların cevaplarını noktalı yerlere yazalım.

Bir hafta kaç gündür?

Haftanın 1. Günü hangisidir?


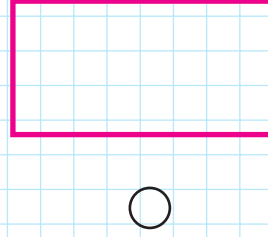
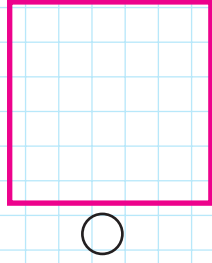
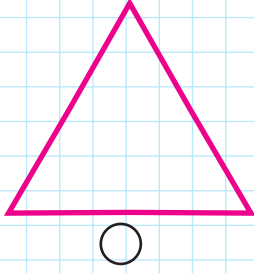
Haftanın tatil günleri hangileridir?

Tatile girmeden önceki gün hangisidir?

Salı gününden sonraki gün hangisidir?

Geometrik Şekiller ve Cisimler

→ Aşağıdaki şekillerin köşelerini kırmızı kalemle gösterelim. Köşesi olmayan şeklin kutusunu işaretleyelim.



→ Aşağıdaki geometrik şekillerin köşe ve kenar sayılarını yazalım.

Şeklin Adı	Kenar Sayısı	Köşe Sayısı
Kare		
Dikdörtgen		
Üçgen		
Çember		

→ Aşağıdaki geometrik cisimlere ait özellikler verilmiştir. Bu özellikleri uygun olan geometrik cismin karşısına yazalım.

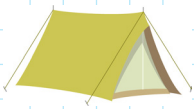
Köşeleri olmayan,
düz yüzleri olan


Düz yüzleri ve
köşeleri olmayan.

Köşeleri ve düz
yüzleri olan.









Tablo Okuma

➔ Aşağıdaki tabloyu inceleyelim. Soruları tabloya göre cevaplayalım.

Tablo : En sevilen mevsimler.

Mevsimler	Seven öğrenci sayısı
İlkbahar	9
Yaz	10
Sonbahar	7
Kış	4

1) En az sevilen mevsim hangisidir? ➔

2) En çok sevilen mevsim hangisidir? ➔

3) 4 kişinin sevdiği mevsim hangisidir? ➔


4) 9 kişinin sevdiği mevsim hangisidir? ➔

5) Yaz ve kış mevsimini sevenlerin toplamı kaçtır?

6) Kış mevsimini sevenlerin sayısı yaz mevsimini sevenlerden kaç eksiktir?

7) İlkbahar mevsimini sevenlerin sayısı, sonbahar mevsimini sevenlerden kaç fazladır?

➔ Görsellerde Mustafa Kemal Atatürk ve ailesinin fotoğrafları vardır. Kim olduklarını altlarına yazalım.



.....



.....



.....



.....

➔ Aşağıdaki cümleleri uygun sözcük veya sözcük gruplarıyla tamamlayınız.

Selanik

Askerlik

Mahalle

Dolmabahçe

Şemsi Efendi

1881

Anıtkabir

➔ Atatürk yılında 'te doğdu.

➔ Atatürk önce Mektebine gitti.

➔ Atatürk mesleğini çok sevdiği için askeri okula gitti.

➔ Mahalle Mektebinden sonra İlkokuluna gitti.

➔ Atatürk, 10 Kasım 1938'de Sarayında öldü.

➔ Atatürk'ün mezarı Ankara'da 'dedir.