

## Hayvan Sever Yakup

Güzel, güneşli bir ilkbahar sabahıydı. Yakup erkenden kalktı, kahvaltısını yaptı. Bir an önce evlerinin bahçesine gitmek için sabırsızlanıyordu. Bahçede onu bekleyen bir arkadaşı vardı. Birkaç gün önce sokakta gördüğü, yardıma muhtaç bir köpeği sahiplenmişti. Ne zaman yardıma ve bakıma muhtaç bir hayvan görse dayanamaz, yardım ederdi. Hayvanlara yemek yedirir, onlarla oyunlar oynardı. Bazen de ailesinin yardımını alarak küçük kulubeden bir yuva yapardı. Bu, Yakup'un ilk yardım ettiği hayvan değildi. Daha önce de kedi, kuş ve köpeklere yardım etmişti. Zaten çevresinde de "Hayvansever Yakup" olarak biliniyordu. Onu gören arkadaşları ve ailesi, onunla gurur duyuyordu. Yardım ettiği, oyunlar oynadığı hayvanlar, Yakup'un mutluluk kaynağıydı.



## SORULAR

1) Yakup niçin sabırsızlanıyormuş?

---

---

---

2) Yakup kimlere yardım ediyormuş?

---

---

---

3) Kimler Yakup ile gurur duyuyormuş?

---

---

---

4) "Zaman" kelimesinin eş anlamlısı aşağıdakilerden hangisidir?

A. Vakit

B. Yıl

C. Hafta











5) Aşağıdaki sözcüklerden hangisi cümle içinde büyük harfle başlar?

A. Arkadaş

B. Aile

C. Serhan

→ Aşağıdaki sözcüklerin altına eş anlamlarını yazınız.



→ Aşağıdaki sözcükleri eş anlamlarıyla örnekteki gibi eşleştiriniz.

hatıra 1

hikaye

öykü

ak

kara

1 anı

hediye

siyah

beyaz

hayat

yaşam

merasim

tören

armağan

➔ Aşağıdaki cümlelerden anlamlı ve kurallı olanları işaretleyelim.

Servis geç geldi.

Gelmedi Okan bugün okula.

Akşam izledik güzel bir film.

Annem akşama hazırlık yapıyor.

Ablam meyve suyu hazırladı.

İstiyorum oyun oynamak.

Severim yardım etmeyi çok.

Babam karne hediyesi aldı.

Okuduğum kitap çok güzeldi.

Ödevlerimi yaptım hızlıca.

➔ Aşağıdaki karışık olarak verilen sözcüklerden anlamlı ve kurallı cümle oluşturalım.

akşam izledim televizyonda çizgi film

.....

kınıldı yere düşünce vazoya cam

.....

seçti başkan arkadaşlarım beni sınıf

.....

nefes balıklar solungaçları alır sayesinde


.....



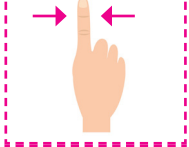




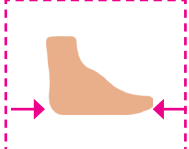
**Karış:** Elin baş parmağı ile serçe parmağı arasındaki uzunluk.



**Kulaç:** İki kolumuzu açtığımızda, ellerimizin parmak uçları arasındaki uzunluktur.



**Parmak:** El parmağının eni kadar olan uzunluktur.



**Ayak:** Ayağın başparmağı ile topuğu arasındaki uzunluktur.



**Adım:** Bir adım attığımızda, arkada kalan ayağın parmak uçları ile öndeki ayağın parmak uçları arasındaki uzaklıktır.

Aşağıdaki kalemin boyunu parmakla ölçünüz ve ölçüm sonucunu yazınız.



Kalemin boyu ..... parmak uzunluğundadır.

Verilen nesnelere aşağıdakilerden hangisiyle ölçülebilir, yazınız.

Parmak

adım

kulaç

ayak

karış

Kitabın uzunluğunu ölçerken:

»» .....

Sınıfın uzunluğunu ölçerken:

»» .....

Siranın uzunluğunu ölçerken:

»» .....

Halının uzunluğunu ölçerken:

»» .....

Koridorun uzunluğunu ölçerken:


»» .....

Masanın uzunluğunu ölçerken:

»» .....

→ Aşağıdaki verilen iplerin uzunluğunu üstte verilen şeritlerle örnekteki gibi çözerek ölçünüz. Ölçüm sonuçlarınızı noktalı yerlere yazınız.

1. 



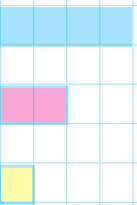
→ 4 mavi şerit  
→ ... pembe şerit  
→ ... sarı şerit

2. 



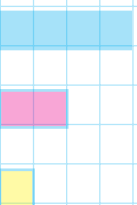
→ ... mavi şerit  
→ ... pembe şerit  
→ ... sarı şerit

3. 



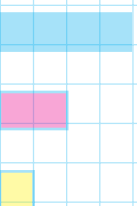
→ ... mavi şerit  
→ ... pembe şerit  
→ ... sarı şerit

4. 




→ ... mavi şerit  
→ ... pembe şerit  
→ ... sarı şerit

5. 



→ ... mavi şerit  
→ ... pembe şerit  
→ ... sarı şerit

## Doğal Unsurlar




Doğal unsur, insan etkisi olmayan, doğada kendiliğinden oluşan unsurlardır.



Hava koşulları, yer şekilleri, su kaynakları, ovalar, dağlar, bitki örtüsü, hayvanlar doğal unsurlardır.




Doğal unsurların tamamı, insanların hayatını etkiler, insanlar yaşamını doğal unsura göre şekillendirirler.



Verilen kelimeleri uygun boşluklara yazarak cümleleri tamamlayalım.

deniz	suyun	çöller	tarım
arazide	yağışın	soğuk	

- Verimli topraklarda ..... yapılır.
- Düz ..... ulaşım daha kolaydır.
- ..... kenarında balıkçılık yapılır.
- Ormanlar ..... çok olduğu yerde daha fazladır.
- ..... yerlerde insanlar kalın giysiler giyer.
- ..... yerlerde tarımın yapılması zordur.
- ..... insan yaşamına uygun değildir.



Verilen cümlelerin başına doğruysa "D", yanlışsa "Y" yazınız.

- Yer yüzü şekilleri ve iklim insan yaşamını etkiler.
- Dağlık olan yerlerde ulaşım daha kolaydır.
- İklim koşulları insanların barınma şeklini etkiler.
- Verimsiz topraklarda tarım daha iyi yapılır.
- Fabrikalar büyük şehirlerde daha çoktur.



# TÜRKÇE TESTİ

1. okul → mektep

Yukarıdaki kelimeler arasındaki anlam ilişkisi hangi seçenekte vardır?

- A. soru - cevap
- B. uzun - kısa
- C. yıl - sene

2. 

rüya
düş
①

yaşlı
genç
②

kuru
yaş
③

Yukarıdaki kaç numaralı kutuda yazan sözcükler eş anlamlıdır?

- A. 1
- B. 2
- C. 3

3. 

yoksul	●
soru	●
adet	●

●	sual
●	tane
●	fakir

Yukarıdaki sözcükleri eş anlamlılarını eşleştirdiğimizde hangi şekil oluşur?



4. 

dağıtıyordu	onun
sürekli	dikkatini

Yukarıdaki kelimelerle kurulacak anlamlı ve kurallı cümle hangisidir?

- A. Sürekli onun dikkatini dağıtıyordu.
- B. Sürekli onun dağıtıyordu dikkatini.
- C. Onun dağıtıyordu sürekli dikkatini.

5. 

okudum
--------

aldığım
---------

gibi
------

kitabı
--------

yeni
------

Yukarıdaki kelimelerle anlamlı ve kurallı cümle oluşturulursa hangisi dışarıda kalır?

- A. okudum
- B. kitabı
- C. gibi

6. 

1	kahvaltıda
---	------------

3	süt
---	-----

2	Soner
---	-------






4	içer
---	------

Yukarıdaki kelimelerle anlamlı ve kurallı cümle oluşturulursa sıralama nasıl olur?

- A. 2-3-4-1
- B. 2-1-3-4
- C. 1-3-4-2

# MATEMATİK TESTİ

## Manavdaki Meyveler

Muz	
Elma	
Çilek	
Armut	
Kayısı	


Her şekil 3 meyveyi göstermektedir.

1, 2, 3, 4 ve 5. soruları yukarıdaki grafiğe göre cevaplayalım.

- Sayısı en az ve en çok olan meyveler hangi seçenekte verilmiştir?  
A. Muz - Elma    B. Kayısı - Armut  
C. Elma - Çilek
- Elmaların sayısı kaçtır?  
A. 15    B. 16    C. 18
- Çilek ve kayısıların toplamı kaçtır?  
A. 18    B. 20    C. 24
- Armutların sayısı muzlardan kaç fazladır?  
A. 9    B. 12    C. 15
- Elmaların sayısı kaç artarsa elma ve armut sayısı eşit olur?  
A. 9    B. 3    C. 6

6. Aşağıdakilerden hangisi standart olmayan ölçme uzunluklarından değildir?

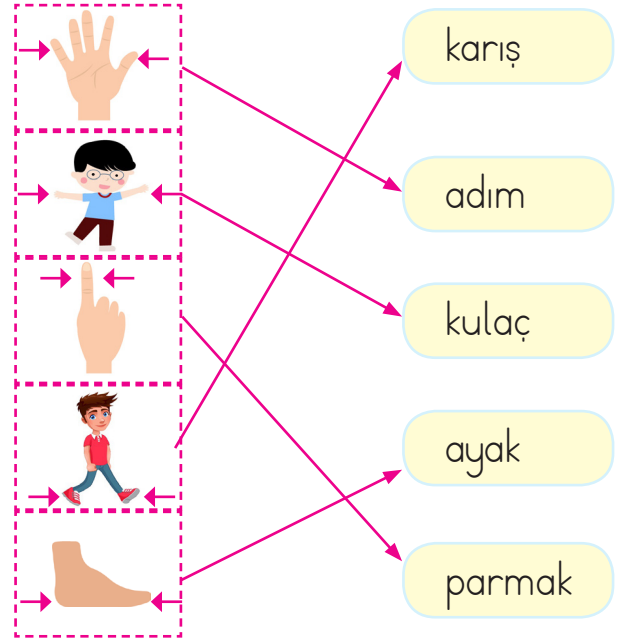


7.  → 6 karışım, 1 kulacıma eşittir.

Serhan'ın 2 kulacı kaç karışına eşit olur?

- A. 12    B. 10    C. 14

8. Aşağıdaki ölçme birimlerinden hangisi yanlış eşleştirilmiştir?



- A. kulacık - ayak    B. karış - adım  
C. parmak - adım