

ANNELER GÜNÜ

Annem huzur kokuyor. Beni kucağına aldığımda yumuşacık yüreğini hissediyorum. O da öyle hissediyor, biliyorum. Anne sevgisi en güzel sevgidir.



1. ve 2. soruları metne göre cevaplayalım.

1. Çocuğun annesi ne kokuyor?

- A. Huzur
- B. Gül
- C. Mutluluk

2. Metne göre hangisi en güzel sevgidir?

- A. Baba sevgisi
- B. Anne sevgisi
- C. Kardeş sevgisi

3. "Sanem acıktığı için makarna yaptı." cümlesinde 5N1K sorularından hangisinin cevabı yoktur?

- A. Kim?
- B. Ne?
- C. Nereye?

4.



Aşağıdaki deyimlerden hangisinin anlamı yukarıdaki görsellerden herhangi birini yansıtmaz?

- A. Ağzı kulaklarına varmak
- B. Sinir küpüne dönmek
- C. Sağı solu belli olmamak

5.

| | | | |
|---|--------|----------|---|
| 1 | yaptım | kitabıma | 3 |
| 2 | ayraç | kırmızı | 4 |

Numaralandırılmış kelimelerden kurallı ve anlamlı bir cümle oluşturursak sıralama nasıl olur?

- A. 1 - 2 - 3 - 4
- B. 3 - 4 - 2 - 1
- C. 2 - 1 - 4 - 3

6. 6 ünsüz harfi vardır.
4 ünlü harfi vardır.
Bir taşıt ismidir.
Yukarıdaki bilgileri verilen varlığın ismi aşağıdakilerden hangisidir?
- A. Kaplumbağa
B. Helikopter
C. Saygıdeğer

7. 1 kele-
bek 2 kel-
ebek 3 ke-
lebek

"kelebek" sözcüğünün satıra sığmadığındaki yazımların hangisi yanlıştır?

- A. 1 B. 2 C. 3

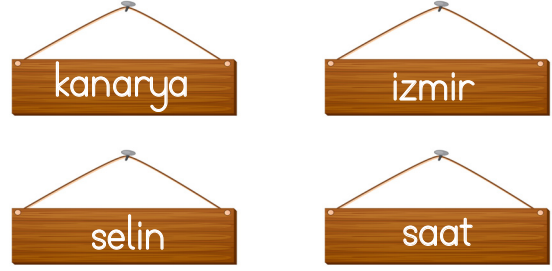
8. Aşağıdaki öğrencilerden hangisi sözcüğü doğru telaffuz etmiştir?

A.  gasete

B.  gaste

C.  gazete





9. Kişi ve yer adları büyük harfle başlar.



Buna göre yukarıdaki adlardan kaç tanesi büyük harfle başlar?

- A. 1 B. 2 C. 3

10.

| | | | |
|---|---|---|---|
|  |  |  |  |
| virgül | nokta | ünlem işareti | soru işareti |

Tabloda bazı noktalama işaretleri meyve ve sebzelerle eşleştirilmiştir.

Buna göre aşağıdaki cümlelerden hangisinde noktalama işaretleri yanlış kullanılmıştır?

- A. Babam pazardan nar  armut ve kivi aldı 
- B. Heey  canım acıdı 
- C. Benimle gelir misin 

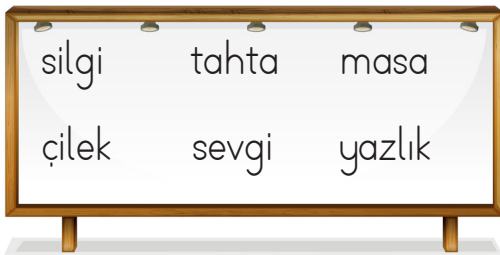
11.



Yukarıdaki görsellerin isimleri sözlükteki sırayla yazıldığında hangi sıralama doğru olur?

- A. 1 2 3
 B. 2 1 3
 C. 3 2 1

12.



Tahtada yazılan kelimelerden kaç tanesi ek alarak anlam değişikliğine uğramıştır?

- A. 3 B. 4 C. 5

13. "Uzun" sözcüğünün zıt anlamlısı aşağıdaki cümlelerden hangisinde kullanılmıştır?

- A. Kısa kollu tişört giydim.
 B. Büyük bir pasta aldım.
 C. Güçlü durmak lazım.

14. muallim → öğretmen

Yukarıdaki sözcükler arasındaki anlam ilişkisi aşağıdakilerden hangisinde yoktur?

- A. öğrenci - talebe
 B. doktor - hekim
 C. büyük - küçük

15. Uzun zamandır görmediğim ablamı göreceğim için çok mutluyum.

Yukarıdaki cümle hangi duyguyu içerir?

- A. Üzüntü
 B. Öfke
 C. Sevinç



Ayakkabının fiyatı gömlekten 20 lira eksik, tişörtten 10 lira fazladır.

Ayakkabı 40 lira olduğuna göre 3 ürünün toplamı ne kadardır?

- A. 130 B. 70 C. 110

2. 4 tane 5 lira, 8 tane 1 liradan kaç lira fazladır?

- A. 12 B. 10 C. 9

3. Ayhan, Deniz ve İpek markete gidiyorlar. Aldıkları ürünlere 27 lira ödüyorlar. Ayhan Deniz'den 3 lira eksik, İpek'ten ise 3 lira fazla para ödüyor.

Deniz markete kaç lira ödemiştir?

- A. 6 lira
B. 9 lira
C. 12 lira



Yukarıdaki paraların toplamı 100 liradan kaç lira eksiktir?

- A. 30 B. 35 C. 40

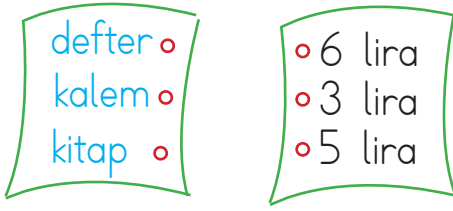
Soruya Gel 😊



Babası, Yusuf'a görseldeki kadar para veriyor. Kardeşleri ile eşit olarak paylaşmasını istiyor. Eşit olarak paylaşmak için sadece 50 lirayı bozdurması gerekiyor. Yusuf, 50 lirayı nasıl bozdurursa eşit paylaşım yapabilir?



6.

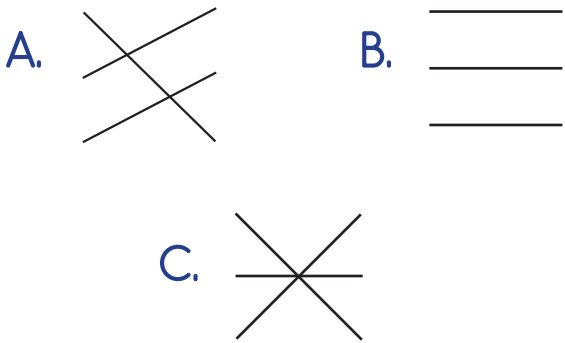


Defterin fiyatı: 4 tane 50 kuruş,
3 tane 1 lira

Kalemin fiyatı: Defterin fiyatının
2 katının 4 eksiği

Kitabın fiyatı: Kalemin fiyatının
yarısı

Yukarıdaki fiyat listesinin doğru eşleştirilmesi aşağıdakilerden hangisidir?



7.



Yukarıdaki paraların çeyreği aşağıdakilerden hangisidir?



8.

Bir yıl: ay
Bir ay: hafta
Bir hafta: gün

Yukarıda verilen tabloda noktalı yerlere sırası ile hangi sayılar yazılmalıdır?

- A. 12 - 7 - 4
B. 7 - 12 - 4
C. 12 - 4 - 7

9. Sınıfımızdaki sıraların çeyreği 4 sıra eder. Sınıfımızda kaç sıra vardır?

- A. 16 B. 12 C. 8

10.

| Tamamı | Yarısı | Çeyreği |
|--------|--------|---------|
| | | |

Tabloda sembollerle gösterilen yerlere kaç balon çizilmelidir?

- A. — 12 — 6
B. — 9 — 3
C. — 6 — 4

11.



Selim yanda gösterilen saatte futbol sahasına gidiyor.

Sahada 3 saat kaldığına göre saat kaçta eve dönmüştür?

- A. 14:15 B. 15:15 C. 16:15


12. Asel'in 18, kardeşinin 8 cevizi vardır. Asel kardeşine kaç ceviz verirse ikisinin cevizlerinin sayısı eşit olur?

- A. 5 B. 8 C. 10

13. Bir ayı 30 gün olarak düşündüğümüzde 4 ay kaç gün eder?

- A. 90 B. 120 C. 150

14.

Yandaki musluk yarım saat açık kalınca kovanın tamamını dolduruyor. 6 kova  doldurmak için kaç saat açık kalması gerekiyor?

- A. 6 saat
B. 12 saat
C. 3 saat

15. Evdeki çiçeği 3 güne bir suluyoruz. İlk suyu pazartesi günü verdik.

4. kere suyu hangi gün veririz?

- A. Çarşamba
B. Perşembe
C. Cumartesi

1. Aşağıdakilerden hangisi evcil hayvan değildir?




2. Bitkiler yaşar.
Yukarıda boş bırakılan yere aşağıdakilerden hangisi gelmelidir?


A. suda B. toprakta C. havada


3. Hava olmadan ve yaşayamazlar.

Yukarıda boş bırakılan yere aşağıdaki ikililerden hangisi gelmelidir?

A. bitki - masa
B. hayvanlar - bitkiler
C. koltuk - hayvan

4.  Hayvanlardan bazıları beslenmek için bitkilere ihtiyaç duyar.

 Tüm bitkilerin yaşaması için sadece su yeterlidir.

 Hayvanların çoğalması tohumla olur.

Çocuklardan hangisi doğru bilgi vermiştir?



5. Aşağıdaki bilgilerden hangisi yanlıştır?

A. Bitkiler birçok canlının besin kaynağıdır.
B. Ağaçlar doğayı kirletir.
C. Hayvanlar bizim için önemlidir.

6. ● Hava ■ Besin ▲ Su

Bitki ve hayvanların hayatlarını sürdürebilmesi için yukarıdakilerden hangileri gereklidir?

- A. ● ■ ▲
B. ■ ▲
C. ● ■

7. Aşağıdakilerden hangisi bitkileri koruyan önlemlerden değildir?

- A. Ağaçlandırma yapmak
B. Ormanları korumak
C. Sanayi tesisleri kurmak

8. Bitkiler ve hayvanlar için hangisi ortak ihtiyaç değildir?

- A. Barınma
B. Hava
C. Su


9.



Yukarıdaki görsellerden hangisi köpeğin barınma ihtiyacı ile ilgilidir?

- A. Su
B. Kemik
C. Kulübe

10.



Yukarıdaki görselde ne anlatılmaktadır?

- A. Çiçeğin büyümesi
B. Güneşin parlaması
C. Hayvanların beslenmesi