

## ÖZEL BİR GÜN

Yağmur çok şiddetli yağıyordu. Serdar, şemsiyesini alıp evden çıktı. Yetişişi gereken bir yer vardı. Hızlı adımlarla yolda yürümeye başladı. Rüzgarın şiddetiyle şemsiye ters döndü. Şemsiyeyi düzeltmeye çalıştı ama o sırada çok ıslandı. Gideceği yere sonunda varmıştı. Kapıdan içeri girdi. Masada oturan kadının yanına yaklaştı. Elindeki çiçeği verdi. "Anneler günün kutlu olsun anneciğim." dedi.

1, 2 ve 3. soruları metne göre cevaplayalım.

1. Yağmur nasıl yağıyordu?

- A. Çok şiddetli
- B. Hafifçe
- C. Normal

2. Serdar'ın şemsiyesi neden ters döndü?

- A. Hızlı yürüdüğü için
- B. Rüzgârın etkisinden kaynaklı
- C. Yağmur yağdığı için

3. Serdar elindeki çiçeği kime vermiştir?

- A. Babasına
- B. Yoldan geçen kadına
- C. Annesine

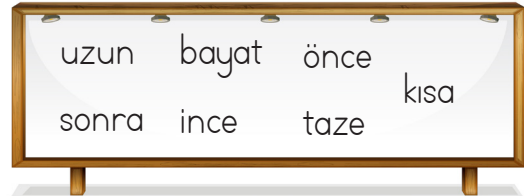
4.

		Önce	Sonra
1.	Kalem		<input checked="" type="checkbox"/>
2.	Köpek		<input checked="" type="checkbox"/>
3.	Kardeş	<input checked="" type="checkbox"/>	

Tabloda verilen sözcüklerin sözlükte "koyun" sözcüğünden önce mi, sonra mı geleceği işaretlenmiştir. Buna göre hangi sözcükle ilgili işaretleme hatalıdır?

- A. 1
- B. 2
- C. 3

5.



Bu sözcükler zıt anlamlılarıyla eşleştirildiğinde hangisi dışta kalır?

- A. ince
- B. kısa
- C. bayat

6. 1. kararır  
2. baka  
3. üzüm  
4. baka  
5. üzüme

Numaralanmış sözcüklerle anlamlı ve kurallı bir cümle oluşturmak için sıralama aşağıdakilerden hangisi gibi olmalıdır?

- A. 1 - 3 - 4 - 5 - 2  
B. 3 - 5 - 2 - 4 - 1  
C. 2 - 1 - 4 - 3 - 5
7. Aşağıdaki kelimelerden hangisinin tek başına bir anlamı yoktur?
- A. ile  
B. ben  
C. kuş

8. 

1.					
2.					
3.					

 1. cevap  
2. yurt  
3. sulh

Numaralanmış sözcüklerin eş anlamlılarını bulmacaya yazılacaktır.

Buna göre bulmacanın ilk sütunu aşağıdakilerden hangisidir?

- A. Y                      B. T                      C. N  
V                          N                          T  
B                          R                          Ş

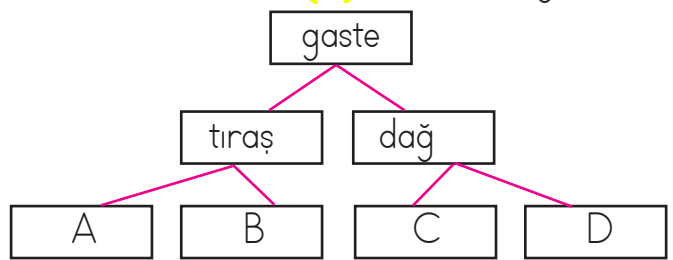
9. Oklara dikkat ederek çocuğu istenilen yere ulaştıralım. Üzerinden geçtiği harfleri sırasıyla yazıp şifreyi oluşturalım.

	İ	H	K	İ	İ	É
D	Y	T	E	K	L	İ
F	İ	İ	Ş	A	M	Ş
G	S	K	A	S	L	Ğ
H	İ	J	K	İ	İ	T
J	N	A	Ş	N	V	O

Oluşan şifre aşağıdakilerden hangisidir?

- A. İYİSİN  
B. İHTİŞAMLI  
C. İLERİDESİN

10. Yanlış ← Doğru



İpek, verilen kelime yanlış yazılmışsa sol tarafa, doğru yazılmışsa sağ tarafa ilerliyor.

Buna göre İpek'in en son ulaştığı yerde hangi harf vardır?

- A. A                      B. B                      C. C

11. "Sen ..... Burak çok iyi çalıştınız." Cümlesindeki boşluğa aşağıdakilerden hangisi gelmelidir?

- A. için      B. ama      C. ve

12.



Aşağıdaki cümlelerden hangisinin sonuna farklı noktalama işareti konur?

- A. Kaç yaşındasın  
B. Gidelim  
C. Sakladın mı

13. Düzenli fırçalamalıyız dişlerimizi olarak Yukarıdaki kelimelerden hangilerinin yerleri değiştirilirse cümle kurallı ve anlamlı olur?

- A. Düzenli - dişlerimizi  
B. fırçalamalıyız - olarak  
C. Düzenli - olarak

14. 1. Korkma, sönmez bu şafaklarda yüzen al sancak  
2. Sönmeden Yurdumun üstünde tüten en son Ocak  
3. o benim milletimin yıldızıdır parlayacak  
4. O benimdir o benim milletimindir ancak

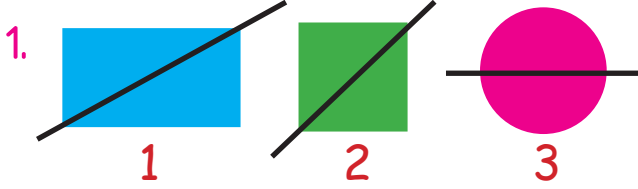
Numaralanmış dizelerde yazım yanlışı olup olmadığıyla ilgili aşağıdakilerden hangisi doğrudur?

Yazım Yanlışı	
Var	Yok
A. 1-2	3-4
B. 1-3	2-4
C. 2-3	1-4

15. Şaban dedesinin yanına oyuncaklarıyla gitti.

Bu cümlede hangi sözcükten sonra virgül konulmalıdır?


- A. Şaban  
B. oyuncaklarıyla  
C. gitti



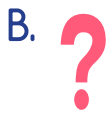
Hangi şeklin simetri doğrusu yanlış çizilmiştir?

- A. 1      B. 2      C. 3

2. Aşağıdakilerden hangisi ışına örnek olamaz?



3. Hangisinde nokta modeli yoktur?



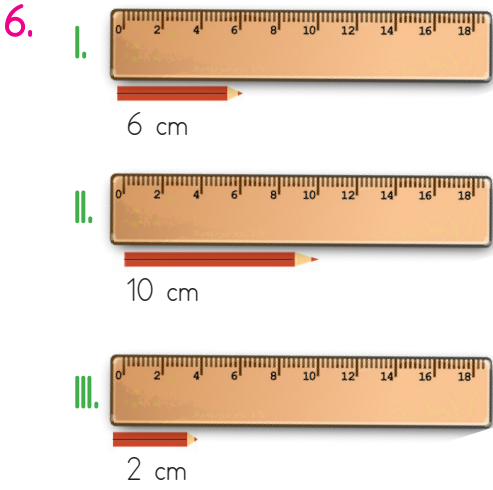
Yukarıdaki örüntüde soru işareti (?) yerine hangi şekil gelmelidir?



5. 

Yukarıda açılımı verilen dikdörtgenler prizmasında 3 numaralı yüzün karşısına kaç numaralı yüz gelir?

- A. 6      B. 4      C. 1



Yukarıda cetvelle yapılan ölçümlerden kaç numaralı ölçüm hatalıdır?

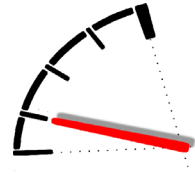
- A. I      B. II      C. III

8. Gamze evdeki duvarı kulaçlarıyla ölçünce 5 kulaç, adımlarıyla ölçünce 9 adım olduğunu fark ediyor. Gamze'nin bir kulaçı 90 cm olduğuna göre Gamze'nin bir adımı kaç cm'dir?

- A. 50      B. 60      C. 70

Soruya Gel 😊

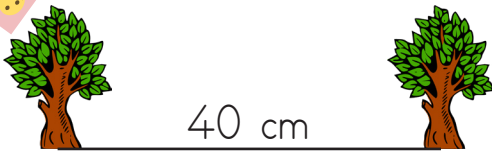
9.



Yukarıdaki gösterge, arabada kalan benzini göstermektedir. Göstergenin en alttaki çizgiye gelmesi benzinin bittiğini, en üstteki çizgiye çıkması deponun tam dolu olduğunu gösterir. Arabada şu an olan benzin, aracı 60 km götürdüğüne göre, depo tam dolu iken araba kaç km yol gider? (Gösterge eşit aralıklara bölünmüştür)

- A. 240      B. 300      C. 360

7.




Bahçeye bir çizgi boyunca 40'ar cm arayla ağaçlar dikiliyor. Birbirine en uzak iki ağaç arası mesafe 320 cm ise bahçeye kaç ağaç dikilmiştir?

- A. 7      B. 8      C. 9


10. Aşağıdaki bilgilerden hangisi yanlıştır?

- A. Doğru parçasının iki ucu da sınırlıdır.  
B. Her ışının başlangıç noktası vardır.  
C. Doğrunun bir ucu sınırlı, diğer ucu sınırsızdır.

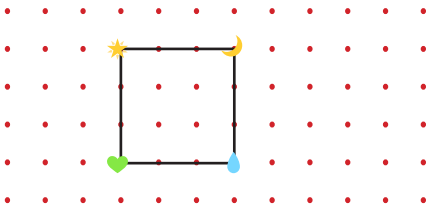
11. Aşağıdakilerden hangisi nokta örneği değildir?

A.  → Kalemın kağıtta bıraktığı iz

B.  → Kulübenin çatısı

C.  → Topun duvarda bıraktığı iz

12.



Noktalı kağıtta verilen karenin köşeleri farklı sembollerle belirtilmiştir.

Buna göre hangi semboller bir çizgi ile birleştirildiğinde karenin köşegenlerinden biri elde edilemez.

- A.    
 B.    
 C.  

13.

468 cm = ..... dir.

Soruda boş bırakılan yere aşağıdakilerden hangisi gelmelidir?

A. 468 m

B. 4 m 68 cm

C. 46 m 8 cm

14. Aşağıdaki tahminlerden hangisi gerçek olabilir?

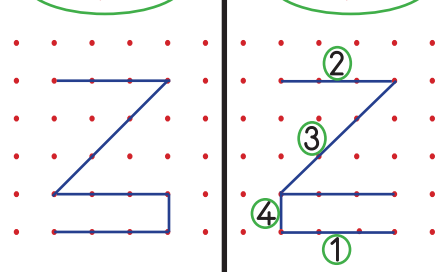
- A. Asel'in boyu 876 santimetredir.  
 B. Mustafa, Can'dan 2 cm kısadır.  
 C. Silgiyi cetvelle ölçtüğümde 7 m çıkacaktır.

Soruya Gel

15.

1. şekil

2. şekil



Yukarıda 2. şekilde kaç numaralı çubuğun yeri değiştirilirse 1. şeklin simetrisi elde edilir?

- A. 2                      B. 3                      C. 4

1. Elektrikli araç ile kullanım amacı eşleştirmelerinden hangisi yanlıştır?
- A. Ampul - aydınlatma  
B. Telefon - temizlik  
C. Elektrikli soba - ısınma




2.




Yukarıdaki görsel hangi enerji türünü hangi enerji türüne dönüştürür?

- A. Elektrik enerjisini ısı enerjisine  
B. Elektrik enerjisini ışık enerjisine  
C. Isı enerjisini elektrik enerjisine
3. İlkay elektrik ile çalışan araçlar ile elektriğin sağlandığı kaynakları eşleştirmiştir.

Bu eşleştirmelerin hangisinde hata yapılmıştır?

- A.  pil
- B.  Şehir elektriği
- C.  akü

4.



Şekildeki araç ve gereçlerden kullanım alanı elektrik ile ilgili olanların kutuları boyandığında tablonun son görünümü nasıl olur?

- A. 

- B. 

- C. 


5. Aşağıdaki ifadelerden hangisi doğrudur?
- A. Pillerin hepsi aynı güçtedir.  
B. Pilleri ters takarsak kumanda çalışmaz.  
C. Pilleri çevreye atabiliriz.

6.

1.	Kumanda	☹️
2.	Buzdolabı	☹️
3.	Zurna	😊

Yukarıdaki araç gereçlerden elektrikle çalışanlara güler yüz, elektrikle çalışmayanlara üzgün yüz konulmuştur. Kaç tanesinde yanlışlık yapılmıştır?

- A. 1                      B. 2                      C. 3

7. 1. Karanlık ortam  
2. Hava  
3. Su

Bir tohumun büyüüp gelişebilmesi için hangisine ya da hangilerine ihtiyacı vardır?

- A. 1 - 3                      B. 2 - 3                      C. 1 - 2

8.

Sincap	Tahta
Telefon	Soba

Yukarıdaki varlıklarla bir grup oluşturmak istendiğinde hangisi dışarıda kalır?

- A. Telefon                      B. Soba  
C. Sincap

9. Bitkinin üremesini sağlayan organ hangisidir?

- A. çiçek                      B. kök                      C. yaprak

10. Aşağıdakilerden hangisi ormanların korunması için alınması gereken önlemlerden biri değildir?

- A. Ağaçları kesmek  
B. Kağıt tüketimini azaltmak ve geri dönüşümünü sağlamak  
C. Kesilen ağaçların yerine fidan dikmek



1. Aşağıdakilerden hangisi müzeleri gezerken uymamız gereken kurallardan biri değildir?
- A. Sergilenen eşyalara dokunmamalıyız.
- B. Müzeleri gezerken dikkatli davranmalıyız.
- C. Müzeleri gezerken istediğimiz gibi bağırabiliriz.

2. □ Ülkemize göç etmiş birçok insan vardır.
- △ Ülkemize göç eden insanlara kızgın olmalıyız.
- 23 Nisan Atatürk'ün armağanıdır.
- Hangi sembolle gösterilen ifade yanlıştır?
- A. ○      B. △      C. □

3. ① Çalışkanlık  
② İleri görüşlülük  
③ Vatanseverlik

Yukarıdakilerden hangisi ya da hangileri Atatürk'ün kişisel özelliklerindedir?

A. 1 - 2

B. 1 - 2 - 3

C. 2 - 3

4. Aşağıdakilerden hangisi Atatürk'ün kişilik özelliklerinden değildir?
- A. Düşünmeden, aceleci kararlar verirdi.
- B. Planlı çalışırdı.
- C. Disiplinliydi.

5. Aşağıdakilerden hangisi insanların sahip olduğu hak ve hürriyetler içerisinde sayılmaz?
- A. Düşüncelerimizi özgürce söylemek
- B. Seçimlerde oy kullanmak
- C. Toplum içerisinde yüksek sesle şarkı söylemek

6. Aşağıdakilerden hangisi seçilerek iş başına gelen yöneticilerden değildir?

- A. Muhtar
- B. Belediye başkanı
- C. Okul müdürü

7.



Yukarıdaki resim Atatürk'ün yaptığı yeniliklerden hangisiyle ilgilidir?

- A. Kılık kıyafette yenilik
- B. Latin harflerinin kabulü
- C. Soyadı değişikliği

8. Milli birlik ve beraberliğimize örnek verebileceğimiz birçok olay vardır.

Aşağıdaki olaylardan hangisi yukarıdaki bilgiye örnek olarak verilemez?


- A. Kurtuluş Savaşı
- B. Çanakkale Savaşı
- C. Pikniğe gitmek

9. Köy ve mahallelerin yasalarla belirtilen işlerini yürütmek için seçilmiş kişilere ..... denir.

Yukarıda boş bırakılan yere aşağıdakilerden hangisinin gelmesi uygun olur?

- A. muhtar
- B. vali
- C. kaymakam

10.



Yukarıdaki öğrencilerden hangisi ülkemizin yönetim şeklini doğru söylemiştir?

- A. Çınar
- B. Sibel
- C. Eren