

➔ Aşağıdaki tabloya haftanın günlerini yazalım. Soruları cevaplayalım.

Haftanın Günleri	
1. Gün:	.....
2. Gün:	.....
3. Gün:	.....
4. Gün:	.....
5. Gün:	.....
6. Gün:	.....
7. Gün:	.....

➔ Haftanın ilk günü hangisidir?

-----

➔ Haftanın son günü hangisidir?

-----

➔ Haftanın ikinci günü hangisidir?

-----

➔ Haftanın üçüncü günü hangisidir?

-----

➔ Aşağıdaki tabloya haftanın günlerini yazalım. Boşlukları dolduralım.

HAFTANIN GÜNLERİ						
1. Gün	2. Gün	3. Gün	4. Gün	5. Gün	6. Gün	7. Gün
Pazartesi				Cuma		

DÜN	BUGÜN	YARIN
.....	Salı	.....



DÜN	BUGÜN	YARIN
.....	Perşembe	.....



DÜN	BUGÜN	YARIN
.....	Çarşamba	.....



DÜN	BUGÜN	YARIN
.....	Cumartesi	.....



DÜN	BUGÜN	YARIN
.....	Cuma	.....



DÜN	BUGÜN	YARIN
.....	Pazar	.....



➔ Takvime göre aşağıdaki soruları cevaplayalım.

NİSAN					2020	
Pazartesi	Salı	Çarşamba	Perşembe	Cuma	Cumartesi	Pazar
		1	2	3	4	5
6	7	8	9	10	11	12
13	14	15	16	17	18	19
20	21	22	23	24	25	26
27	28	29	30	31		

2 Nisan hangi gündür?

Takvimde hangi ay verilmiş?

Nisan ayının ilk günü hangisidir?

23 Nisan hangi gündür?

Nisan ayının son günü hangisidir?

27 Nisan hangi gündür?

➔ Aşağıdaki tabloda boş alanlara gelmesi gereken günleri yazalım.

DÜN	BUGÜN	YARIN
SALI	-----	-----
-----	-----	PAZARTESİ
-----	CUMA	-----
ÇARŞAMBA	-----	-----
-----	SALI	-----
-----	-----	PAZAR

## İLKBAHAR




MART

NİSAN

MAYIS

## YAZ




HAZİRAN

TEMMUZ

AĞUSTOS

## SONBAHAR




EYLÜL

EKİM

KASIM

## KIŞ



ARALIK

OCAK

ŞUBAT

## ÖĞRENME ZAMANI

➔ 1 yılda 12 ay vardır

➔ 1 yılda 4 mevsim vardır

➔ 1 ayda 30 gün vardır

➔ 1 haftada 7 gün vardır

➔ 1 yılda 52 hafta vardır

➔ 1 yıl, 365 gün 6 saattir.

➔ 1 ayda 4 hafta vardır

➔ 1 mevsimde 3 ay vardır.

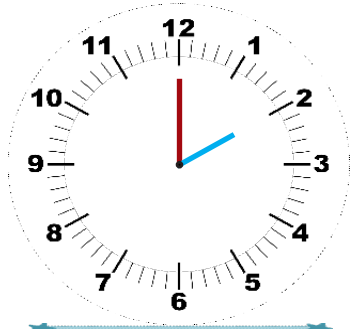


Aşağıdaki tabloda boş olan alanları, ayların isimleriyle dolduralım.

1. AY	
2. AY	
3. AY	
4. AY	
5. AY	
6. AY	

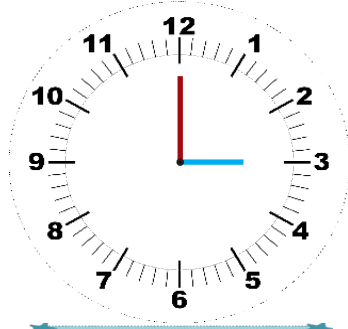
7. AY	
8. AY	
9. AY	
10. AY	
11. AY	
12. AY	

➔ Aşağıdaki saatlerin kaç gösterdiğini örnekteki gibi yazalım.




saat: 02.00

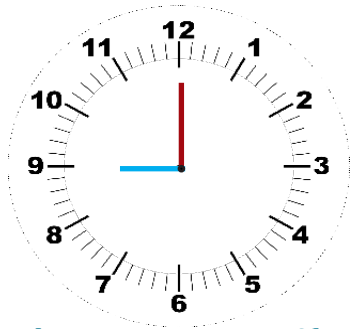
saat: iki



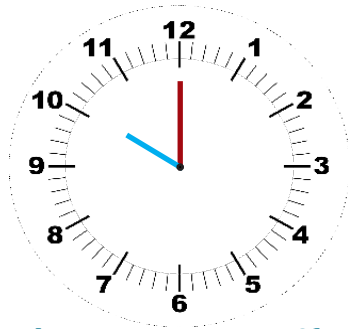
\_\_\_\_\_



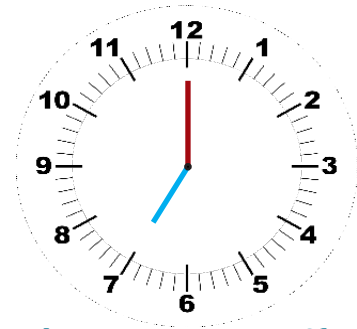
\_\_\_\_\_



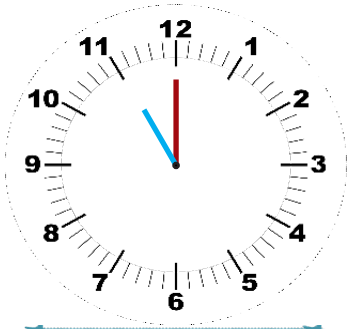
\_\_\_\_\_



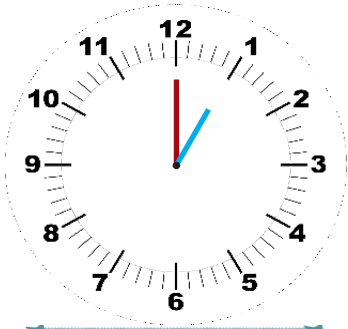
\_\_\_\_\_



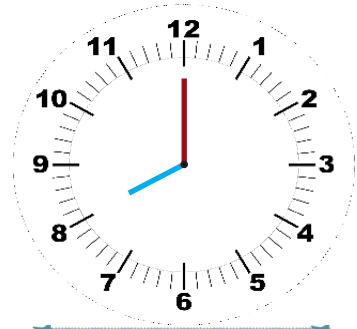
\_\_\_\_\_



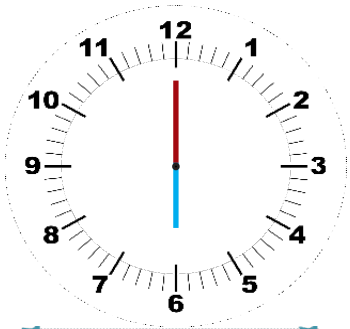
\_\_\_\_\_



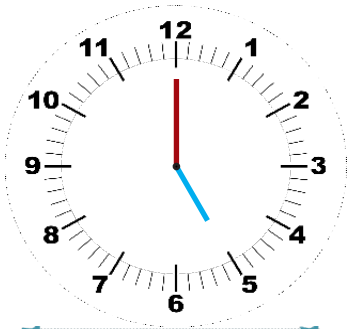
\_\_\_\_\_



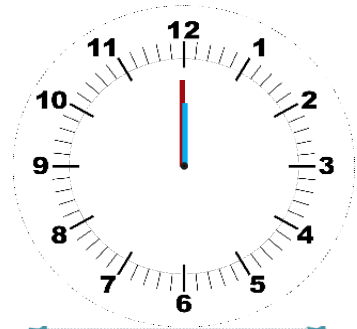
\_\_\_\_\_



\_\_\_\_\_

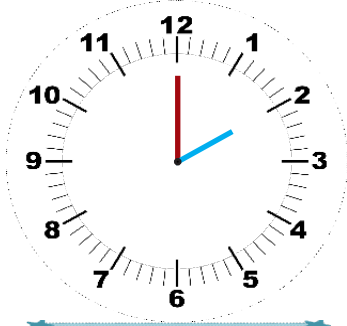


\_\_\_\_\_




\_\_\_\_\_


→ Aşağıda sayılarla gösterilen saatlerin akrep ve yelkovanlarını çizelim.



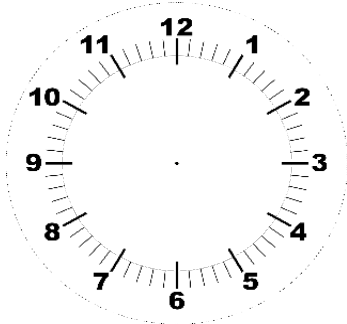
saat: 02.00



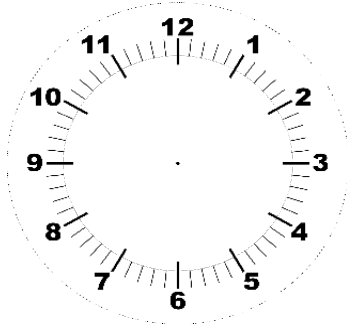
saat: 08.00



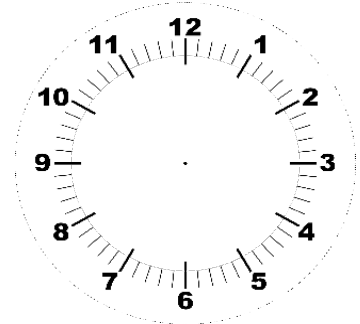
saat: 05.00



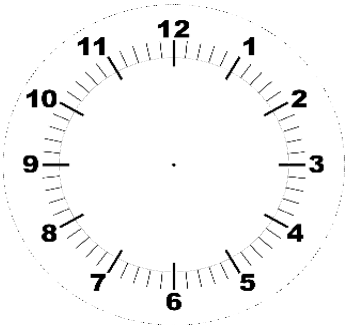
saat: 03.00



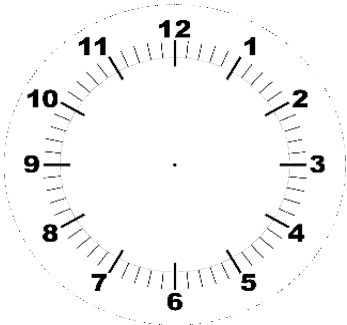
saat: 09.00



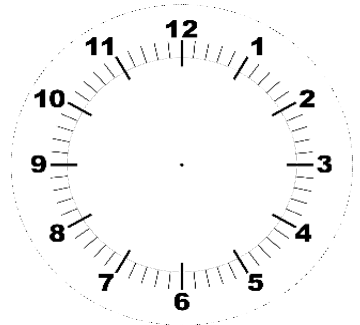
saat: 06.00



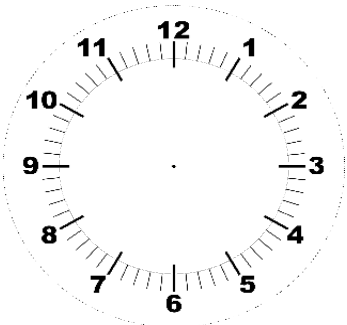
saat: 04.00



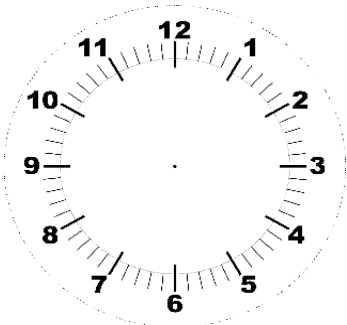
saat: 10.00



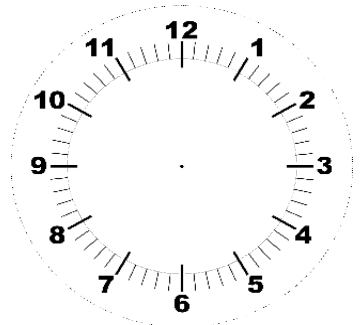
saat: 07.00



saat: 01.00



saat: 11.00





saat: 03.00

➔ Aşağıdaki saatlerin kaçı gösterdiğini örnekteki gibi yazalım.



saat: 02.30

saat: iki buçuk



➔ Aşağıda sayılarla gösterilen saatlerin akrep ve yelkovanlarını çizelim.



saat: 02.30



saat: 06.30



saat: 01.30



saat: 04.30



saat: 09.30



saat: 12.30



saat: 05.30




saat: 03.30



saat: 08.30



saat: 07.30



saat: 11.30



saat: 10.30



## MUSTAFA'NIN BİR GÜNÜ

Mustafa alarm sesiyle uyandı. Saat sekizi gösteriyordu. Yatağından kalktı ve elini, yüzünü yıkadı. Annesinin kahvaltısı hazırladığını gördü. Güzel bir kahvaltı yaptı. Kahvaltısı bitince saate baktı. Saat sekiz buçuk olmuştu. Çantasını akşamdan hazırlamıştı. Sadece kıyafetlerini giyecekti. Askıdaki kıyafetlerini alıp giyindi. Okul, evlerine çok yakındı. Yürüyerek okula geçti.



Saat dokuzda zil çaldı. Sınıfına geçti ve sırasına oturdu. Güzelce derslerini yaptı. Derslerine o kadar çok dalmıştı ki, saatin on ikiye geldiğini fark etmemişti. Öğle arası vaktiydi. Çok acıkmıştı. Arkadaşları ile kantine indi. Tost ve meyve suyu aldı. Aldıklarını yedikten sonra sohbete daldılar. Saatin bir buçuk olduğunu farketmediler. Hızlıca sınıfa çıktılar.

Çıkış zili çaldı. Saat iki buçuk olmuştu. Çantasını alıp eve yürüdü. Evde biraz dinlendikten sonra, saat beşte derslerine başladı. Derslerini bitirdi. Saat yedi olmuştu. Yemek vaktiydi. Yemeğini yedikten sonra saat dokuzda uyku vakti gelmişti. Yatağına uzandı ve güzelce uyudu.

Yukarıdaki metne göre saatlerin akrep ve yelkovanlarını çizelim ve yanlarındaki kutucuklara kaç gösterdiklerini sayılarla yazalım.



Mustafa saat kaçta uyandı?



\_\_\_\_\_



Mustafa saat kaçta kahvaltı yaptı?



\_\_\_\_\_



Saat kaçta uyudu?



\_\_\_\_\_



Saat kaçta derslerini bitirdi?



\_\_\_\_\_