




1. "19" sayısının yazımında kaç harf kullanılır?

- A. 7
- B. 8
- C. 9

2. Aşağıdakilerden hangisinde en büyük rakam kadar varlık vardır?



Yukarıdaki görselde kaç tane top vardır?

- A. 15
- B. 16
- C. 17

4. Aşağıda okunuşları verilen sayılardan hangisi yanlış yazılmıştır?


- A. 10 On bir
- B. 13 On üç
- C. 18 On sekiz

5. 1 onluk 7 birlik şeklinde ifade edilen sayı aşağıdakilerden hangisidir?

- A. 7
- B. 17
- C. 27

6. Birer ritmik sayma yaparken 13'ten önce ve sonra söylediğimiz sayılar hangisidir?

- A. 12 -15      B. 11 -15
- C. 12 -14



Yukarıdaki köpek ve kedi sayıları ile ilgili aşağıdakilerden hangisi söylenemez?

- A. Köpek sayısı en büyük rakama eşittir.  
 B. Kedi sayısı köpek sayısından 2 tane fazladır.  
 C. Kedi sayısı 1 onluk, 2 birlikten oluşmuştur.
8. Aşağıdaki ifadelerden hangisi bir sırayı ifade eder?  
 A. Üç      B. 3      C. 3.

9.  $15 - 16 - \dots - ? - 19$

Yukarıdaki ritmik saymada soru işareti yerine hangi sayı gelmelidir?

- A. 14  
 B. 18  
 C. 20

10. Aşağıdaki geriye doğru ritmik saymaların hangisinde hata yapılmıştır?


A.  $10-9-8-7-6-5-4-3$

B.  $20-19-18-17-15-14$

C.  $16-15-14-13-12-11$

11. "18" sayısı kaç onluk, kaç birlikten oluşur?

- A. 8 onluk 1 birlik  
 B. 1 onluk 8 birlik  
 C. 1 onluk 0 birlik



Yukarıdaki görselle ilgili aşağıda söylenenlerden hangisi doğrudur?

- A. 17 tane domates vardır.  
 B. 12 tane salatalık vardır.  
 C. Salatalık sayısı, domates sayısından fazladır.