

GÜNEŞİN İSTEĞİ

Güneş öğrendiklerini pekiştirmek için deneme çözüyordu. Çözdüğü denemelerin sonuna gelmişti. "Keşke bir deneme daha olsaydı." diye düşündü. Aklına çok güzel bir çözüm gelmişti. Denemeyi hazırlayan kişiye bir video hazırladı. Videoda deneme istediğini çok güzel bir şekilde anlatmıştı. Denemeyi hazırlayan kişi bu video karşısında çaresiz kalmıştı. Bu güzel isteği yerine getirmemek ona yakışmazdı. 😊

1, 2 ve 3. soruları metne göre cevaplayalım.

1. Güneş öğrendiklerini pekiştirmek için ne yapıyordu?

- A. Deneme çözüyordu.
- B. Video çekiyordu.
- C. Ders çalışıyordu.

2. Aklına nasıl bir çözüm gelmişti?

- A. Soru çözmek
- B. Deney yapmak
- C. Video göndermek

3. Metnin başlığı nedir?

- A. Güneş Gökyüzünde
- B. Güneş'in İsteği
- C. Güneş Neler Yapıyor?

4. Furkan yere düşüncce ayağı incinmiştir.




Furkan'ın iyileşmesi için üzerinde aynı hecelerden oluşmuş kelimenin yazılı olduğu yara bandının yarasına yapıştırılması gerekiyor.


Doğru yara bandı hangisidir?

- A. Köstebek
- B. Cıvcıv
- C. Balık

5. Aşağıdakilerden hangisinin adı alfabemizin yedinci harfi ile başlamaktadır?



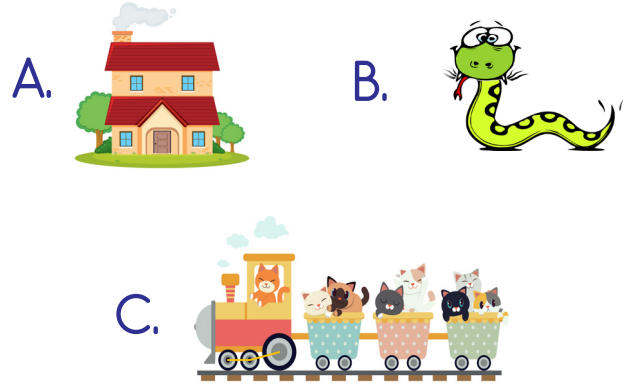
6. Aşağıdaki varlıkların hangisinde üç tane "e" harfi vardır?



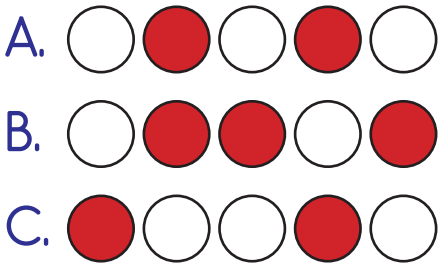
9.



Yukarıdaki bilmecede anlatılan varlık hangisidir?



7. "Deniz" kelimesinin sırasıyla her bir harfi bir daire ile gösterilmektedir. Daha sonra ünlü harflerle gösterilen daireler boyanmaktadır. Boyama bittikten sonra oluşan şekil hangisidir?



8. Hangi meyveyi seviyorsun ()
Yukarıdaki cümlenin sonuna hangi noktalama işareti konulmalıdır?



10.






Aşağıdaki cümlelerden hangisi yukarıdaki sorunun cevabı olur?

- A. Pazardan elma aldı.
B. Bahçede oynadık.
C. Okula gideceğim.


11. Gizem  in Ankara  da evi var .

Yukarıda, sembollerle belirtilen yerlere sırasıyla aşağıdaki noktalama işaretlerinden hangisi gelmelidir?

			
A.	,	,	.
B.	,	,	?
C.	.	,	.

Soruya Gel 🤔

12.



Yukarıdaki kağıdın sol tarafına mürekkep ile bir kelime yazılıyor. Daha sonra kağıt, şekildeki gibi soldan sağa katlanıyor. Katlanan kağıt tekrar açıldığında solunda ve sağında aynı kelime yazıldığı görünüyor. Kağıtta yazılı olan kelime hangisi olabilir?

- A. AMA B. KOLA
C. ASİ

13. Okuduğu kitabı çok beğendi.

Yukarıdaki cümlede noktalı yere aşağıdaki sözcüklerden hangisi yazılamaz?

- A. herkes
B. ailesi
C. biz

14. Derin sularda yüzmek çok tehlikelidir.

Yukarıdaki cümlede altı çizili kelimenin zıttı aşağıdakilerden hangisidir?

- A. az
B. fazla
C. bol

15. "Güneş, ailesiyle Pikniğe gidecek." Yukarıdaki cümlede hangi sözcüğün yazımı yanlıştır?

- A. Güneş B. ailesiyle
C. Pikniğe

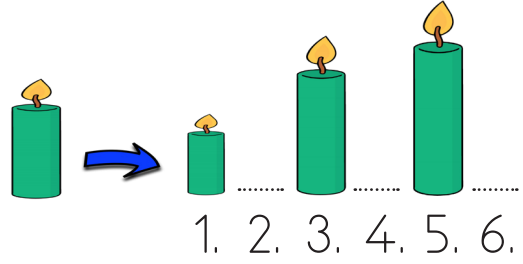
Kantinde Satılan İçecekler

İçecekler	İçecek Sayısı
Su	11
Ayran	4
Süt	16
Limonata	8

İlk üç soruyu tabloya göre cevaplayalım.

- En çok satılan içecek aşağıdakilerden hangisidir?
 - süt
 - ayran
 - su
- Tabloya göre kaç su satılmıştır?
 - 16
 - 11
 - 8
- En çok satılan içecek ile en az satılan içecek arasındaki fark kaçtır?
 - 12
 - 8
 - 6

4.



Başta verilen mumun uzunluğu, yukarıdaki sıralamaya göre kaçınıcı sırada olmalıdır?

- 2.
- 4.
- 6.


5.

İki ağaç arası mesafeyi Deniz 12 adım, Sinan 14 adım, Merve 16 adım ölçtü.

Yukarıdaki ölçme sonuçlarına göre aşağıdaki bilgilerden hangisi doğrudur?

- Merve'nin adımları diğerlerinden daha uzundur.
- Deniz'in adımı en kısa olanıdır.
- Deniz'in adımı Sinan'ın adımından daha uzundur.

Soruya Gel!

6. $\boxed{2}$ ↓ $\boxed{3}$ → $\boxed{2}$ ↑ $\boxed{3}$ → $\boxed{3}$ ↓

Arı Sisi yukarıdaki kodlara göre uçacaktır. Uçarken üzerinden geçtiği çiçeklerin polenlerini alıp kovana götürecektir. Kaç çiçeğin polenini almıştır?

A. 6 B. 7 C. 8

7.




2 fincanla bardağın tamamını dolduran Elif 10 fincanla kaç bardak doldurur?

A. 10 B. 5 C. 2

8. 1 onluk 2 birlikten oluşan sayı ile 4 birlikten oluşan sayının farkı kaçtır?

A. 16 B. 12 C. 8


9.



Yukarıdaki nesnenin uzunluğunu, aşağıdaki ölçme birimlerinden hangisi ile ölçmemiz uygun olur?

A. adım
B. parmak
C. kulaç

10.



Trenin vagonlarına binmek isteyen çocuklar fiyatların farklı olduğunu fark ettiler.


- ➔ 1. vagonun ücreti 4 liradır.
- ➔ 2. vagonun ücreti 6 liradır.
- ➔ 3. vagonun ücreti, 1. vagonun ücreti ile 2. vagonun ücretinin toplamı kadardır.

Bu bilgilere göre 3. Vagona binmek isteyen ne kadar öder?

A. 10 B. 6 C. 4

Soruya Gel 😊

11.



Yukarıdaki görselde “?” yerine aşağıdakilerden hangisi gelmelidir?

- A.
- B.
- C.

12. Sedat manavdan 6 liralık portakal, 4 liralık mandalina aldı. Sedat aldığı ürünler için 17 lira öderse ne kadar para üstü alır?

- A. 10 B. 2 C. 7

13.

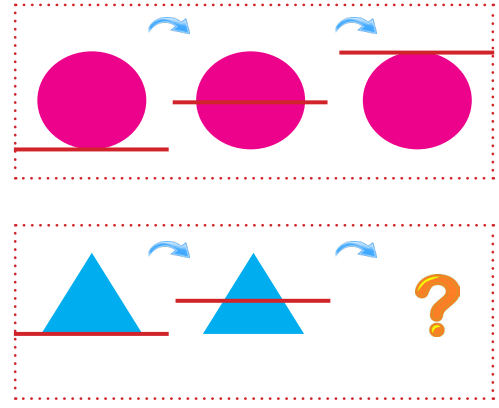


4 bardakla sürahinin yarısı doluyorsa tamamı kaç bardakla dolar?

- A. 4 B. 8 C. 12

Soruya Gel 😊

14.



Yukarıdaki görselde “?” yerine hangisi gelmelidir?

- A.
- B.
- C.

15.



Yukarıdaki bardaklardan hangisinin yarısı su ile doludur?

- A.
- B.
- C.

1.  köpek  kuş
 ayı  tilki
 kedi  tavuk




Yukarıda verilen hayvanlardan kaç tanesi evcildir?

- A. 3 B. 4 C. 5


2.



Mustafa'nın belirtmiş olduğu özellik, aşağıdaki hayvanlardan hangisine aittir?

- A.  B. 
 C. 

3. Aşağıdaki hayvanlardan hangisinin yaşam ortamı farklıdır?



4. Aşağıdakilerden hangisi bir gök cismi değildir?




5. Dünyamıza ısı ve ışık veren gök cismi nedir?






6. Dünya kendi etrafında döndüğünde ne olur?

- A. Gece - gündüz oluşur.
- B. Mevsimler meydana gelir.
- C. Güneş daha sıcak olur.

7.






Yukarıdakilerden hangilerinin geri dönüşümü yoktur?

- A. 
- B. 
- C. 

8. Aşağıdaki gök cisimlerinden hangisi diğerlerinden daha büyüktür?

- A. Ay
- B. Dünya
- C. Güneş

- 9.  Koyun> ağıl
-  Tavuk> kümes
-  Köpek> kovan

Yukarıdaki hayvanlardan hangisinin yaşadığı yer yanlış verilmiştir?

- A. Koyun> ağıl
- B. Tavuk> kümes
- C. Köpek> kovan

10.



Geceleyin gökyüzünde birçok gök cismi gördüm.

Deniz, gece gökyüzünde hangi gök cismini göremez?

- A. Ay
- B. Güneş
- C. Yıldız