
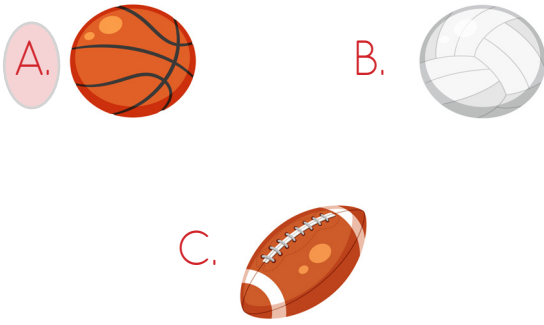



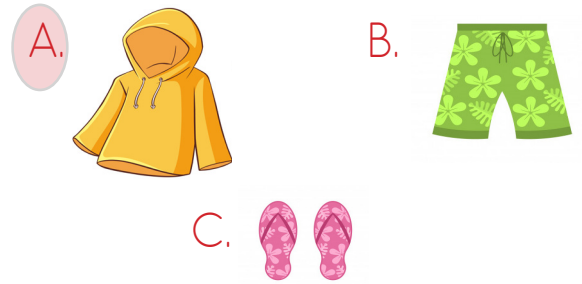
Yukarıdaki görseller belli bir kurala göre verilmiştir. Bu kurala göre soru işareti yerine hangisi gelebilir?



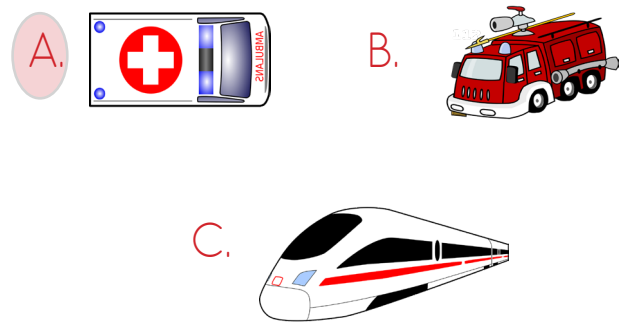
Yukarıdaki görseller belli bir kurala göre verilmiştir. Bu kurala göre soru işareti yerine hangisi gelebilir?




Yukarıdaki görseller belli bir kurala göre verilmiştir. Bu kurala göre soru işareti yerine hangisi gelebilir?




Yukarıdaki görseller belli bir kurala göre verilmiştir. Bu kurala göre soru işareti yerine hangisi gelebilir?






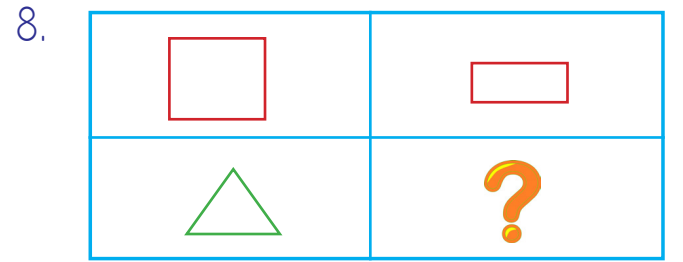

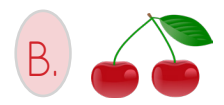
Yukarıdaki görseller belli bir kurala göre verilmiştir. Bu kurala göre soru işareti yerine hangisi gelebilir?



Yukarıdaki görseller belli bir kurala göre verilmiştir. Bu kurala göre soru işareti yerine hangisi gelebilir?



Yukarıdaki görseller belli bir kurala göre verilmiştir. Bu kurala göre soru işareti yerine hangisi gelebilir?



Yukarıdaki görseller belli bir kurala göre verilmiştir. Bu kurala göre soru işareti yerine hangisi gelebilir?

