

1.



Aşağıdakilerden hangisi yukarıdaki görselle ilişkilidir?


A.




B.



C.



2.



Aşağıdakilerden hangisi yukarıdaki görselle ilişkilidir?

A.



B.



C.



3.



Aşağıdakilerden hangisi yukarıdaki görselle ilişkilidir?

A.



B.



C.



4.



Aşağıdakilerden hangisi yukarıdaki görselle ilişkilidir?

A.



B.



C.



5.



Aşağıdakilerden hangisi yukarıdaki görselle ilişkilidir?


A.



B.



C.



7.



Aşağıdakilerden hangisi yukarıdaki görselle ilişkilidir?

A.




B.



C.



6.



Aşağıdakilerden hangisi yukarıdaki görselle ilişkilidir?


A.



B.



C.



8.



Aşağıdakilerden hangisi yukarıdaki görselle ilişkilidir?

A.



B.



C.

