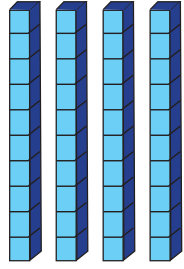


3 yüzlük



4 onluk



4 birlik

344

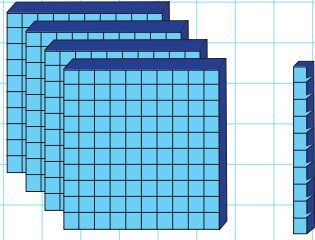
Birler basamağı

Onlar basamağı

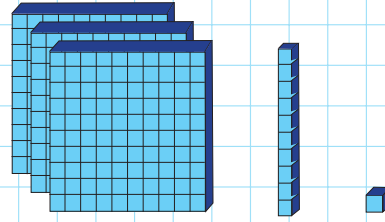
Yüzler basamağı

→ Üç basamaklı doğal sayılardaki basamaklar; birler, onlar ve yüzler basamağıdır. Birlikler birler, onluklar onlar ve yüzlükler yüzler basamağına yazılır.

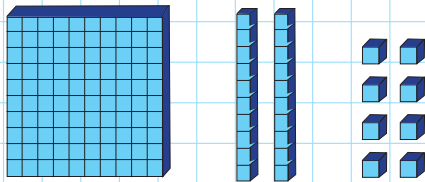
✏ Aşağıdaki taban blokları ile modellenen sayıları kutulara yazarak basamak adlarını belirtelim.



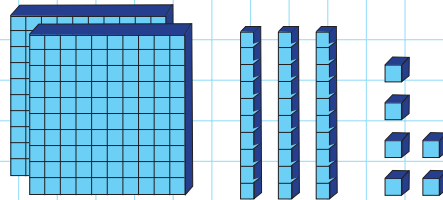
..... basamağı
..... basamağı
..... basamağı



..... basamağı
..... basamağı
..... basamağı



..... basamağı
..... basamağı
..... basamağı



..... basamağı
..... basamağı
..... basamağı



Üç rakamdan oluşan sayılar üç basamaklı sayılardır. Üç basamaklı doğal sayıları okurken önce yüzlükleri sonra onlukları daha sonra birlikleri söyleriz.

Örnek: 294 sayısını "iki yüz doksan dört" şeklinde okuruz.

2 yüzlük

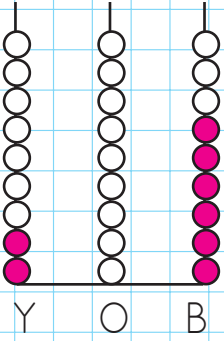
9 onluk

4 birlik

294


Aşağıdaki doğal sayıları abaküste gösterelim, sayıların okunuşlarını yazalım.

294




iki yüz altı

523



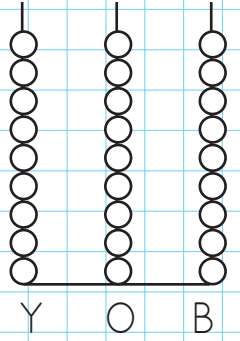
.....
.....

153




.....
.....

489




.....
.....

428




.....
.....

613



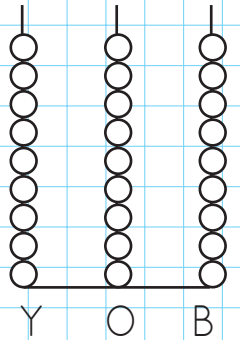
.....
.....

500



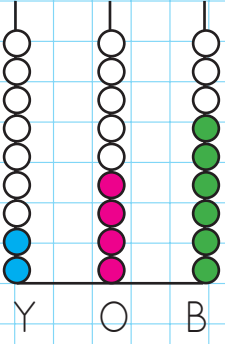
.....
.....

964

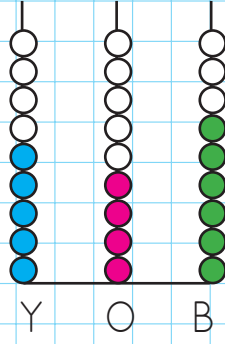


.....
.....

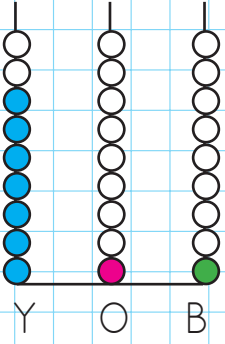
 Aşağıdaki abaküslerle modellenen sayıları örnekteki gibi yazalım.



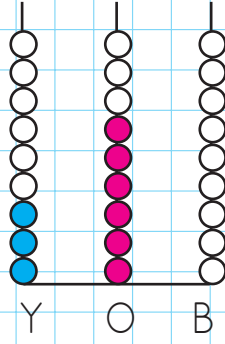
..... yüzlük
 onluk
 birlik



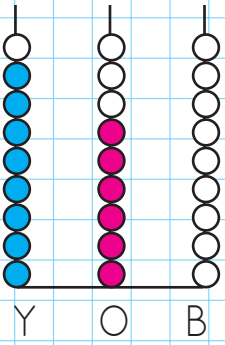
..... yüzlük
 onluk
 birlik



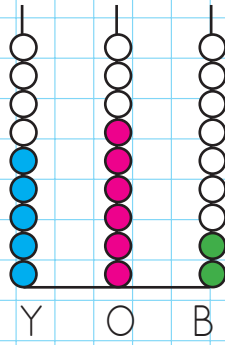
..... yüzlük
 onluk
 birlik



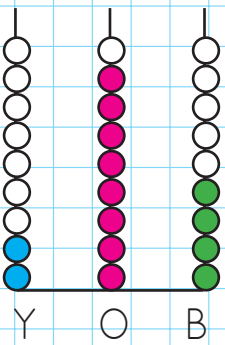
..... yüzlük
 onluk
 birlik



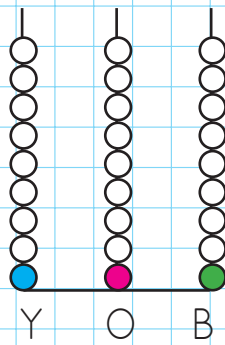
..... yüzlük
 onluk
 birlik



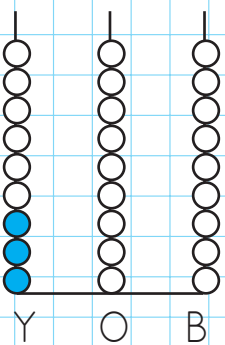
..... yüzlük
 onluk
 birlik



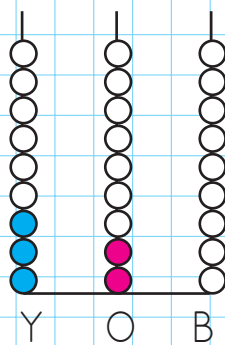
..... yüzlük
 onluk
 birlik



..... yüzlük
 onluk
 birlik



..... yüzlük
 onluk
 birlik



..... yüzlük
 onluk
 birlik

 Aşağıda verilen doğal sayıların okunuşlarını yazalım.

256	
501	
174	
652	
597	
333	
101	
583	
193	
654	
123	

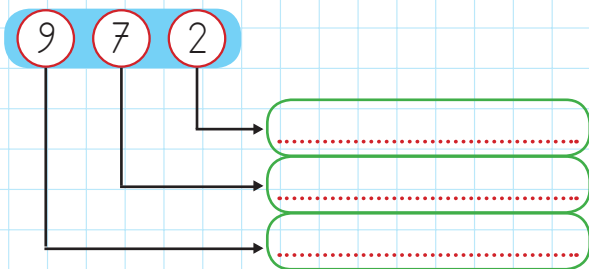
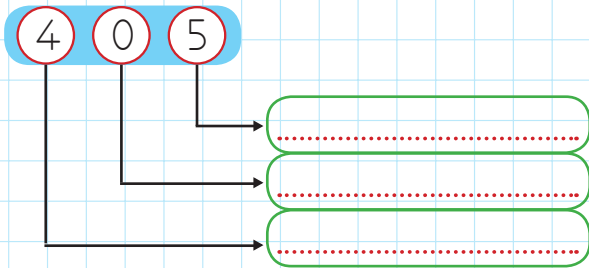
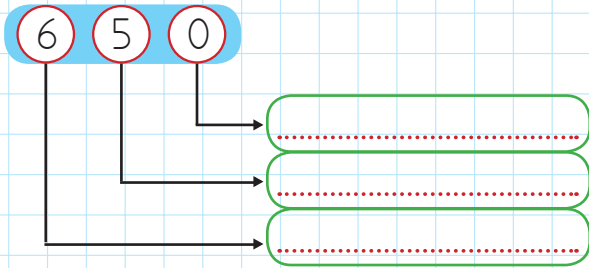
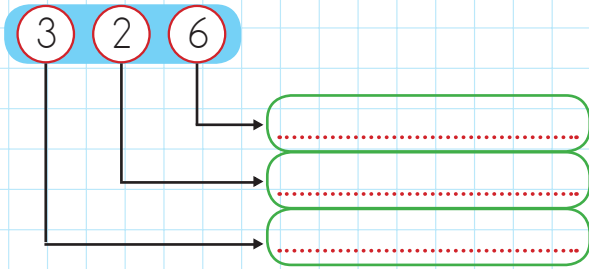
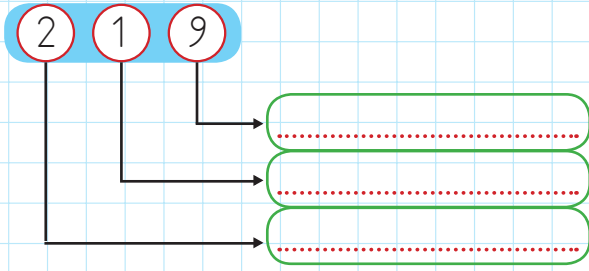
321	
356	
485	
975	
259	
108	
600	
587	
299	
176	
411	

 Aşağıda okunuşları verilen doğal sayıları rakamlarla yazalım.

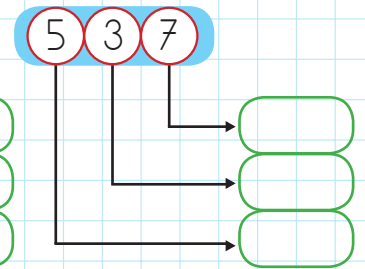
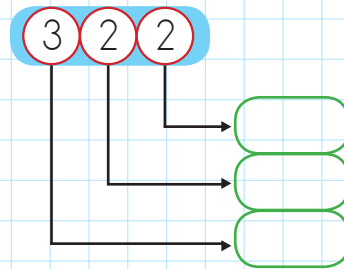
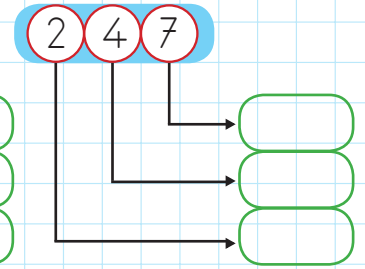
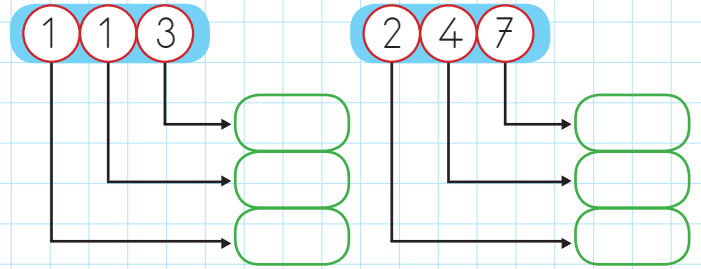
Yüz on altı	
İki yüz beş	
Üç yüz seksen sekiz	
Dokuz yüz altmış dört	
Beş yüz yirmi bir	
Altı yüz seksen dört	
Yedi yüz yetmiş iki	
Dokuz yüz on iki	
Yüz elli beş	
Beş yüz doksan dokuz	
Dört yüz kırk iki	

Yüz elli dokuz	
İki yüz otuz iki	
Dört yüz elli bir	
Altı yüz altmış iki	
Beş yüz on dokuz	
Sekiz yüz altmış yedi	
Dokuz yüz elli altı	
Yedi yüz kırk yedi	
Yüz otuz dokuz	
Beş yüz elli iki	
Dört yüz doksan yedi	

Aşağıdaki doğal sayıların basamak adlarını yazalım.



Aşağıdaki doğal sayıların basamaklarındaki rakamların basamak değerlerini yazalım.



Tabloda verilen sayıların basamak adlarını ve basamak değerlerini yazalım

	6	6	3
Basamak Adı	Basamağı	Basamağı	Basamağı
Basamak Değeri			

	9	0	4
Basamak Adı	Basamağı	Basamağı	Basamağı
Basamak Değeri			