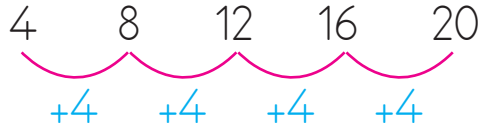




Belirli bir kurala göre ileriye veya geriye sayma işlemine ritmik sayma denir.



➔ Dörder ritmik sayma yaparak boşlukları doldurunuz.



4



.....



.....



.....



.....



.....



.....



.....






.....





.....

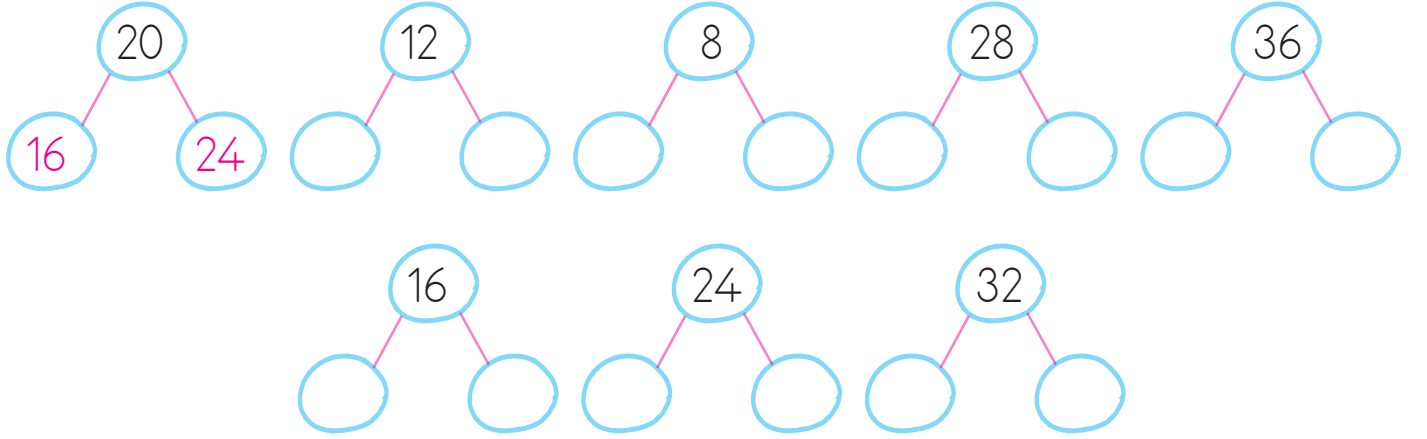
➔ Aşağıda verilen sayılardan başlayarak sıra ile ileriye doğru dörder ritmik sayalım. Boşlukları dolduralım.





➔ Aşağıda verilen sayılardan başlayarak sıra ile geriye doğru dörder ritmik sayalım. Boşlukları dolduralım.



➤ Dörder ritmik sayma kuralına göre verilen sayılardan önce ve sonra gelen sayıları örnekteki gibi yazalım.



➤ Aşağıdaki kutucukları dörder ritmik sayma kuralına göre dolduralım.



➤ Aşağıda dörder ritmik sayma ile ilgili ifadeler verilmiştir. Doğru ifadelerin başındaki kutucukları işaretleyelim.

4'ten başlayarak dörder ritmik sayarken 4. saymada söylenen sayı 16'dır.

16'dan başlayarak dörder ritmik sayarken 3. saymada söylenen sayı 20'dir.

12'den başlayarak dörder ritmik sayarken 6. saymada söylenen sayı 32'dir.

8'den başlayarak dörder ritmik sayarken 5. saymada söylenen sayı 20'dir.