


Bunları Bilelim




Yukarıdaki kalemelerin sayısı:
1 onluk + 2 birlik = 12 tanedir

10 tane birlik 1 onluk eder.


→ Aşağıda verilen varlıkları onluk ve birliklerine ayırarak yazınız.



..... onluk + birlik =



..... onluk + birlik =

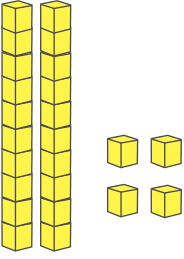


..... onluk + birlik =



..... onluk + birlik =

Onluk taban bloklarıyla gösterilen sayıları örnekteki gibi tabloda gösterelim.




2 onluk 4 birlik

20 4

24

yirmi dört



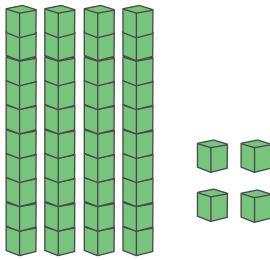
...onluk ...birlik

.....

.....

.....

.....



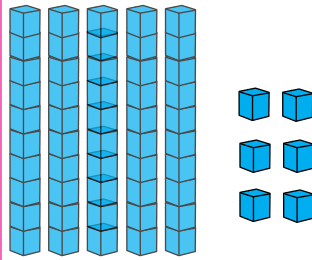
...onluk ...birlik

.....

.....

.....

.....



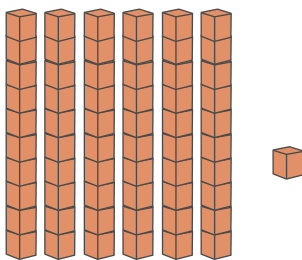
...onluk ...birlik

.....

.....

.....

.....



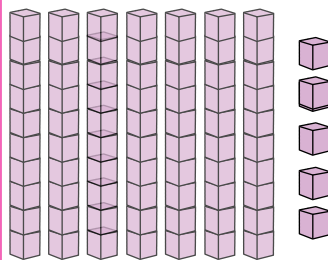
...onluk ...birlik

.....

.....

.....

.....



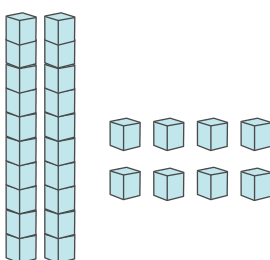
...onluk ...birlik

.....

.....

.....

.....



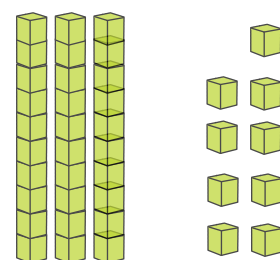
...onluk ...birlik

.....

.....

.....

.....



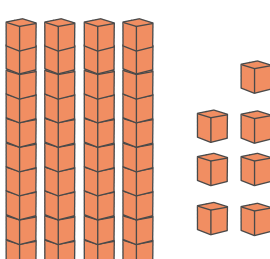
...onluk ...birlik

.....

.....

.....

.....



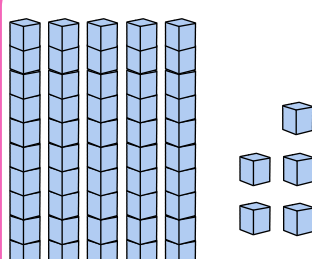
...onluk ...birlik

.....

.....

.....

.....



...onluk ...birlik

.....

.....

.....

.....

→ Aşağıdaki örneği inceleyelim. Diğer çalışmalarını örnekteki gibi yapalım.

2 onluk 3 birlik 20 3 23	3 onluk 4 birlik	4 onluk 6 birlik	5 onluk 0 birlik
6 onluk 4 birlik	7 onluk 3 birlik	8 onluk 4 birlik	9 onluk 5 birlik
2 onluk 6 birlik	3 onluk 7 birlik	4 onluk 8 birlik	5 onluk 9 birlik
6 onluk 1 birlik	7 onluk 8 birlik	8 onluk 5 birlik	9 onluk 0 birlik

→ Aşağıdaki sayıları onluk ve birliklerine ayırıp okunuşlarını yazalım.

Sayı	Onluk	Birlik	Okunuşu
12 →
24 →
33 →
47 →
58 →
63 →
74 →
87 →
92 →
38 →