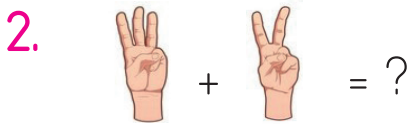

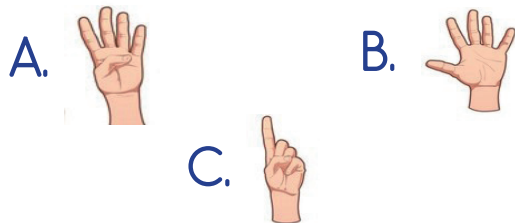


Yukarıda gösterilen toplama işleminin sonucu aşağıdakilerden hangisidir?



Yukarıda parmakla gösterilen toplama işleminin sonucu aşağıdakilerden hangisidir?



Yukarıdaki çiçeklerin yanına 2 tane daha çiçek eklersek çiçeklerin sayısı nasıl değişir?

- A. Artar  
B. Değişmez  
C. Azalır

4. Arda'nın 9 şekeri vardı. Kaç şekeri daha olsaydı 15 şekeri olurdu?

- A. 6  
B. 7  
C. 8

5. Aşağıdaki toplama işlemlerinden hangisinin sonucu "18" değildir?

A. 
$$\begin{array}{r} 13 \\ + 5 \\ \hline \end{array}$$


B. 
$$\begin{array}{r} 11 \\ + 7 \\ \hline \end{array}$$

C. 
$$\begin{array}{r} 9 \\ + 8 \\ \hline \end{array}$$



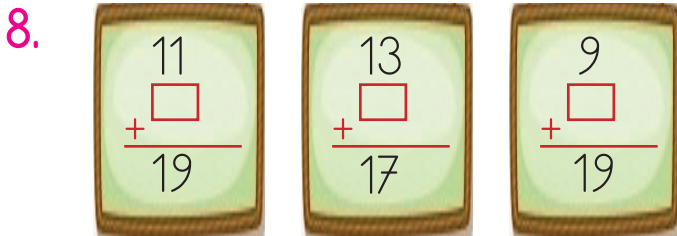
Yukarıda balonların üzerinde yazan en büyük ve en küçük sayıların toplamı kaçtır?

- A. 17  
B. 19  
C. 20



Yukarıdaki tele 8 tane daha kuş konarsa kuş sayısı kaç olur?

- A. 10  
B. 11  
C. 12



Yukarıdaki verilmeyen toplananlardan en büyüğü kaçtır?

- A. 8      B. 10      C. 12

9. Aşağıdaki ifadelerden hangisinde hata yapılmıştır?

- A. 12, 3 daha 15 eder.  
B. 8, 6 daha 13 eder.  
C. 17, 2 daha 19 eder.

10.  $13 + \text{☀} = 20$

Yukarıda verilen toplama işleminde ☀ sembolünün yerine aşağıdakilerden hangisi gelmelidir?

- A. 6  
B. 7  
C. 8



Yukarıdaki görselde yer alan hayvanların ayak sayısı toplamı kaçtır?

- A. 18      B. 19      C. 20