

Karıncalar çok düzenli ve çalışkan hayvanlardır. Yaz aylarında iş birliği içinde o kadar çalışırlar ki kış aylarında bunun sayesinde rahata kavuşurlar. Yaz aylarında daha çok karınca görüp kış aylarında daha az karınca görmemizin nedeni budur.



1. ve 2. soruları metne göre cevaplayalım.

1. Karıncalar nasıl hayvanlardır?

- A. Çok uykucu
- B. Çok tembel
- C. Çok çalışkan

2. Karıncaları kış aylarında daha az görmemizin nedeni nedir?

- A. Başka yerlere göç etmeleri.
- B. Yazın, kış için hazırlık yapmaları.
- C. Kış ayından korkmaları.

3. Aşağıdaki kelime çiftlerinden hangisi anlam bakımından diğerlerinden farklıdır?

- A. sözcük - kelime
- B. talebe - öğrenci
- C. siyah - beyaz

4.

doktor

hekim

Yukarıdaki kelimeler arasındaki anlam ilişkisi hangi kelimeler arasında yoktur?

- A. cevap - yanıt
- B. savaş - barış
- C. sonbahar - güz

5.

1. çok

3. Ali

2. korkardı

4. dışçiden

Yukarıdaki kelimelerle anlamlı ve kurallı bir cümle oluşturulduğunda sıralama nasıl olur?

- A. 1. 2. 3. 4.
- B. 3. 4. 1. 2.
- C. 2. 1. 4. 3.

6. Aşağıdaki görsellerden hangisinin ünlü ve ünsüz harf sayısı birbirine eşittir?

A.



B.



C.



7.



Aşağıdakilerden hangisinin ismi yukarıdaki görselin son iki harfiyle başlamaz?

A.



B.



C.



8.

hekim - talebe - ilkbahar

Yukarıdaki sözcüklerden hangisinin eş anlamlısı yoktur?

A. hekim

B. talebe

C. ilkbahar

9.

Pazardan iki kilo elma aldım

soru işareti

Oktay mı gelmiş

ünlem işareti

Lütfen bana yardım edin

nokta

Yukarıdaki cümleler ile cümleleri tamamlayan noktalama işaretleri hangisinde doğru eşleştirilmiştir?

A.



B.



C.



10.

▲ çanta

● çizgi

▲ çilek

Yukarıdaki kelimeler sözlük sıralamasına koyulacaktır. Doğru sıralama aşağıdakilerden hangisidir?

A.



B.



C.



11. Aşağıdaki cümlelerin hangisinde özel ismin yazımında hata yapılmıştır?

- A. Veysel'e hediye aldım.
- B. Dün Ankara'dan geldik.
- C. Sapanca gölü Sakarya'dadır.

12. Aşağıdaki kelimelerden hangisi satır sonunda hatalı bölünmüştür?

- A.

is-
tasyon
- B.

spor-
cu
- C.

o-
kul

13. Selin sınıfta test çözüyordu.

Yukarıdaki cümlede aşağıdakilerden hangisinin cevabı yoktur?

- A. Nerede?
- B. Kim?
- C. Neden?

14. "Ferhat ile Kerim ders çalışmak için kütüphaneye gitti." cümlesinde tek başına anlamı olmayan kaç kelime kullanılmıştır?

- A. 1
- B. 2
- C. 3

15.

				A	L	S	H
				R	M	M	A
				H	A	Ğ	A
				A	R	H	N
				A	R	A	L
				H	I	T	H

Çocukların defineye ulaşabilmesi için ellerindeki haritada bulunan şifreyi çözmeleri gerekiyor. Şifreye göre; şeklin simetrisini çizdikten sonra oluşan yeni şekil sırasıyla bazı harflerin üzerinden geçmektedir. Harfleri sırasıyla yazdıktan sonra iki kelime çıkmaktadır. Çıkan kelimelerin eş anlamlıları haritanın şifresini vermektedir. Buna göre haritanın şifresi aşağıdakilerden hangisidir?

- A. HEDİYE - ANI
- B. ARMAĞAN - HATIRA
- C. HARİTA - DEFİNE

Tablo: Sebzelerin hasat zamanı

Aylar Sebzeler	Biber	Bakla	Marul	Kabak
Ocak	X			
Mayıs		X		X
Ekim			X	


Tabloda bazı sebzelerin hasat edildiği (toplandığı) aylar verilmiştir.

Buna göre 1, 2, ve 3. soruları cevaplayalım.




1. Hangi sebze kış mevsimine ait bir ayda toplanmaktadır?
A. biber
B. bakla
C. kabak
2. Hangi sebzenin soğuğa daha dayanıklı olduğu söylenebilir?
A. bakla
B. kabak
C. biber
3. Hangi iki sebze aynı ayda toplanmaktadır?
A. kabak - biber
B. marul - bakla
C. bakla - kabak

4. Ali 36 kilodur. Mart ayında 4 kilo alıp, Nisan ayında 8 kilo veren Ali'nin son durumda kilosuna ne olmuştur?
A. 32
B. 38
C. 40

5. "72, 68, 64, 76" sayılarının kaç tanesinin onluğa yuvarlanmış şekli 70'tir?
A. 2
B. 3
C. 4



Aysel yukarıdaki limonları 6 eşit parça olarak kullanmayı düşünmektedir. Her defasında ne kadar limon kullanır?

- A.  B. 
- C. 

Soruya Gel!

7.



Arda Öğretmen, öğrencilerine sınıfta bir oyun oynatmaktadır. Oyun kuralına göre iki öğrenciye 3 rakam verip bu rakamlarla oluşturulacak en büyük sayı için onlar basamağını bir öğrenci, birler basamağını başka bir öğrenci seçmektedir. Öğretmenin verdiği 3 rakamdan onlar basamağı için Eser 4'ü, birler basamağı içinse Ahmet 2'yi seçmiştir.

Doğru sonuç ile öğrencilerin oluşturdukları sayı arasındaki fark kaçtır?

- A. 12 B. 18 C. 22

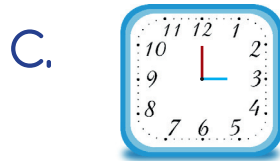
8. Akrep 8'i, yelkovan 6'yı gösterdiği zaman saat kaç olur?

- A. Altı buçuk
B. Sekiz buçuk
C. Beş buçuk.

9. Ali Bey bu sene ektiği ekinlerin hasadını yaz mevsiminin son ayında bitirmek istiyorken hasat süresi 1 ay uzamıştır. Ali Bey'in hasadını topladığı son ay aşağıdakilerden hangisidir?

- A. Mayıs
B. Ağustos
C. Eylül

10. Sabah 8'de gittiğimiz hayvanat bahçesinden 6 saat sonra ayrıldık. Buna göre hayvanat bahçesinden ayrıldığımız saat aşağıdakilerden hangisidir?




11.



Yukarıdaki görselde yer alan varlıklardan hangisinin ağırlığı diğerlerinden daha fazladır?

- A. aslan
- B. horoz
- C. fil

12.



Yukarıdaki kalemler 3 çocuğa eşit olarak paylaştırılırsa her çocuğa kaç kalem düşer?

- A. 3
- B. 6
- C. 9

13.

Yılmaz, manavdan kilosu 6 lira olan salatalıktan 5 kilo almıştır. Buna göre Yılmaz'ın manava ödediği miktar aşağıdakilerden hangisidir?

A.



B.



C.



14.

Ayşe markete alışveriş yapmaya gitmiştir. Ayşe'nin aldığı her ürün kilogram birimiyle ölçülmüştür. Ayşe aşağıdaki ürünlerden hangisini almış olamaz?

A.



B.



C.



15. Dört haftada kaç gün vardır?

A. 28

B. 48

C. 56

1. Aşağıdakilerden hangisi bir insanın yaşaması için gerekli bir ihtiyaçtır?



2. Gençlik ve Spor Bayramı
Zafer Bayramı
Kurban Bayramı
Yukarıdakilerden kaç tanesi milli bayramlarımızdandır?

A. 1 B. 2 C. 3

3. Aşağıdakilerden hangisi kaynakların tassarumlu kullanılmasına bir örnek olamaz?

- A. Gereksiz yere akan muslukların kapatılması.
- B. Aydınlık alanda yanan lambaların söndürülmesi.
- C. Elin kirlendiği zaman yıkanmaması.

4. Mehmet, yolda gördüğü hayvanın acıktığını düşünmüştür. Hayvana yemesi için ot vermiştir. Mehmet aşağıdaki hayvanlardan hangisini yolda görmüş olamaz?



5.






En doğuda olan çocuk Mete olduğuna göre aşağıdakilerden hangisi söylenemez?

- A. En batıdaki kişi Aslı'dır.
- B. Nihat sağ eli ile batıyı göstermektedir.
- C. Güneş Elife göre güneyden doğmuştur.

6. "Komşumuzun evinden dumanlar yükseliyor." cümlesini söyleyen biri hangi numarayı aramalıdır?

- A. 112
- B. 110
- C. 155

7. Aşağıdakilerden hangisi yaz meyvesidir?

- A. 
- B. 
- C. 



8. Dünya'nın şekli aşağıdaki şekillerden hangisine benzemektedir?

- A. 
- B. 
- C. 

9. Aşağıdakilerden hangisi yanlıştır?

- A. Planlı çalışmak başarılı olmamızı sağlar.
- B. Gün içerisinde birçok etkinlik yapabiliriz.
- C. Planlama yaparken oyun oynamaya hiç vakit ayırmamalıyız.

10. Okulumuzda plastik ile ilgili olan geri dönüşüm kutusuna aşağıdakilerden hangisi atılır?

- A. 
- B. 
- C. 