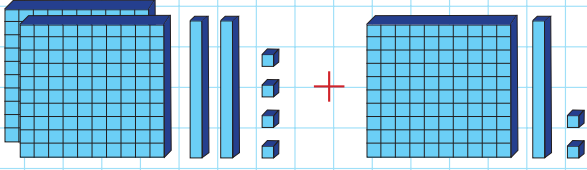
 Taban bloklarla modellenen toplama işlemlerini yapalım.



	Yüzlük	Onluk	Birlik
	2	2	4
+	1	1	2
	3	3	6

$$\begin{array}{r} 224 \\ + 112 \\ \hline 336 \end{array}$$

 Aşağıdaki toplama işlemlerini yapalım.

$$\begin{array}{r} 4 \text{ Yüzlük} + 2 \text{ Onluk} + 1 \text{ Birlik} \\ + 2 \text{ Yüzlük} + 5 \text{ Onluk} + 8 \text{ Birlik} \\ \hline \dots \text{Yüzlük} + \dots \text{Onluk} + \dots \text{Birlik} \end{array}$$

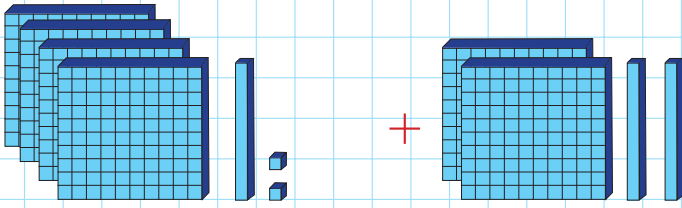
$$\begin{array}{r} 3 \text{ Yüzlük} + 4 \text{ Onluk} + 5 \text{ Birlik} \\ + 1 \text{ Yüzlük} + 3 \text{ Onluk} + 4 \text{ Birlik} \\ \hline \dots \text{Yüzlük} + \dots \text{Onluk} + \dots \text{Birlik} \end{array}$$

$$\begin{array}{r} 7 \text{ Yüzlük} + 1 \text{ Onluk} + 5 \text{ Birlik} \\ + 1 \text{ Yüzlük} + 5 \text{ Onluk} + 3 \text{ Birlik} \\ \hline \dots \text{Yüzlük} + \dots \text{Onluk} + \dots \text{Birlik} \end{array}$$

$$\begin{array}{r} 4 \text{ Yüzlük} + 4 \text{ Onluk} + 3 \text{ Birlik} \\ + 2 \text{ Yüzlük} + 2 \text{ Onluk} + 5 \text{ Birlik} \\ \hline \dots \text{Yüzlük} + \dots \text{Onluk} + \dots \text{Birlik} \end{array}$$

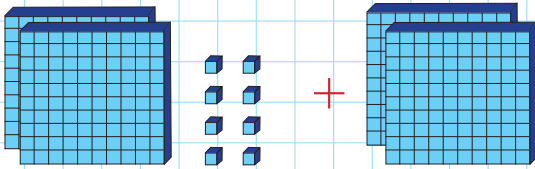
$$\begin{array}{r} 3 \text{ Yüzlük} + 2 \text{ Onluk} + 9 \text{ Birlik} \\ + 2 \text{ Yüzlük} + 6 \text{ Onluk} + 0 \text{ Birlik} \\ \hline \dots \text{Yüzlük} + \dots \text{Onluk} + \dots \text{Birlik} \end{array}$$

$$\begin{array}{r} 2 \text{ Yüzlük} + 8 \text{ Onluk} + 8 \text{ Birlik} \\ + 7 \text{ Yüzlük} + 1 \text{ Onluk} + 1 \text{ Birlik} \\ \hline \dots \text{Yüzlük} + \dots \text{Onluk} + \dots \text{Birlik} \end{array}$$



	Yüzlük	Onluk	Birlik
+			

$$\begin{array}{r} + \\ \hline \end{array}$$



	Yüzlük	Onluk	Birlik
+			

$$\begin{array}{r} + \\ \hline \end{array}$$

 Aşağıdaki eldesiz toplama işlemlerini yapalım.

$$\begin{array}{r} 224 \\ +112 \\ \hline \end{array}$$

$$\begin{array}{r} 135 \\ +214 \\ \hline \end{array}$$

$$\begin{array}{r} 544 \\ +413 \\ \hline \end{array}$$

$$\begin{array}{r} 254 \\ +312 \\ \hline \end{array}$$

$$\begin{array}{r} 527 \\ +121 \\ \hline \end{array}$$

$$\begin{array}{r} 520 \\ +333 \\ \hline \end{array}$$

$$\begin{array}{r} 220 \\ +100 \\ \hline \end{array}$$

$$\begin{array}{r} 487 \\ +310 \\ \hline \end{array}$$

$$\begin{array}{r} 125 \\ +653 \\ \hline \end{array}$$

$$\begin{array}{r} 204 \\ +102 \\ \hline \end{array}$$

$$\begin{array}{r} 645 \\ +254 \\ \hline \end{array}$$

$$\begin{array}{r} 320 \\ +502 \\ \hline \end{array}$$

 Aşağıdaki eldesiz toplama işlemlerini yapalım.

$\begin{array}{r} 224 \\ 112 \\ +112 \\ \hline \end{array}$	$\begin{array}{r} 141 \\ 110 \\ +303 \\ \hline \end{array}$	$\begin{array}{r} 520 \\ 245 \\ +133 \\ \hline \end{array}$
---	---	---

$\begin{array}{r} 124 \\ 102 \\ +23 \\ \hline \end{array}$	$\begin{array}{r} 347 \\ 50 \\ +2 \\ \hline \end{array}$	$\begin{array}{r} 514 \\ 322 \\ +51 \\ \hline \end{array}$
--	--	--

$\begin{array}{r} 410 \\ 57 \\ +1 \\ \hline \end{array}$	$\begin{array}{r} 217 \\ 31 \\ +1 \\ \hline \end{array}$	$\begin{array}{r} 250 \\ 430 \\ +110 \\ \hline \end{array}$
--	--	---

$\begin{array}{r} 321 \\ 123 \\ +440 \\ \hline \end{array}$	$\begin{array}{r} 256 \\ 113 \\ +230 \\ \hline \end{array}$	$\begin{array}{r} 500 \\ 205 \\ +183 \\ \hline \end{array}$
---	---	---

$\begin{array}{r} 205 \\ 314 \\ +280 \\ \hline \end{array}$	$\begin{array}{r} 341 \\ 120 \\ +307 \\ \hline \end{array}$	$\begin{array}{r} 421 \\ 344 \\ +232 \\ \hline \end{array}$
---	---	---

 Aşağıdaki eldesiz toplama işlemlerini yapalım. Doğru olan sonucu boyayalım.

$$125 + 142$$

277 269 255 246

$$214 + 323$$

519 537 539 546

$$353 + 225$$

577 578 579 580

$$341 + 121$$

542 589 652 462

$$125 + 614$$

841 739 654 819

$$263 + 421$$

764 941 684 755

$$747 + 120$$

847 957 754 867

$$161 + 122$$

293 273 363 283

$$810 + 158$$

938 948 958 968

$$378 + 410$$

788 778 798 768

$$546 + 140$$

656 666 676 686

$$130 + 431$$

571 561 551 541

 Aşağıdaki eldesiz toplama işlemlerinde boş olan alanları dolduralım.

+	232
113	_____
321	_____
457	_____

+	123
614	_____
546	_____
400	_____

+	246
342	_____
521	_____
422	_____

+	100
250	_____
430	_____
510	_____

+	254
243	_____
511	_____
724	_____

+	342
154	_____
222	_____
517	_____

 Potaların üzerinde yazan işlemleri yapalım. Sonucu bulduktan sonra, doğru sonucun üzerinde yazılı olduğu topu boyayalım.

216       $104 + 112$       246  
236           226

554       $351 + 203$       544  
555           545

865       $623 + 242$       845  
855           835

735       $114 + 651$       755  
745           765

879       $258 + 611$       869  
849           859

545       $333 + 212$       555  
565           575

825       $713 + 104$       847  
817           814

300       $100 + 400$       600  
400           500