



Altışar Ritmik Sayma

6, 12, 18, 24, 30, 36, 42, 48, 54, 60, ...
 +6 +6

⇒ Altışar ritmik saymada başlangıç sayısına 6 ekleyerek devam ederiz.

Altışar ritmik sayarken aşağıda verilen sayılardan bir önce ve bir sonra söylediğimiz sayıları yazalım.

○ 18 ○

○ 24 ○

○ 30 ○

○ 36 ○

○ 42 ○

○ 48 ○

○ 54 ○

○ 12 ○

Altışar ileri ritmik sayarken hangi sayıları söylemeyiz?



Aşağıdaki soruları cevaplayalım.

18'den başlayarak ileriye doğru altışar ritmik saydığımızda 4. saymada söylediğimiz sayı kaçtır? ○


18'den başlayarak ileriye doğru altışar ritmik saydığımızda 4. saymada söylediğimiz sayı kaçtır? ○

48'den başlayarak geriye doğru altışar ritmik saydığımızda 5. saymada söylediğimiz sayı kaçtır? ○

24'ten başlayarak ileriye doğru altışar ritmik saydığımızda 5. saymada söylediğimiz sayı kaçtır? ○

60'tan başlayarak geriye doğru altışar ritmik saydığımızda 5. saymada söylediğimiz sayı kaçtır? ○

42'den başlayarak geriye doğru altışar ritmik saydığımızda 3. saymada söylediğimiz sayı kaçtır? ○

 Başta verilen sayılardan başlayarak ileriye doğru altışar ritmik sayalım.


6

12

24

30


18































 Aşağıdaki altışar ritmik saymada verilen sayıları bulup yazalım.


 6	 12			 30
		 48		 60






















 6		 18	 24	
 36			 54	

	 12	 18		
	 42	 48		 60

 Aşağıdaki kutucukları ileriye doğru altışar ritmik sayma kuralına göre dolduralım.

		 18		
			 30	
 12				
				 54
	 42			
				 48

 Aşağıdaki kutucukları geriye doğru altışar ritmik sayma kuralına göre dolduralım.

		 18		
				 24
			 12	
	 42			
 54	