

İki basamaklı doğal sayıları karşılaştırırken önce onlar basamağına bakılır.

43 21

4 büyüktür 2'den

→ 43 büyüktür 21'den

Onlar basamağı aynı sayılar varsa birler basamağına bakılır.

54 52

4 büyüktür 2'den

→ 54 büyüktür 52'den

→ Aşağıdaki sayı gruplarından büyük olanı örnekteki gibi işaretleyelim.

43 > 51

24 > 34

46 > 16

61 > 62

73 > 77

57 > 97

62 > 80

17 > 18

33 > 36

83 > 85

→ Aşağıdaki sayı gruplarından küçük olanı örnekteki gibi işaretleyelim.

22 > 21

35 > 49

46 > 16

19 > 20

53 > 57

45 > 42

33 > 36

67 > 62

45 > 77

90 > 91

→ Aşağıdaki sayı gruplarından en küçük sayının bulunduğu elmayı kırmızıya, en büyük sayının bulunduğu elmayı yeşile boyayınız.

9 32 24

52 53 54

29 32 30

60 59 62

44 48 50

75 71 81

Doğal Sayılarda Karşılaştırma ve Sıralama Matematik

→ Aşağıdaki noktalı yerlere "büyüktür, eşittir, küçüktür" ifadelerinden uygun olanı yazalım.

37 57'den

64 62'den

21 21'e

50 80'den

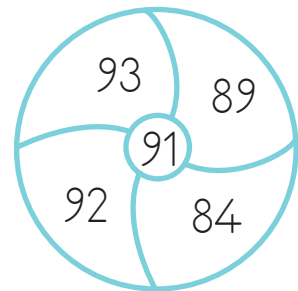
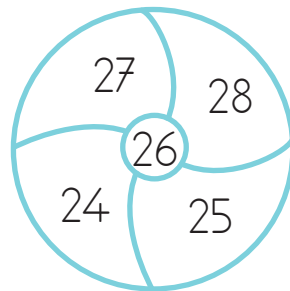
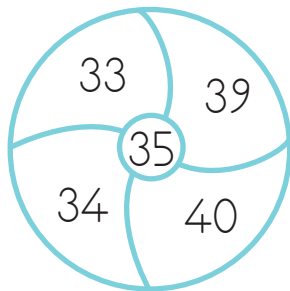
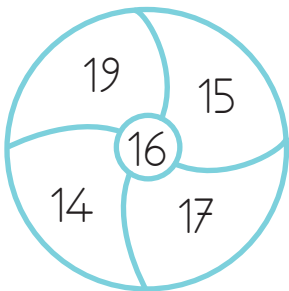
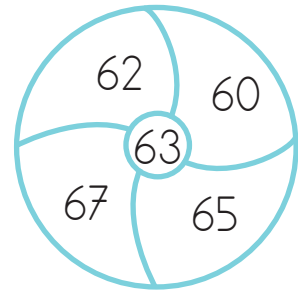
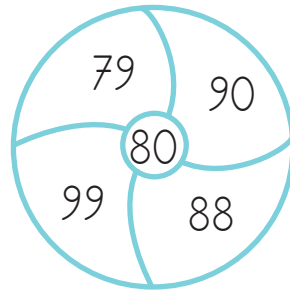
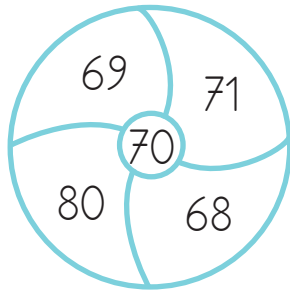
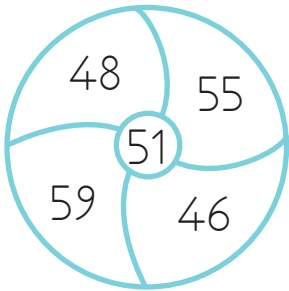
71 68'den

46 46'ya

19 20'den

49 46'dan

→ Aşağıdaki çemberlerin ortasında verilen sayılardan daha küçük sayıların olduğu bölüme kırmızıya, daha büyük olan sayıların bulunduğu bölüme sarıya boyayalım.



→ Aşağıdaki kutucuklara yönergelere uygun olan sayıları yazalım.

22'den büyük,
50'den küçük.

46'dan büyük,
58'den küçük.

75'ten büyük,
90'dan küçük.

Doğal Sayılarda Karşılaştırma ve Sıralama Matematik

→ Aşağıdaki sayıları büyükten küçüğe doğru sıralayalım.

27 18 35 61 66 →

38 8 25 50 13 →

36 54 15 62 71 →

84 19 81 90 79 →

→ Aşağıdaki sayıları küçükten büyüğe doğru sıralayalım.

84 14 24 7 23 →

70 19 9 91 58 →

97 95 90 93 89 →

64 60 59 57 69 →

→ Aşağıda verilen sayılardan önce ve sonra gelen sayıları örnekteki gibi yazalım.

31 32 33
11
46
62
81

→ Aşağıdaki sayıları küçükten büyüğe doğru sıralayalım.

15 71
76 80

--	--	--	--

61 59
23 66

--	--	--	--

91 83
89 79

--	--	--	--

36 53
41 67

--	--	--	--

26 43
51 37

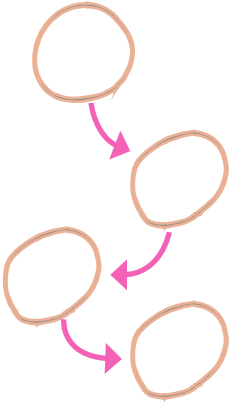
--	--	--	--

69 41
57 70

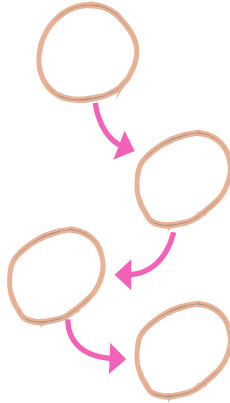
--	--	--	--

→ Aşağıdaki sayıları büyükten küçüğe doğru sıralayalım.

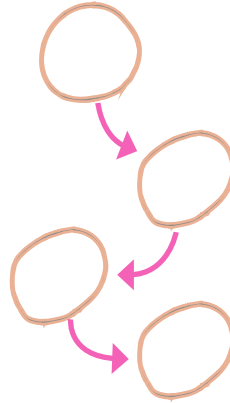
14 40
50 39



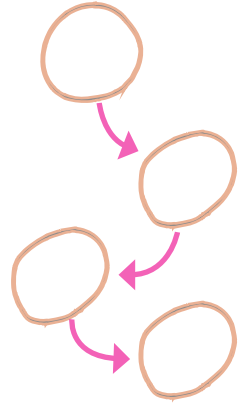
58 68
79 80



14 7
61 80



76 73
71 79



→ Aşağıdaki boşlukları büyükten küçüğe doğru sıralı olacak şekilde uygun sayılar yazarak dolduralım.

18 30

59 63

42 44

21 46

24 29

80 90