



→ Birler basamağı 5 ve 5'ten büyük sayılar bir sonraki onluğa, birler basamağı 5'ten küçük olan sayılar ise bir önceki onluğa yuvarlanır.

En Yakın Onluğa Yuvarlama

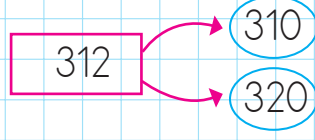
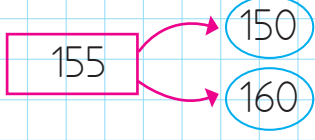
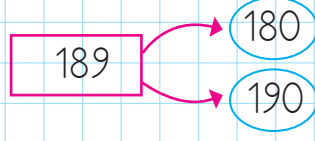
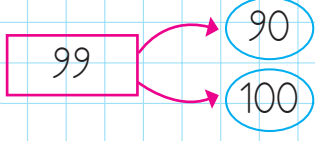
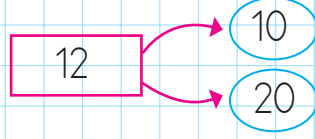
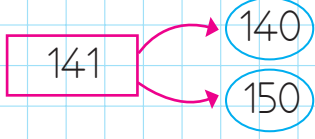
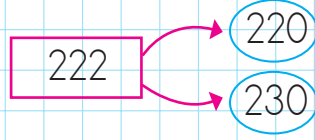
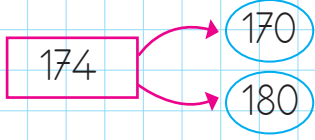
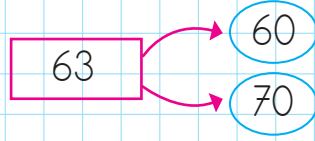
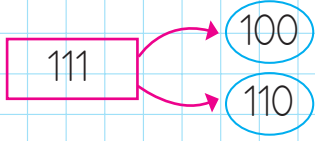
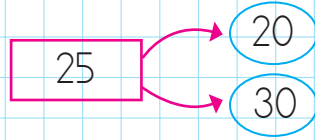
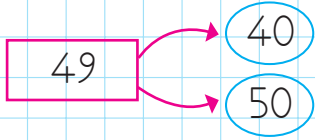
150

151 - 152 - 153 - 154


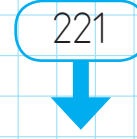

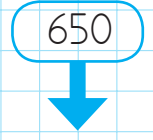
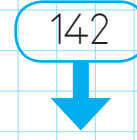
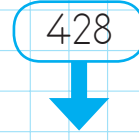

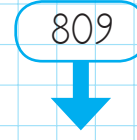


155 - 156 - 157 - 158 - 159

160

✎ Aşağıdaki doğal sayıların yuvarlandığı en yakın onluğa boyayalım.




✎ Aşağıdaki doğal sayıları en yakın onluğa yuvarlayalım.



 En yakın onluğa yuvarlandığında 150 olan sayıları aşağıya yazalım.



 En yakın onluğa yuvarlandığında 260 olan sayıları aşağıya yazalım.



 En yakın onluğa yuvarlandığında 570 olan sayıları aşağıya yazalım.



 En yakın onluğa yuvarlandığında 450 olan sayıları aşağıya yazalım.



 En yakın onluğa yuvarlandığında 280 olan sayıları aşağıya yazalım.





 En yakın onluğa yuvarlandığında 890 olan sayıları aşağıya yazalım.




 En yakın onluğa yuvarlandığında 140 olan sayıları aşağıya yazalım.




 Aşağıdaki maymunların elinde tuttıkları onluğa yakın olan doğal sayıları boyayınız.


 Aşağıdaki sayıların hangi onluklar arasında olduğunu örnekteki gibi bulunuz.

 140


136 133 141

 530


136 133 141

 650


644 648 653

 260


257 263 264

 770


764 773 775

 580


585 583 574

 690


686 697 699

 820


815 821 826

 410

405 412 418

 340

345 339 334




 250  259  260

  307 


  568 


  914 

  655 


  312 

  777 


  586 




 Aşağıdaki boşluklara uygun sayıları yazalım.


En Küçük Sayı	Onluk	En Büyük Sayı
145	150	154
.....	230
.....	510
.....	490
.....	370
.....	640
.....	290
.....	770
.....	410
.....	350
.....	180

 Aşağıdaki boşluklara uygun sayıları yazalım.

En Küçük Sayı	Onluk	En Büyük Sayı
365
.....	484
.....	350
.....	180
315
.....	404
.....	200
695
.....	754
.....	324
.....	880




 Aşağıdaki muzların üzerindeki sayıları en yakın onluğa yuvarlayarak muzları hangi maymunun yiyeceğini bulalım.


  154 




150  160


  742 







  555 





  691 



  278 



  304 