



## Yedişer Ritmik Sayma

7, 14, 21, 28, 35, 42, 49, 56, 63, 70, ...

+7 +7

⇒ Yedişer ritmik saymada başlangıç sayısına 7 ekleyerek devam ederiz.

Yedişer ritmik sayarken aşağıda verilen sayılardan bir önce ve bir sonra söylediğimiz sayıları yazalım.

○ 21 ○

○ 28 ○

○ 35 ○

○ 42 ○

○ 49 ○

○ 56 ○

○ 63 ○

○ 14 ○

Yedişer ileri ritmik sayarken hangi sayıları söylemeyiz?

6

14

20

28

30

35

40

42

49

50

56

63

Aşağıdaki soruları cevaplayalım.

14'ten başlayarak ileriye doğru yedişer ritmik saydığımızda 7. saymada söylediğimiz sayı kaçtır? ○


21'den başlayarak ileriye doğru yedişer ritmik saydığımızda 4. saymada söylediğimiz sayı kaçtır? ○

49'dan başlayarak geriye doğru yedişer ritmik saydığımızda 5. saymada söylediğimiz sayı kaçtır? ○

7'den başlayarak ileriye doğru yedişer ritmik saydığımızda 5. saymada söylediğimiz sayı kaçtır? ○

70'ten başlayarak geriye doğru yedişer ritmik saydığımızda 5. saymada söylediğimiz sayı kaçtır? ○

63'ten başlayarak geriye doğru yedişer ritmik saydığımızda 3. saymada söylediğimiz sayı kaçtır? ○

 Başta verilen sayılardan başlayarak ileriye doğru yedişer ritmik sayalım.


7 ..... .....




14 ..... .....


21 ..... .....

28 ..... .....


35 ..... .....

 Aşağıdaki yedişer ritmik saymada verilmeyen sayıları bulup yazalım.



 Aşağıdaki kutucukları ileriye doğru yedişer ritmik sayma kuralına göre dolduralım.



 Aşağıdaki kutucukları geriye doğru yedişer ritmik sayma kuralına göre dolduralım.

