
 Aşağıda verilen sayılardan başlayarak ileriye doğru birer ritmik sayalım.

55 - - - -
 - - - -
 - - - - 69

98 - - - -
 - - - -
 - - - - 112

201 - - - -
 - - - -
 - - - - 215

 Aşağıdaki ritmik sayılarda eksik olan sayıyı belirleyip boyayalım.

$$297 - 298 - 299 - ? - 301 - 302$$

309

300

303

$$103 - 104 - 105 - ? - 107 - 108$$

109

106

100

$$376 - 386 - 396 - ? - 416 - 426$$

406

397

400

$$101 - 201 - 301 - ? - 501 - 601$$

302

310

401

 Aşağıdaki soruların cevaplarını bulalım. Bulduğumuz cevapları dairenin içine yazalım.

93'ten başlayarak birer ritmik saydığımızda 25. saymada hangi sayıyı söyleriz?


490'dan başlayarak onar ritmik saydığımızda 15. saymada hangi sayıyı söyleriz?

199'dan başlayarak birer ritmik saydığımızda 10. saymada hangi sayıyı söyleriz?

209'dan başlayarak yüzer ritmik saydığımızda 6. saymada hangi sayıyı söyleriz?

630'dan başlayarak onar ritmik saydığımızda 8. saymada hangi sayıyı söyleriz?

280'dan başlayarak yüzer ritmik saydığımızda 5. saymada hangi sayıyı söyleriz?

 Her bölümde verilen sayıdan başlayarak ileriye doğru yüzer ritmik sayalım. Söylediğimiz sayıları soldan sağa ya da yukarıdan aşağı örnekteki gibi yazalım.

311	411	511	611
411			
511	611	711	811

174			

142			

250				

			369	
169				

			769

 Aşağıda verilen sayılardan başlayarak yukarıdan aşağı doğru yüzer ritmik sayalım. Boş alanları dolduralım.



254



189



232




175



57



111

 Aşağıda verilen sayılardan başlayarak ileriye doğru yüzer ritmik sayalım.

55 - - - -
 - - - 855

113 - - - -
 - - - 913


158 - - - -
 - - - 958

40 - - - -
 - - - 840

12 - - - -
 - - - 812

103 - - - -
 - - - 903

30 - - - -
 - - - 830

 Aşağıdaki boşlukları kurala uygun dolduralım.

