

BALIKÇI HASAN AMCA

Hasan Amca balık tutmayı çok seviyordu. Tuttuğu balıkları yoksul insanlara dağıtıyordu. Bir kısmını eve götürüyordu. Hasan Amca yalnız yaşadığı için çok balığa ihtiyacı olmuyordu. Yardımseverliği ve cömertliği herkesin dilindeydi. Çevresindeki insanlar onu örnek alıyordu.



1, 2 ve 3. soruları metne göre cevaplayalım.

1. Hasan Amca'nın hangi kişisel özellikleri herkesin dilindeydi?

- A. Yardımseverlik ve cömertlik
- B. Cömertlik ve iyi niyet
- C. Yardımseverlik ve hoşgörü

2. Hasan Amca tuttuğu balıkları kimlere dağıtıyordu?

- A. akrabalarına
- B. arkadaşlarına
- C. yoksullara

3. Yukarıdaki metinde aşağıdaki kelimelerden hangisinin eş anlamlısı yoktur?

- A. konut
- B. az
- C. fakir

4.

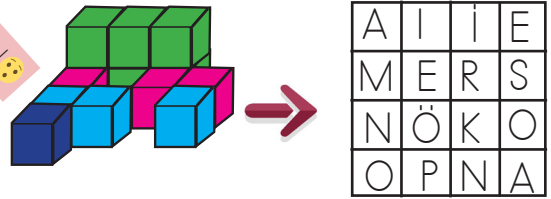


Yukarıdaki meyvelerle anlamlı kelimeler oluşturulacaktır. Hangi meyvelerle anlamlı kelime oluşturamayız?

- A.
- B.
- C.

Soruya Gel! 🤔

5.



Küplerin kuş bakışı görünüşü yukarıdaki karesel alanın içinde işaretlenirse bazı alanlar boş kalıyor. Boş alanlardaki harfleri kullanarak hangi kelimeyi oluşturabiliriz?

- A. KAPAN
- B. KANEPE
- C. PIRASA

6. 1. Ağrı dağı ülkemizin en yüksek dağdır.
2. Deniz hiçbir soruyu yanlış çözmemiş.
3. Ahmet ile Sinan oyunu kazanmak için pılan yaptılar.
4. Burak, kardeşine marketten çikolata aldı.




Numaralanmış dizelerde yazım yanlışı olup olmadığıyla ilgili aşağıdakilerden hangisi doğrudur?

Yazım Yanlışı	
Var	Yok
A. 1-2	3-4
B. 1-3	2-4
C. 3-4	1-2

7.

bin	deri	yüz
sarı	at	kel
ak	sat	al

Yukarıdaki tabloda eş sesli kelimeler maviye boyanacaktır. Tablonun boyalı hali aşağıdakilerden hangisidir?

- A. 
- B. 
- C. 

8. K kalem 1.
 A koyun 2.
 T kelime 3.
 I kavun 4.

Yukarıdaki kelimeleri alfabetik olarak sıralayalım. Her kelimenin başındaki harfi, alfabetik sırasına göre numaralı alanlara yazalım. Numara sırasına göre oluşan kelime aşağıdakilerden hangisidir?

- A. TAKI
B. ATKI
C. KITA

9.

Anneme yarın toplantı olduğunu söyledim. Eve gider gitmez söylemem iyi oldu. Söylemeseydim unuttabilirdim.

Metinde hangi yargı cümlesi yoktur?

- A. İstek
B. Düşünce
C. Haber

10. Aşağıdaki cümlelerden hangisi hayal ürünüdür?

- A. Sayı saymayı biliyorum.
B. Bulutların üstünde oynadık.
C. Futbol oynamak hoşuma gidiyor.

11. ① Dal kırıldı ve dengesini kaybetti.
② Ağaca çıkmak için merdiven kullandı.
③ İnce bir dala bastı.

Verilen cümlelerdeki olayların oluş sırası aşağıdakilerden hangisidir?

- A. 1 - 2 - 3 B. 3 - 1 - 2
C. 2 - 3 - 1

Soruya Gel!

12. Çocuklar "Hangisi benim kağıdım?" adlı oyunu oynamaya karar verirler. Oyunun kuralları şunlardır:
- Ebe 3 kağıda cümleler yazar.
- 3 kağıttan birini seçer ve diğerlerinin onu bulması için cümlelerle ilgili bilgiler verir.

Bu bilgiler aşağıdaki şekildedir.

- Cümledeki özel isim yanlış yazılmıştır.
 - Cümledeki noktalama işaretlerinde hata yoktur.
 - Cümlede heyecan, korku, şaşkınlık vb. duygulara yer verilmemiştir.
- Bu bilgilere göre ebenin seçtiği cümle hangisi olabilir?

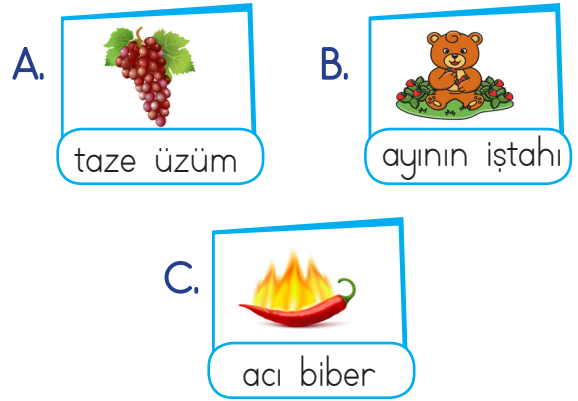
- A. Köpeği duman parkta koşuyordu.
B. Eyvah, selin yere düştü!
C. İzmirin yemekleri çok güzeldir.



Resme göre aşağıdaki ifadelerden hangisi yanlıştır?

- A. Kumda iki kişi oynamaktadır.
B. Uçurtma uçuran kişi mavi tişört giymiştir.
C. Bisiklet süren kişinin kaskı yoktur.

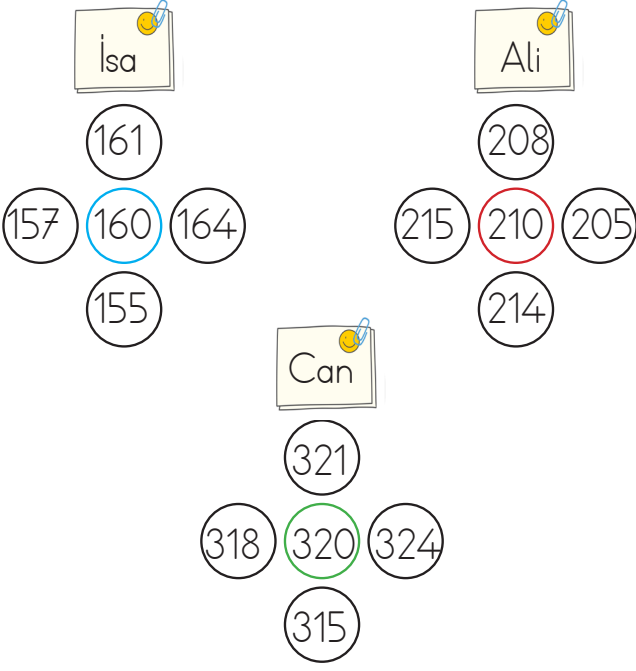
14. Aşağıdaki görsellerin hangisinde ön ad kullanılmamıştır?



15. Aşağıdaki cümlelerin hangisinde "Kim?" sorusunun cevabı vardır?

- A. Sercan koşu yapıyor.
B. Markete gidecek.
C. Çok güzel top oynadı.

1.



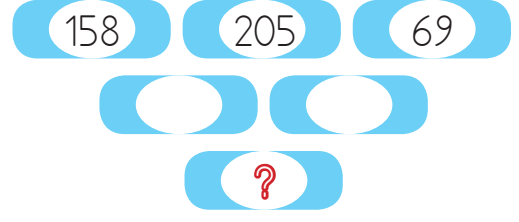
Birsen Öğretmen tahtaya 3 tane onluğa yuvarlanmış sayı yazmıştır. Öğrencilerden, yuvarlandığında ortadaki onluğu veren sayılar yazmasını istemiştir. Hangi öğrenci hata yapmıştır?

- A. Can
B. İsa
C. Ali

2. Aşağıdaki işlemlerden hangisi yanlıştır?

- A. $136 + 203 = 339$
B. $227 + 341 = 549$
C. $317 + 168 = 485$

3.



Şekilde yan yana olan iki sayı toplanıp sonuç bir alttaki kutucuğa yazılıyor.

Buna göre "?" ile gösterilen yere kaç yazılmalıdır?

- A. 528
B. 412
C. 637

4.

x	5	7	9
29	■		
15		●	
47			▲

Yukarıdaki tabloya göre

■ + ▲ + ● işleminin sonucu kaçtır?

- A. 587
B. 673
C. 435

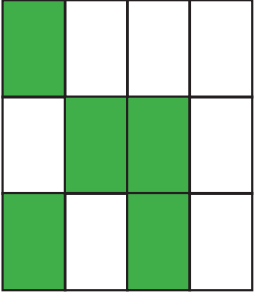
5. Sıla tanesi 16 lira olan kaleminden 10 tane aldı. Satıcıya 200 lira verdiğine göre kaç lira para üstü alır?

- A. 50
B. 40
C. 30


Soruya Gel!

6.

ŞEKİL



YANSIMASI

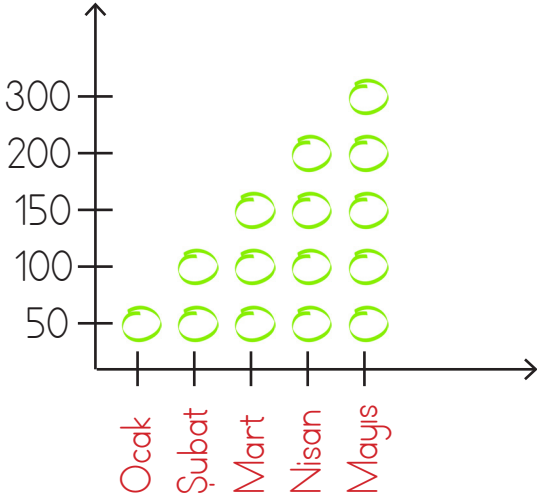


Yukarıdaki şeklin aynadaki yansımada renkli alanların üzerindeki çilekler toplam kaç çeyrek çileğe eşit olur?

- A. 64 B. 68 C. 72

7. Grafik: Aylara Göre Ziyaretçi Sayısı
Grafığı

Ziyaretçi Sayısı



Yukarıdaki grafikte yeni kurulan bir müzenin ilk beş ayındaki ziyaretçi sayıları verilmiştir.

En fazla ziyaretçi gelen ay ile en az ziyaretçi gelen ay arasındaki fark kaçtır?

- A. 250 B. 300 C. 350

8.



Bir futbol maçı 19.00'de başlamıştır. Maç 90 dakika sürmüştür ve 15 dakikalık bir ara verilmiştir. Buna göre maç bittiğinde saat kaç göstermektedir?

- A. 20.30 B. 20.45 C. 20.15

9. Bir manav tanesi 50 kuruştan 40 tane limon almıştır. Limonların 10 tanesi çürük çıkmıştır. Geriye kalan limonların tanesini 1 liradan satmıştır. Manav kaç lira para kazanmıştır?

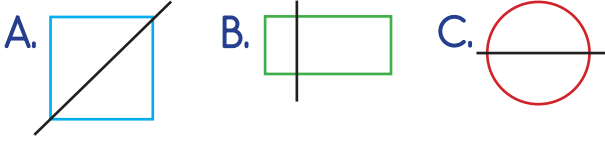


- A. 20 B. 30 C. 40


10. Samet 84 kilogramlık portakalların 24 kilogramını satmıştır. Geriye kalanları 4 kilogramlık poşetlere paylaştığına göre Samet kaç poşet kullanmıştır?

- A. 12 B. 15 C. 20

11. Aşağıdaki şekillerden hangisinin simetri doğrusu yanlış çizilmiştir?



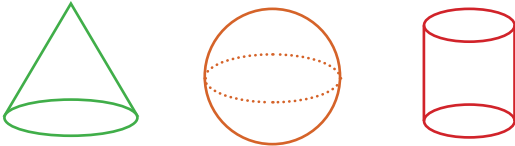
12.



Yukarıdaki geometrik şeklin hangi köşelerini cetvelimizle birleştirecek köşegen oluşur?

- A. A ve B B. B ve C C. C ve D

13.



Yukarıdaki geometrik cisimlerin aşağıdaki özelliklerinden hangisi farklıdır?

- A. Kenar sayıları
B. Köşe sayıları
C. Yüz sayıları

14. Batuhan, dikdörtgen şeklindeki masanın uzunluğunu 5 karış, genişliğini 3 karış olarak ölçüyor. Batuhan'ın bir karışının uzunluğu 15 cm olduğuna göre masanın çevresi kaç santimetredir?

- A. 120 cm B. 180 cm C. 240 cm

Soruya Gel 🤔

15.



Derya 25 kg reçel yapmıştır. Reçelleri doldurmak için yukarıdaki her kavanozdan alacaktır. Kavanozlardan her biri 1 liradır. Kavanozları hangi seçenekteki gibi alırsak en az parayı ödemiş olur-

- A. 3 kilogramlıktan 6 tane
2 kilogramlıktan 3 tane
1 kilogramlıktan 1 tane
B. 3 kilogramlıktan 3 tane
2 kilogramlıktan 7 tane
1 kilogramlıktan 2 tane
C. 3 kilogramlıktan 5 tane
2 kilogramlıktan 4 tane
1 kilogramlıktan 2 tane

1.



Dünya üzerindeki bir noktadan hareket eden bir araç hiç yönünü değiştirmeden aynı yöne giderse bir süre sonra başladığı noktaya geri döner.

Serpil, yukarıdaki ifadesiyle aşağıdakilerden hangisini ispatlamaya çalışıyor olabilir?

- A. Dünyanın yuvarlak olduğunu
- B. Dünyanın düz olduğunu
- C. Gece ile gündüzün eşit olduğunu

2.



Yukarıdaki canlıların ortak yaşam alanı aşağıdakilerden hangisidir?

- A. Kara katmanı
- B. Su katmanı
- C. Hava katmanı

3.

- Radyo sesi
- Büyük araba
- Prüzlü kumaş


Yukarıda verilen nesnelere bunların özelliklerini algılamamızı sağlayan duyu organlarının eşleştirmesi nasıl olmalıdır?

- A.
- B.
- C.

4. Aşağıdakilerden hangisi deri sağlığımızı korumak için yapmamız gerekenlerden biridir?

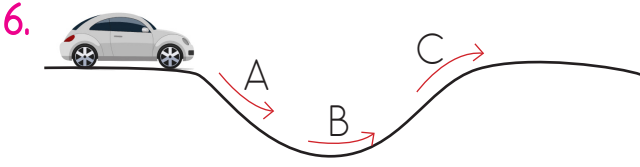
- A. Düzenli banyo yapmak
- B. Çamaşır suyu kullanmak
- C. Burnumuza parmağımızı sokmak

5.



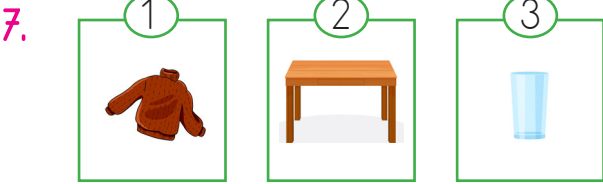
Yukarıdaki görsellere bakarak ayçiçeği bitkisiyle ilgili hangisi söylenemez?

- A. Kendiliğinden hareket eder.
- B. Güneşe doğru yönelme hareketi yapar.
- C. Etki olmadıkça hareket edemez.



Ok yönünde hareket eden araba hangi noktadan en yavaş geçer?

- A. C B. A C. B



Yukarıdaki maddelerin sahip oldukları özellikler hangi seçenekte doğru olarak verilmiştir?

- | | | |
|-------------|---------|----------|
| 1 | 2 | 3 |
| A. yumuşak | sert | kırılgan |
| B. sert | yumuşak | kırılgan |
| C. kırılgan | sert | yumuşak |

8. - Uçucudur.
- Belirli bir şekli yoktur.
- Bulunduğu ortama kolayca yayılır.
Verilen özellikler maddenin hangi hali için geçerlidir.

- A. Katı B. Gaz C. Sıvı

9. ■ Işığın olmadığı yerler karanlık ortamlardır.
▲ Aydınlatması yetersiz ortamda kitap okumak gözlerimize zarar verir.
● Işık, ortamda gereğinden fazla olursa gözlerimize fayda sağlar.

Yukarıdakilerden hangileri doğrudur?

- A. ● ve ▲ B. ■ ve ▲ C. ■ ve ●




10.

Esmâ	10 metre
Elif	50 metre
Ali	40 metre
Burak	30 metre
Ceren	60 metre

Öğrencilerin bir ses kaynağına olan uzaklıkları tabloda verilmiştir.

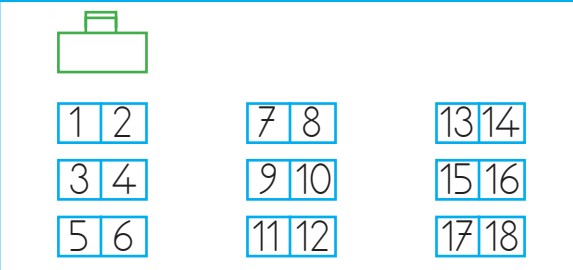
Buna göre aşağıdaki yorumlardan hangisi yanlıştır?

- A. Sesi en iyi duyabilecek olan Esmâ'dır.
B. Her öğrenci sesi eşit şekilde duyar.
C. Sesi en az Ceren duyar.

1.  Ali Oyun parkında oynamayı çok seviyorum.
-  İsa Bisiklet sürmek çok hoşuma gidiyor.
-  Erdi Kitap okurken dikkatim dağılsın istemem.

Verilen bilgilerden hangi sonuca ulaşabiliriz?

- A. Her öğrencinin ilgi alanı farklıdır.
- B. Üçü de aynı şeyleri istiyor.
- C. Alı'nın istediği şey diğerlerinden daha güzeldir.

2.  A classroom seating chart with a teacher's desk at the top. The seats are arranged in three rows and three columns. The numbers in the seats are: Row 1: 1, 2, 7, 8, 13, 14; Row 2: 3, 4, 9, 10, 15, 16; Row 3: 5, 6, 11, 12, 17, 18.

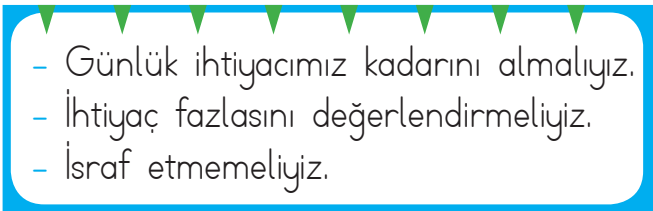
Sinem sınıfta orta sıranın en önünde sağda oturmaktadır.

Sinem kaç numaralı sırada oturmaktadır?




- A. 7 B. 8 C. 2

3. Komşularımızla sağlıklı ilişkiler kurmak için hangi davranışı yapmak doğru olmaz?




- A. Evde yüksek sesle konuşmak
- B. Komşularımızı evimizde ağırlamak
- C. Komşularımıza misafirlige gitmek


4.  A decorative box with green triangles at the top. Inside, there are three bullet points: - Günlük ihtiyacımız kadarını almalıyız. - İhtiyaç fazlasını değerlendirmeliyiz. - İsraf etmemeliyiz.

Yukarıdaki bilgiler aşağıdakilerden hangisi için söylenmiştir?

- A.  B. 
- C. 

5. Aşağıdakilerden hangisi kişisel bakım yapmamaktadır?

- A.  B. 
- C. 

6.  Karşıdan karşıya geçerken araçlara yeşil ışık yandığında ne yapmalıyız?

- A. Bekleriz.
B. Hazırlanınız.
C. Geçeriz.

7.


- I. Tanımadığımız insanlardan hediye almamalıyız.
II. Tanımadığımız insanlarla konuşmamalıyız.
III. Tanımadığımız insanlarla birlikte her yere gidebiliriz.
IV. Tanımadığımız insanların sözünü dinlemeliyiz.

Yukarıdaki bilgilerden hangileri doğrudur?

- A. Yalnız I
B. I - II
C. III - IV

8. "Ülkemiz, doğal güzellikleriyle dünyada ilgi çeken ve binlerce turistin ziyaret ettiği bir ülkedir."
Aşağıdakilerden hangisi doğal güzelliklerimizden biri değildir?
- A. Pamukkale Travertenleri
B. İhlara Vadisi
C. Topkapı Sarayı

9. Cumhuriyet kaç yılında ilan edildi?
- A. 29 Ekim 1923
B. 19 Mayıs 1919
C. 23 Nisan 1920

10. 

Yukarıdaki yön bulma yöntemlerinden kaç tanesi doğal yön bulma yöntemidir?

- A. 2 B. 3 C. 4