

1. Aşağıdaki sözcüklerden hangisinin ilk hecesi çıkarılırsa anlamlı bir sözcük oluşur?

- A. sonbahar
B. değirmen
C. sözcük

2.



Yukarıdakilerden hangisinin adındaki hece sayısı diğerlerinden fazladır?

- A. ★ B. ⬡ C. ●

3. Aşağıdaki sözcüklerden hangisinin hece-lerindeki harf sayıları birbirine eşittir?

- A. yengeç
B. arı
C. deniz

4. Aşağıdaki satır sonuna sığmayan sözcük-lerden hangisi **yanlış** bölünmüştür?

- A.ke-
di.....
B.seh-
pa.....
C.gör-
üntü.....

5.



Hangi geometrik şeklin içinde yazan hem hece hem sözcüktür?

- A. Kare B. Üçgen C. Çember

6. Aşağıdaki sözcüklerin hangisinde "ma" hecesi **yoktur**?

- A. makas
B. saman
C. yama


7.

Hecedeki harfler	Hece
Üç sessiz, bir sesli harf	
Bir sesli, bir sessiz harf	
Bir sesli, iki sessiz harf	

Yukarıdaki tabloda verilen boşluğa sırasıyla hangi heceler yazılmalıdır?

- A. ● iki B. ● asma C. ● mart
● altı ● maya ● el
● beş ● üç ● kum

8.



Aşağıdaki sözcüklerden hangisi yanda verilen görselin adındaki 2. hece ile başlamıştır?


- A. ahır B. tarak C. para

9. Satıra sığmayan sözcükler bölünürken, satır sonuna tek harf bırakılmaz.


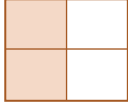

Buna göre hangisinin adı satır sonunda **bölünemez**?

- A. Kaplumbağa B. Arı
C. Koyun

10.



Görselleri verilen sözcüklerden hece sayıları aynı olanlar işaretlenirse şeklin görüntüsü nasıl olur?

- A.  B.  C. 

11.

Aklımda birçok soru var.

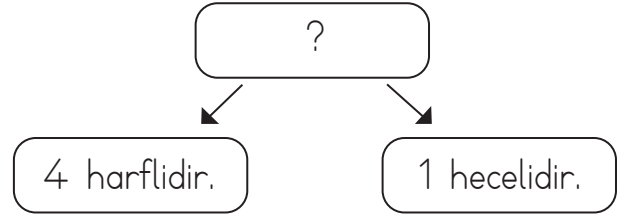


Yukarıdaki cümlede yer alan sözcükler heceleri yönünden incelenmiştir.

Buna göre aşağıdaki sonuçlardan hangisi **yanlıştır**?

- A. 2 heceli iki sözcük bulunmaktadır.
B. 3 heceli iki sözcük bulunmaktadır.
C. 1 heceli bir sözcük bulunmaktadır.

12.



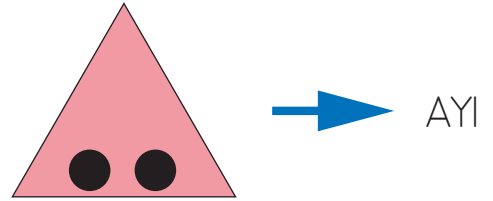
Yukarıdaki şemada "?" yerine hangi sözcük gelebilir?

- A. baba B. dört C. elma

13. Aşağıdaki kelimelerden hangisi hecelerine **yanlış** ayrılmıştır?



- A. te-lev-iz-yon
B. ga-ze-te
C. il-ko-kul

14. SORUYA GEL



Yukarıdaki üçgen şekli kelimenin harf sayısını, içindeki toplar ise hece sayısını vermektedir.

Bu bilgilere göre "tren" kelimesinin şekli aşağıdakilerden hangisi olabilir?

- A.  B. 
C. 