





1.  Ünlü harfler tek başına hece olabilir.
 Ünsüz harfler tek başına hece olabilir.
 Bir hece en fazla 4 harften oluşur.
 Yukarıdaki açıklamalardan hangileri doğrudur?

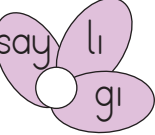
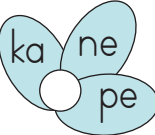
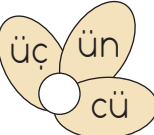
- A.   B.  
 C.  

2. Aşağıdakilerden hangisi üç heceden oluşmuş bir sözcüktür?

- A. Balık B. Aslan
 C. Gergedan

3.  Minik arı, hecelerine yanlış ayrılmış sözcüğün yazılı olduğu çiçekten bal alacaktır.

Hangi çiçekten bal almalıdır?

- A.  say lı gi B.  ka ne pe
 C.  üç ün cü

4. Aşağıdaki sözcüklerden hangisinde dört harfli hece vardır?




- A. kelime B. oyuncak C. dörtlü

5.  ka  ra  ya  sa

Yukarıdaki hecelerle hangi kelime oluşturulamaz?

- A. kasa B. şaka C. yara

6. Hangisinin adındaki hece sayısı "yaramaz" sözcüğü ile aynıdır?

- A.  B. 
 C. 




7. Aşağıdakilerden hangisi hem hece hem de sözcüktür?

- A. ilk B. dere C. ise

8. Denizde yüzmeyi çok seviyorum
 cümlesinde kaç hece vardır?

- A. 6 B. 9 C. 11

9. Hangi öğrencinin taşıdığı karttaki sözcük hecelerine doğru ayrılmıştır?

- A.  ar-ı-lar C.  sev-gi
 B.  kal-em-lik



Bu hecelerle hangi sözcük oluşturulmaz?

A. masa B. kaya C. kasa

11. Hangi seçenekte verilen sözcüklerin tamamı tek hecelidir?

A. sert arı mart

B. üç dört masa

C. koş say yaz

12. 



Onur'un cümlesindeki beş heceli sözcük hangisidir?

A. okuldan
B. gelince
C. çalışıyorum

13. Bir sözcüğün kaç heceden oluştuğunu bulmak için o sözcükteki harfleri sayabiliriz.

Yukarıdaki ifadede boş bırakılan yere hangisi gelmelidir?

A. bütün B. sesli C. ünsüz

14.

	sa-at-çi
	ilk-ok-ul
	göz-lük-ler

Tablodaki kelimelerden hecelerine doğru ayrılan 'D', yanlış ayrılan 'Y' yazılırsa hangi seçeneğe ulaşılır?

A.

Y
D
Y


B.

D
Y
Y

C.

D
Y
D

15. Soruya gel



Ali ve arkadaşları çok şiddetli bir fırtınaya yakalandı. Fırtınadan kurtulmak için yelkeni indirmeleri gerekiyor.

Yelkeni aşağı indirmek için pencere sayısı ile aynı sayıda hecesi olan görseli seçmeleri gerekiyor. Hangi görsel gemiyi fırtınadan kurtarır?

