

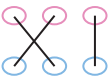
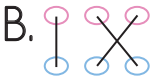
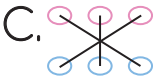
1. elli beş yirmi bir otuz altı

55

36

21

Yukarıdaki sayılarla okunuşları hangisinde doğru eşleştirilmiştir?

- A.  B.  C. 

2. Oya'nın 1 düzine kalemi vardı. 1 deste kalem de arkadaşı hediye etti. Oya'nın kaç kalemi oldu?

Yukarıdaki problemi doğru çözen Asel, hangi sonucu bulur?




- A.20 B.22 C.24

3. Mehtap 1 deste çiçek topladı. İlayda 1 düzine, Ecem ise 8 çiçek topladı.

Buna göre üç arkadaş toplam kaç çiçek toplamıştır?

- A.  B.  C. 

4. Aşağıdaki sayılardan hangisi 40 ile 47 arasında değildir?

- A.  B.  C. 

5. ■ 2 düzine 20 tanedir.
● 2 deste 24 tanedir.
● 3 düzine 36 tanedir.

Hangi sembolle verilen ifade doğrudur?

- A. ■ B. ● C. ●

6.

◆ onluk	2 birlik
40	2
42	

8 onluk	● birlik
80	7
●	

Yukarıdaki tablolarda sembollerle gösterilen yerlere hangi sayılar gelmelidir?

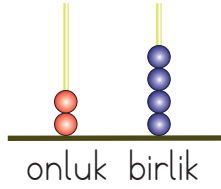
- A.

◆	_____
4	

●	_____
7	

●	_____
87	
- B. 5 4 76
- C. 7 5 60

7. Abaküste gösterilen sayıyla ilgili hangisi yanlıştır?



- A. 4 birlik 2 onluktan oluşur.
B. 2 onluk 4 birlikten oluşur.
C. Oluşan sayı 20'dir.

8. Aşağıdaki verilenlerden hangisi doğrudur?

- A. 5 onluk + 8 birlik = 85
B. 4 birlik + 6 onluk = 64
C. 1 onluk + 2 birlik = 21

9.

Kalemlikteki 3 kaleme 1 düzine kalem daha eklersek kalemimiz olur.

Yukarıdaki boşluğa gelmesi gereken sayı hangisidir?

- A. 13 B. 15 C. 18


10.



Yanda verilen sayı ile ilgili aşağıdaki ifadelerden hangisi yanlıştır?

- A. 8 birlik, 4 onluktan oluşur.
B. Sayıya 2 eklersek 5 desteye eşit olur.
C. Onluk kısmında 4 birlik vardır.

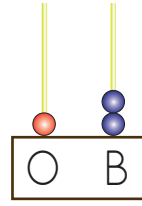
11.



Yukarıda taban bloklarıyla gösterilen sayı kaçtır?

- A. 34 B. 43 C. 44

12.



Şaban yandaki abaküsün onluklarına 4, birliklerine 2 boncuk taktı.

Şaban hangi sayıyı oluşturmuştur?

- A. 12 B. 36 C. 54

13. SORUYA GEL

	1	2	3
A	1	2	3
B	4	5	6
C	7	8	9

Yukarıdaki tabloya göre 3 birlik ve 4 onluktan oluşan sayının kodlaması aşağıdakilerden hangisidir?

- A. A2B4
B. C4A1
C. B1A3