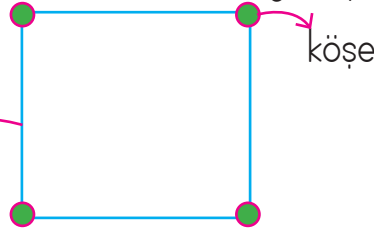




☆ Geometrik şekilleri oluşturan doğru parçalarının her birine kenar denir

☆ Geometrik şekilleri oluşturan doğru parçalarının her birine kenar denir

kenar

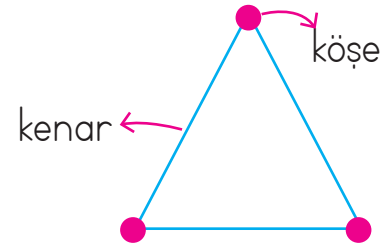


✏️ Aşağıdaki geometrik şekilleri ve özelliklerini inceleyelim.

Üçgen



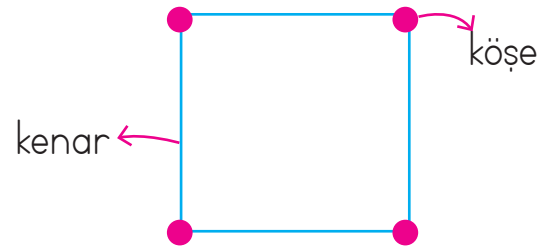
Üçgenin 3 kenarı,
3 köşesi vardır.



Kare



Karenin 4 kenarı,
4 köşesi vardır.
Kenar uzunlukları bir-
birine eşittir.



Dikdörtgen




Dikdörtgenin 4 kenarı,
4 köşesi vardır.
Karşılıklı kenar uzun-
lukları birbirine eşittir.



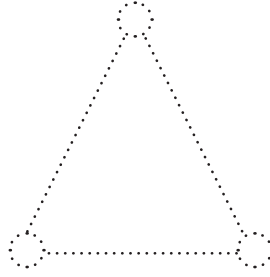


Çember




Çemberin kenarı ve
köşesi yoktur.



 Aşağıdaki geometrik şekillerin köşelerini boyayalım. Kenarlarını kırmızı kalemle belirtelim.



 Aşağıdaki görsellerin benzediği geometrik şekilleri altlarına yazalım.




 Aşağıdaki geometrik şekillere göre boşlukları dolduralım.



Şeklin Adı:

Kenar Sayısı:

Köşe Sayısı:



Şeklin Adı:

Kenar Sayısı:


Köşe Sayısı:



Şeklin Adı:

Kenar Sayısı:

Köşe Sayısı:

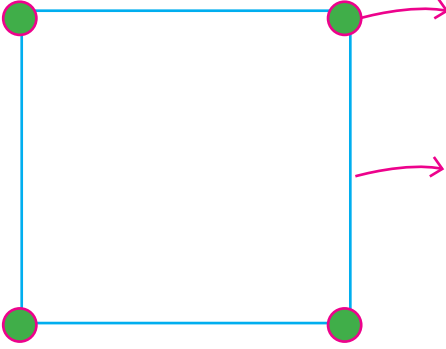


Şeklin Adı:

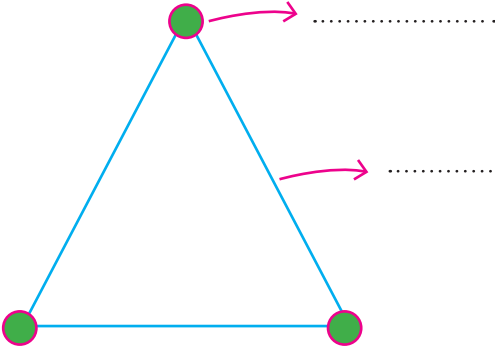
Kenar Sayısı:

Köşe Sayısı:


 Aşağıdaki geometrik şekilleri inceleyelim. Boş bırakılan yerleri dolduralım.




Geometrik şeklin adı
 Mavi ile çizilen tane
 vardır. Yeşil ile
 gösterilmiş tane
 vardır. Bütün bir-
 birine eşittir.




Geometrik şeklin adı
 Mavi ile çizilen tane
 vardır. Yeşil ile
 gösterilmiş tane
 vardır.





Geometrik şeklin adı
 Mavi ile çizilen tane
 vardır. Yeşil ile
 gösterilmiş tane
 vardır. Karşılıklı
 birbirine eşittir.



Geometrik şeklin adı
 ve yok-
 tur.

 Aşağıdaki boşlukları izometrik kağıt üzerindeki noktalara göre dolduralım.




 AEB noktalarının birleştirilmesiyle elde edilir.

 ABCD noktalarının birleştirilmesiyle elde edilir.

 DCGF noktalarının birleştirilmesiyle elde edilir.

 Aşağıdaki geometrik şekillerin benzer ve farklı yönlerini yazalım.



Benzer Yönleri

.....




Farklı Yönleri

.....




Benzer Yönleri

.....




Farklı Yönleri

.....

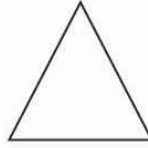
 Noktaların üzerinden gidip şekilleri tamamlayalım. Şekilleri sayalım ve hangi şekilden kaç tane varsa yandaki kutucuklara o kadar koyalım. Var olan şekilleri altında yazılı olan renge boyayalım.



Yeşil




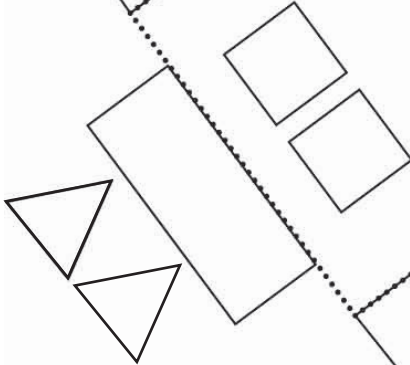



Mavi


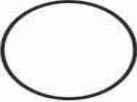




Kırmızı



Sarı



| | | | | | | | |
|---|--|--|--|--|--|--|--|
|  | | | | | | | |
|  | | | | | | | |
|  | | | | | | | |
|  | | | | | | | |

 Aşağıdaki şekilleri kullanarak bir yapı oluşturalım. Oluşturduğumuz yapıyı çizerek boyayalım.

