

COĞRAFI KEŞİFLER

Coğrafi keşifler, genellikle Avrupalı denizciler tarafından başlatılan sonucunda yeni kıtalar ve okyanusların bulunmasıyla sonuçlanmış keşifleri ifade eder. Bu keşiflerin yapılmasında yeni ticaret yollarının bulunması gibi ekonomik nedenler ağır basmaktadır. İlk keşif denemeleri, Atlantik Okyanusu ve Afrika kıyılarına doğru, 14. yüzyılın başlarında Fransız ve Cenevizli gemiciler tarafından yapılmıştır. Kanarya Adaları ve Azor Adalarının keşfedilmesi, bu girişimlerin sonucudur. Coğrafi keşifler sonucunda, Dünya'nın keşfedilmeyen birçok yerine çeşitli göçler yaşanmıştır. Bu keşifler Dünya'nın dengesini değiştirmiştir.

1 ve 2. soruyu metne göre cevaplayalım.

1. Metne göre coğrafi keşiflerin nedenleri hangi alanlarla ilgilidir?

- A. Ekonomik
- B. Sosyal
- C. Dini
- D. Turistik

2. İlk keşif denemeleri kimler tarafından yapılmıştır?

- A. Alman ve Yunan denizciler tarafından
- B. Fransız ve Cenevizli denizciler tarafından
- C. Amerikalı denizciler tarafından
- D. İrlandalı denizciler tarafından

3. Aşağıdaki cümlelerin hangisinde yazım hatası yapılmıştır?

- A. THY'nin son seferiyle gittik.
- B. Sendeki malzemeleri de getir.
- C. Burak parka yalnız gitmiş.
- D. Dr. Hasan Bey ameliyata girdi.

4. Aşağıdaki deyimlerden hangisi gerçek anlamına gelecek şekilde kullanılır?

- A. Etekleri zil çalmak
- B. Dört gözle beklemek
- C. Dilinde tüy bitmek
- D. Göz göze gelmek

5.



Aşağıdaki kelimelerden hangisi yukarıdaki varlığı niteleyen bir kelime değildir?


- A. güzel
- B. yün
- C. sarı
- D. çizgili

6. Ben, Ayşegül ve Mehmet parkta vakit geçirmeyi severken, Ali bundan hiç hoşlanmaz. her parka gittiğimizde çağırırken Ali evde dinlenmeyi tercih eder.

Yukarıdaki metinde boş bırakılan yerlere sırasıyla aşağıdaki kelimelerden hangisi gelmelidir?

- A. ben - o
B. siz - onu
C. biz - onu
D. biz - o

7.



Yukarıdaki kelimeler zıt anlam ilişkisine göre gruplara ayrılırsa hangi kelime boşta kalır?

- A. düz
B. alçak
C. aşağı
D. eğri

8. Altı çizili sözcüklerden hangisi bir adın yerine kullanılmıştır?

- A. Bu adam, birden düşüverdi.
B. O kitabı çok beğenmişim.
C. O, bize ders çalışmaya geldi.
D. Şu hediyeyi sen mi aldın?

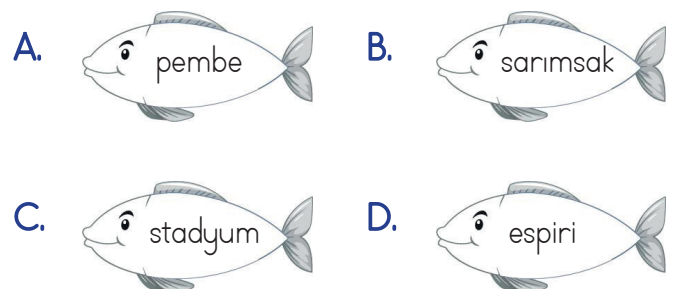
9.

Cümle	Gerçek Anlam	Mecaz Anlam
1. Dün hava çok <u>sıcaktı</u> .	✓	
2. <u>İnce</u> bir hırka giymiş.	✓	
3. Dün, beni çok <u>kırdın</u> .	✓	
4. <u>Acı</u> bir haber aldık.		✓

Yukarıdaki tabloda altı çizili sözcüklerin hangi anlamda kullanıldıkları işaretlenmiştir. Hangisinde hata yapılmıştır?

- A. 1
B. 2
C. 3
D. 4

10. Aşağıdaki kelimelerden hangisinin yazımında hata yapılmıştır?





11.

Bulutlar, pamuk tarlası gibi görünüyordu.

Yukarıdaki çocuğun söylediği cümle ile ilgili aşağıdaki yorumlardan hangisi yanlıştır?

- A. Benzetme içermektedir.
- B. Benzeyen bulutlar, kendisine benzetilen pamuk tarlasıdır.
- C. Kurallı bir cümledir.
- D. Tek başına anlamı olmayan birden fazla kelime kullanılmıştır.

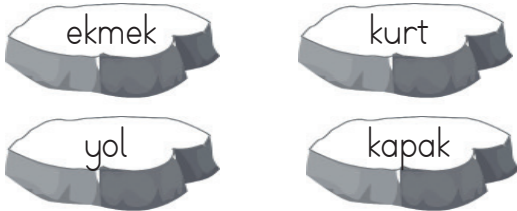
12.

Hastalandığım okula gidemedim.

Yukarıdaki cümlede boş bırakılan yere aşağıdaki kelimelerden hangisi gelmelidir?

- A. göre
- B. için
- C. bu nedenle
- D. dolayı

13.



Yukarıdaki kelimelerden kaç tanesi kullanıldıkları yere göre farklı anlamlar içerebilir?

- A. 1
- B. 2
- C. 3
- D. 4

14.

Birbiri ardına sıralanan eş görevli kelime ve kelime gruplarının arasına konurum.




Aşağıdaki cümlelerden hangisinde virgül, yukarıdaki görevi ile kullanılmıştır?

- A. Dişlerimi fırçaladım, okula gittim.
- B. Ali, babasının söylediğini anlamamış.
- C. Marketten süt, pirinç, yağ ve şeker almış.
- D. Sevgili öğrenciler, hepimiz hoşgeldiniz.

15.

SORUYA GEL



Öğretmen; Mehmet, Seda ve Cihan'dan yukarıdaki görsellerle ilgili birer cümle kurmalarını istemiştir. Bu cümlelerde adil ve ön adların geçmesi gerektiğini belirtmiştir. Öğrencilerin kurdukları cümlelerdeki adil ve ön adlarla ilgili şunlar bilinmektedir: Mehmet'in cümlesi yukarıdakilerin birini durum yönünden nitelemiştir. Seda'nın cümlesinde adil ve ön ad bir arada kullanılmıştır. Cihan'ın cümlesinde ise varlıklar belli belirsiz nitelenmiştir.

Yukarıdaki açıklamaya göre aşağıdakilerden hangisi çocukların kurduğu cümlelerden biri olamaz?

- A. Koca fil, bana hortumunu uzattı.
- B. Sevimli kaplumbağa, evini sırtında taşıyordu.
- C. Hiçbir hayvan hızlı koşamaz.
- D. Fil hortumunu bize uzattı.

1. Aşağıda verilen işlemlerden hangisinin gerçek sonucu ile tahmini sonucu arasındaki fark en fazladır? (Tahmini sonuç en yakın onluğa yuvarlanarak bulunacaktır.)

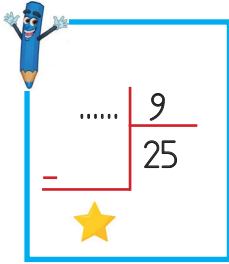
A.
$$\begin{array}{r} 226 \\ \times 25 \\ \hline \dots\dots\dots \end{array}$$

B.
$$\begin{array}{r} 228 \\ \times 18 \\ \hline \dots\dots\dots \end{array}$$

C.
$$\begin{array}{r} 341 \\ \times 19 \\ \hline \dots\dots\dots \end{array}$$

D.
$$\begin{array}{r} 315 \\ \times 41 \\ \hline \dots\dots\dots \end{array}$$

2.



Yukarıdaki bölme işleminde ★ sembolünün alabileceği değerler toplamı kaçtır?

- A. 34
B. 35
C. 36
D. 37

3. Aylin yüzme yarışması için hazırladığı üç ayda her gün 125 metre yüzmüştür. Buna göre Aylin'in üç ayda yüzdüğü toplam mesafe kaç metredir?



- A. 10150 m
B. 11250 m
C. 12150 m
D. 13150 m

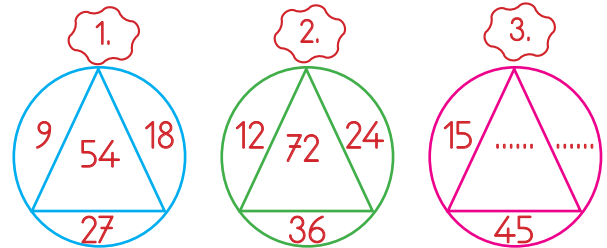
4.



Yukarıdaki sayı için söylenen aşağıdaki ifadelerden hangisi yanlıştır?

- A. Okunuşu "yedi yüz yirmi dokuz bin yedi" şeklindedir.
B. En yakın olduğu onluk 72910'dur.
C. Sayı değeri en büyük olan rakam yüzler basamağında yer almaktadır.
D. En yakın olduğu yüzlük 72900'dür.

5.



Yukarıdaki şekillerdeki sayılar aynı kurala göre dizilmiştir. Buna göre 3. şekilde verilmeyenlerin yerine gelmesi gereken sayıların toplamı aşağıdakilerden hangisidir?

- A. 115
B. 120
C. 125
D. 130

6.

$$\boxed{285} > \boxed{\star}$$

Yukarıdaki eşitsizlikte yıldız yerine gelebilecek en büyük iki basamaklı çift sayı ile en büyük üç basamaklı tek sayının çarpımı kaçtır?

- A. 26734
- B. 27734
- C. 28734
- D. 29734

7. Bir çarpma işleminde çarpanlardan biri 25 çarpım ise 400'dür. Bu çarpma işleminde çarpanlardan her biri 8 arttırılırsa sonuç kaç olur?

- A. 722
- B. 752
- C. 792
- D. 822

8.

1. Gün	2. gün	3. Gün	4. Gün
36 sayfa	27 sayfa	48 sayfa	35 sayfa

Selin'in başladığı 254 sayfalık bir kitapta ilk dört gün okuduğu sayfa sayıları yukarıda verilmiştir. Selin haftanın diğer günleri eşit sayıda sayfayı okumuş ve bu kitabı 1 haftada bitirmiştir. Selin haftanın kalan günlerinin her birinde kaç sayfa kitap okumuştur?

- A. 27
- B. 36
- C. 44
- D. 58

9.

$$\boxed{2850} + \boxed{A} = \boxed{4750}$$

$$\boxed{B} - \boxed{1280} = \boxed{2748}$$

Yukarıdaki işlemlerde verilmeyen A ve B sayılarının yerine gelmesi gereken sayıların toplamı kaçtır?

- A. 5728
- B. 5828
- C. 5928
- D. 6028

10.

$$\begin{aligned} \text{Bölen} &: 45 \\ \text{Bölüm} &: 8 \\ \text{Kalan} &: 7 \end{aligned}$$

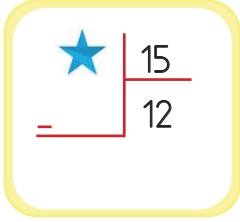
Yukarıda bir bölme işleminin bölen, bölüm ve kalanı verilmiştir. Bu bölme işleminin verilmeyen bölüneninin 5 ile bölümünden kalan kaçtır?

- A. 1
- B. 2
- C. 3
- D. 4

11. Ali ve Adem'in paralarının toplamı 850 liradır. Ali, Adem'e her gün 30 lira para verirse altıncı günün sonunda paraları eşit oluyor. Buna göre başlangıçta Adem'in kaç lirası vardır?

- A. 245
- B. 250
- C. 255
- D. 260

12.



Yukarıda verilen bölme işleminde bölünenin alabileceği en büyük değer ile iki basamaklı en küçük tek sayının çarpımı kaçtır?

- A. 1852
- B. 2088
- C. 2134
- D. 2258

13.

x	6	8	9
12	72	●	108
15	90	120	■
18	▲	144	162

Yukarıda verilmiş olan çarpma işlemi tablosuna göre (▲ x ●) + ■ işleminin sonucu kaçtır?

- A. 10500
- B. 10501
- C. 10502
- D. 10503

14. Bir manav elindeki 285 kilogramlık patatesleri 15 kilogramlık çuvalara, 198 kilogramlık soğanları ise 9 kilogramlık çuvalara koyuyor. Bu manavın kullandığı çuval sayısı aşağıdakilerden hangisidir?

- A. 40
- B. 41
- C. 42
- D. 43

15. SORUYA GEL



Yukarıdaki üç çuvalın ağırlığı en yakın onluğuna yuvarlanıp toplandığı zaman sonuç 560 kg çıkıyor. Buna göre 3. çuvalın ağırlığı ile 1. çuvalın ağırlığı arasındaki fark aşağıdakilerden hangisi olamaz?

- A. 121 kg
- B. 119 kg
- C. 117 kg
- D. 110 kg

1.



Yukarıdaki olayların kronolojik sıralaması aşağıdakilerden hangisidir?

- A. 2 - 1 - 3 - 4
B. 3 - 2 - 1 - 4
C. 4 - 2 - 3 - 1
D. 4 - 2 - 1 - 3

2.



Karıncaların yuvalarının ağızı yönünü gösterir.

Yukarıdaki çocuğun söylediği cümlede boş bırakılan yere aşağıdakilerden hangisi getirilmelidir?

- A. Güney
B. Kuzey
C. Doğu
D. Batı

3. Aşağıdakilerden hangisi "1 İnönü Savaşı'nın" sonuçlarından birisi değildir?

- A. Komutanlığını İsmet İnönü yapmıştır.
B. Afganistan ile dostluk anlaşması imzalanmıştır.
C. Batı cephesinde yapılmış, zaferle sonuçlanmıştır.
D. Ermenistan ile barış anlaşması imzalanmıştır.

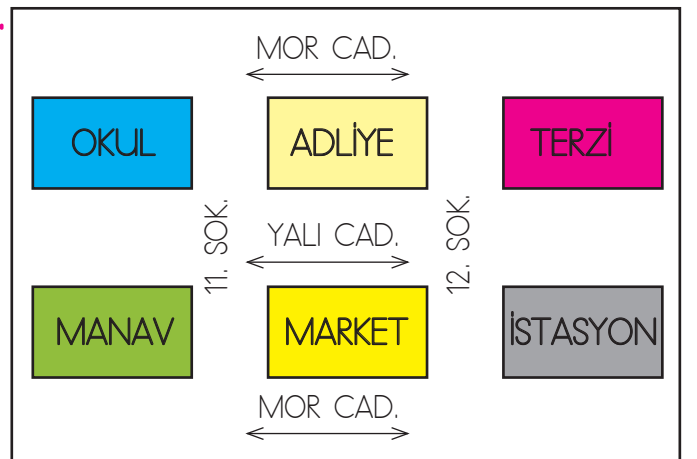
4.

Günler	Hava Olayı
Pazartesi	
Salı	
Çarşamba	
Perşembe	
Cuma	
Cumartesi	
Pazar	

Yukarıdaki tabloya göre hangi gün havanın daha soğuk olması beklenir?

- A. Salı
B. Perşembe
C. Cuma
D. Pazar

5.



Yukarıda verilen krokiye göre adliyenin batısında aşağıdakilerden hangisi bulunmaktadır?

- A. İstasyon
B. Okul
C. Terzi
D. Manav

6.

Heyelan	■
Deprem	●
Sis	▲
Yangın	⬡

Yukarıda verilenlerden hangisi hava olayıdır?

- A. ■ B. ● C. ▲ D. ⬡

7. Aşağıdaki ifadelerden hangisi yanlıştır?

- A. Kişilerin ilgi ve yetenekleri farklılık gösterebilir.
 B. "Güzel resim yapabilmek" bir yetenektir.
 C. Bir kişinin ilgi alanları zaman geçtikçe değişiklik göstermez.
 D. Bir kişi ilgi duyduğu alanlarda kendini geliştirip uzmanlaşabilir.

8. Aşağıdaki ifadelerden hangisi yanlıştır?

- A. Doğal unsurlar insan eli değmeden oluşan unsurlardır.
 B. "Pamukkale Travertenleri" doğal unsurdur.
 C. Beşeri unsurlar insanlar tarafından oluşturulur.
 D. Tarla doğal unsurdur.

9. Aşağıdaki ifadelerden hangisi yanlıştır?

- A. Türkiye'nin en büyük gölünün hangisi olduğunu Türkiye Fiziki Haritasından öğrenebiliriz.
 B. Ankara'nın ilçe sayısını Türkiye Siyasi Haritasından öğrenebiliriz.
 C. Türkiye'nin komşularını Dünya Siyasi Haritasından öğrenebiliriz.
 D. Türkiye Fiziki Haritasında yükseltinin fazla olduğu yerleri yeşil olarak görürüz.

10.

akarsu	toprak	köprü
baraj	tünel	tepe

Yukarıdaki tabloda beşeri unsurların yer aldığı kutular boyanacaktır. Tablonun son görünümü nasıl olur?

- A.

		■
■	■	

 B.

■		■
■		■

 C.

■	■	■
■	■	

 D.

■		■
■	■	


1. Aşağıdakilerden hangisi Dünya'nın kendi etrafında dönmesinin sonuçlarından biri değildir?
- A. Gün içerisinde Güneş'in farklı konumlarda gözükmesi
B. Bir günün oluşması
C. Günlük sıcaklık farklarının oluşması
D. Mevsimlerin oluşması

2. yapıcı ve onarıcı besin grubunda , ise enerji verici besin grubunda yer alır.

Yukarıdaki ifadeye boşluklara sırasıyla hangisi gelmelidir?

- A. mineraller - yağlar
B. yağlar - proteinler
C. proteinler - karbonhidratlar
D. mineraller - karbonhidratlar

3. Aşağıdaki besinlerden hangisi yağ içerir?



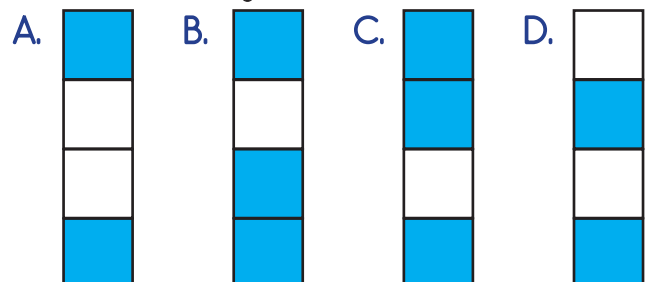
4. Aşağıdaki ifadelerden hangisi yanlıştır?

- A. Kütle madde miktarına verilen isimdir.
B. Katıların kütlesi eşit kollu terazi ile ölçülür.
C. Hacim bir maddenin boşlukta kapladığı alana verilen isimdir.
D. Dara, bir maddenin brüt miktarına verilen isimdir.





5.

Gaz maddeler sıkıştırılabilme özelliğine sahiptir.	
Katı maddeler buldukları alanı tam dolduramazlar.	
Sıvı maddelerin belirli bir şekli vardır.	
Katı ve sıvı maddelerin belirli bir kütlesi ve hacimleri vardır.	

Yukarıda tabloda verilen ifadeler doğruysa sonundaki kutular boyanacaktır. Buna göre tablonun son görünümü nasıl olur?



6. Aşağıdaki varlıklardan hangisi bir özelliğine göre diğerlerinden ayrılır?







- A. 
- B. 
- C. 
- D. 

7. Aşağıdaki bilgilerden hangisi yanlıştır?

- A. Sıvı maddelerin katı hale geçmesine donma adı verilir.
- B. Maddelerin sıcaklığı termometre ile ölçülür.
- C. Sadece bazı maddelerin sıcaklığı bulunur.
- D. Sıvı haldeki maddelerin ısı alarak gaz hale geçmesine buharlaşma denir.

8. Aşağıdaki maddelerden hangisi "su" ile karıştırıldığında her iki maddede gözle görülür?

- A. 
- B. 
- C. 
- D. 




9. 
- 
- 
- 
- 
- 

Yukarıda verilen maddelerden kaç tanesi saf maddedir?

- A. 2
- B. 3
- C. 4
- D. 5

10. 
- 
- 
- 
- 
- 

Yukarıda verilen karışım ve ayırma yöntemi eşleştirmesi aşağıdaki seçeneklerinin hangisinde doğru olarak verilmiştir?

- A. 
- B. 
- C. 
- D. 