








 Aşağıdaki ifadelerin dairesine doğru ise (D), yanlış ise (Y) yazalım.

- İllerin kendisine komşu olan illeri siyasi haritaya bakarak görebiliriz.
- İl ve ilçe sınırlarını siyasi haritalardan öğrenemeyiz.
- Herhangi bir yerdeki dağlar, ovalar, göller gibi yer şekilleri fiziki haritayla gösterilir.
- İl içerisindeki ilçelerin dağılışını fiziki haritaya bakarak öğrenebiliriz.
- Bir yerde yeryüzü şekilleri dağlık ise bu yer fiziki haritalarda yeşil olarak gösterilir.
- Denizler, göller gibi su kaynakları fiziki haritalarda mavi olarak gösterilir.
- Siyasi haritalar yeryüzü şekilleri hakkında bilgi vermez.
- Bir ilin ilçe sayısı, siyasi harita yardımıyla öğrenilebilir.

 Aşağıda verilen kelimeleri boşluklardan uygun olanlarına yerleştirelim.

mavi	kahverengi	denizlerle	fiziki
siyasi	Dünya	ova	

-  Çevresine göre alçakta kalmış düzlüklere ..... denir.
-  ..... siyasi haritasında ülkelerin komşularını ve sınırlarını görürüz.
-  ..... haritalarda dağ, deniz, ova, akarsu ve platoları görebiliriz.
-  ..... haritalarda illerin ilçe sayılarını öğrenebiliriz.
-  Bir fiziki haritada yükseltinin fazla olduğu noktalar ..... ile gösterilir.
-  Bir fiziki haritada su kaynakları ..... renk ile gösterilir.
-  Ülkemizin üç tarafı ..... çevrilidir.