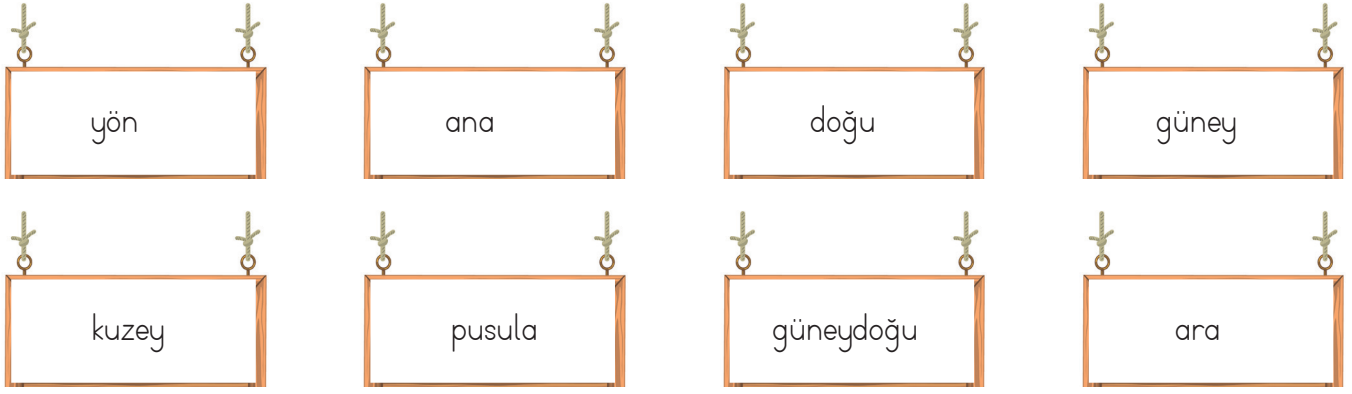


➔ Verilen kelimeleri uygun boşluklara yazarak cümleleri tamamlayalım.












- ♥ Güneye zıt olan yöndir.
- ♥ Batı yönlerden bir tanesidir.
- ♥ Güneş sabahın ilk saatlerinde yönünde olur.
- ♥ ara yönlerden birisidir.
- ♥ Bir yerin başka bir yere göre konumuna denir.
- ♥ Kuzeybatı yönlerden bir tanesidir.
- ♥ Ülkemizde cami minarelerinin kapıları yönünü gösterir
- ♥ en güvenilir yön bulma yöntemidir.

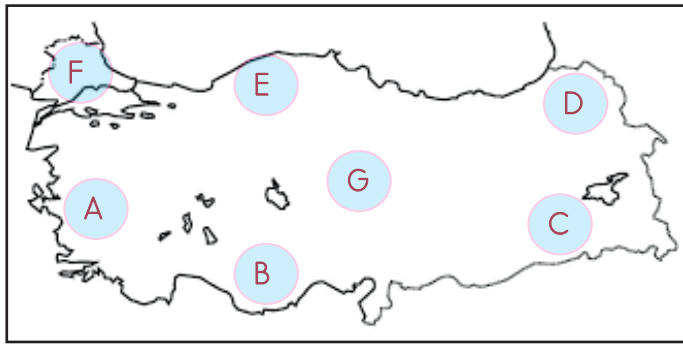
➔ Aşağıda ifadeler doğru ise (D), yanlış ise (Y) yazalım.

- İnsanlar yönünü bulmak için yalnızca doğadan yararlanır.
- Navigasyon cihazları teknolojik yön bulma araçlarından biridir.
- Doğu, batı, kuzey ve güney ana yönlerdir.
- Yönler, Güneş'in doğuş ve batışına göre belirlenmiştir.
- Yüzümüzü Güneşe döndüğümüzde sağ kolumuz doğuyu gösterir.
- Pusula en güvenilir yön bulma yöntemlerinden biridir.
- Ağaçların ve taşların yosunlu kısımları kuzey yönünü gösterir.
- Pusulanın renkli ucu her zaman kuzeyi gösterir.

→ Aşağıdaki okların belirttiği yöne göre diğer varlıkların olduğu yönü kutulara yazalım.

	Kuzey	
			
.....		Güney
			
.....		

→ Aşağıdaki haritada bazı şehirler harflerle gösterilmiştir. Verilen soruları harflerin belirttikleri şehirlerin yönüne göre cevaplayalım.



- A şehri B şehrinin
- D şehri E şehrinin
- B şehri C şehrinin
- F şehri A şehrinin
- G şehri B şehrinin
- C şehri D şehrinin

→ Görsellerle belirtilen yerlerin yönleriyle ilgili boşlukları dolduralım.



Karıncanın ağzı yönünü gösterir.



Güneş yönünden doğar.



Pusulanın renkli ucu yönünü gösterir.



Cami minarelerinin kapıları yönünü gösterir.



Ağaçların yosun tutan yönü yönünü gösterir.