

TIYATRO SEÇMELERİ

Okulda tiyatro gösterisi düzenlenecekti. "Kırmızı Başlıklı Kız" oyunu oynanacaktı. En sevdiğim oyundur. Seçmeler okulun konferans salonunda yapılıyordu. Bu seçmelere benim de girmem gerekiyordu. Çünkü en sevdiğim oyundu.



Heyecanla konferans salonuna

doğru yürüdüm. Kurt rolünü oynayacak kişi belliydi. Kırmızı Başlıklı Kız rolüne kimin seçileceğine henüz karar verilmemişti. Sıram gelmişti. Sözleri ezbere biliyordum. Hatta tüm karakterlerin sözlerini ezberlemiştim. Sahneye çıktığımda derin bir nefes aldım. Evet, artık hazırdım. Tüm dikkatler benim üzerimdeydi. Sanki o kırmızı başlığı olan kız benmişim gibi oynadım. Sahneden indim. Artık sonuçları bekleyecektik.

Bir sonraki gün sonuçlar açıklandı. Ben seçilmiştim. Hem de açık ara farkla seçilmiştim. Çok mutlu oldum. Hayalimi gerçekleştirmeye az kalmıştı.


SORULAR

1. Okulda hangi oyun oynanacaktı? 3. Metnin ilk cümlesi nedir?

2. Seçmeler nerede yapılıyordu?

4. Metnin başlığı nedir?

✏️ Aşağıdaki resmi boyamak için yönergeleri okuyalım. Okuduğumuz bu yönergelere göre resmi boyayalım. Yönergenin dışında kalan yerleri istediğimiz renge boyayalım.






YÖNERGELER

- ➔ Kaleyi siyaha boya.
- ➔ Topu siyaha ve beyaza boya.
- ➔ Yerleri kahverengiye boya.
- ➔ Çocukların şortlarını yeşile boya.
- ➔ Merdivenleri kırmızıya boya.
- ➔ Duvarları boyama.
- ➔ Potayı turuncuya boya.
- ➔ Çocukların atletlerini maviye boya.




✏️ Aşağıdaki kelimeleri sözlükteki yerlerine göre örnekteki gibi numaralandıralım.




		
çiçek	kalem	sinek

		
elma	deve	ayı


		
aslan	erik	halı

		
koyun	balık	ışık

		
çivi	ceylan	biber

		
ayva	nane	limon


✏️ Aşağıdaki kelimeleri sözlükteki yerlerine göre sıralayalım.

	Karga	1.
	Deniz	2.
	Lamba	3.

	Zürafa	1.
	Yosun	2.
	Üzüm	3.

	Faruk	1.
	Deste	2.
	Gamze	3.

	Okan	1.
	Pınar	2.
	Leyla	3.

 Aşağıdaki sözcükleri örnekteki gibi hecelerine ayırıp hece sayılarını yazalım.


 kitaplık
 tren
 aile


 dörtlü
 kelime
 balık


 kelebek
 yasa
 kurt


 plan
 tencere
 sözlük


 Aşağıda sözcükleri hecelerine ayıralım.


 kaptan →


 şişe →


 ağaçlar →

 serçe →

 yaprak →

 kalp →

 domates →


 tunç →


 Aşağıda karışık olarak verilen hecelerden anlamlı kelimeler oluşturalım.


 ta-lık-sa-la

 rim-ya

 niz-de-ci









 kar-sa-lık

 fon-le-te



 viz-yon-le-te












✎ Aşağıdaki cümlelerin sonuna gelmesi gereken noktalama işaretlerini örnekteki gibi işaretleyelim.

CÜMLELER		?	.
	Bunlardan hangisini alacaksın	<input checked="" type="checkbox"/>	<input type="checkbox"/>
	Markete birlikte gidelim	<input type="checkbox"/>	<input type="checkbox"/>
	Kardeşin yarın gelecek	<input type="checkbox"/>	<input type="checkbox"/>
	Çayına kaç şeker attı	<input type="checkbox"/>	<input type="checkbox"/>
	Kitap okumayı seviyor musun	<input type="checkbox"/>	<input type="checkbox"/>
	Televizyonu çok yakından izleme	<input type="checkbox"/>	<input type="checkbox"/>
	Saat kaçta parka gideceksiniz	<input type="checkbox"/>	<input type="checkbox"/>


✎ Aşağıdaki cümlelere gelmesi gereken noktalama işaretlerini eşleştirelim.

 Ali() Okan futbol oynuyorlar.	<input type="checkbox"/> Kesme işareti
 Erhan()ın dedesi iyi bir insan.	<input type="checkbox"/> Soru işareti
 Aaaa() Yine aynı kazağı giymiş.	<input type="checkbox"/> Nokta
 Neden o kitabı okumadın()	<input type="checkbox"/> Virgül
 Saat 12()00'de eve geçeceğim.	<input type="checkbox"/> Ünlem işareti

✎ Aşağıdaki sözcüklerin zıt anlamlılarını bulmacada uygun olan yerlere yazalım.



1. TAZE
2. ALÇAK
3. ŞİŞMAN
4. SAĞ
5. ÖN
6. DOĞU
7. KÜÇÜK
8. ZENGİN
9. ZOR



✎ Aşağıdaki altı çizili sözcükleri zıt anlamlılarıyla değiştirerek cümleleri yeniden yazalım.

Biber çok acıdı.



Zürafanın boyu çok uzun.



Satın aldığı kıyafet inceydi.



Yaşlı adam gazete okuyordu.



Fırından taze ekmek aldı.



→ Verilen günlerden bir önceki ve bir sonraki günleri yazalım.

Dün	Bugün	Yarın	Dün	Bugün	Yarın
.....	Çarşamba	Cuma
Dün	Bugün	Yarın	Dün	Bugün	Yarın
.....	Pazartesi	Perşembe
Dün	Bugün	Yarın	Dün	Bugün	Yarın
.....	Cumartesi	Salı
Dün	Bugün	Yarın	Dün	Bugün	Yarın
.....	Pazar

→ Verilen takvime göre soruları yanıtlayalım.

- 10 Ocak hangi gündür?
.....
- Ocak ayının 20. günü hangi gündür?
.....
- Ocak ayının son günü hangi gündür?
.....
- Ayın kaçınıcı günleri salıya gelmektedir?
.....
- Hafta sonu günlerini yuvarlak içine alalım?
.....



→ Aşağıdaki tablolarda haftanın günlerini ve aylarını tamamlayalım. Cümlelerdeki boşlukları dolduralım.

HAFTANIN GÜNLERİ						
1. Gün	2. Gün	3. Gün	4. Gün	5. Gün	6. Gün	7. Gün
	Salı			Cuma		


AYLAR	
1.	7.
2.	8.
3.	9.
4.	10.
5.	11.
6.	12.

- Bir haftada gün vardır.
- Bir yılda ay vardır.
- Haftanın günü cuma günüdür.
- Yılın ayı Ekim'dir.
- Şubat ayı yılın ayıdır.

→ Verilen takvim yaprağına göre soruları cevaplayalım.



- Takvim hangi ayı göstermektedir?
.....
- Takvim hangi günü göstermektedir?
.....
- Takvim, ayın kaçınıcı gününü göstermektedir?
.....



MART						
Pt	S	Ça	Pe	Cu	Ct	Pz
						1
2	3	4	5	6	7	8
9	10	11	12	13	14	15
16	17	18	19	20	21	22
23	24	25	26	27	28	29
30	31					

NİSAN						
Pt	S	Ça	Pe	Cu	Ct	Pz
		1	2	3	4	5
6	7	8	9	10	11	12
13	14	15	16	17	18	19
20	21	22	23	24	25	26
27	28	29	30			

- ➔ Takvimde mart ayının ilk gününü bulup yuvarlak içine alalım.
- ➔ Nisan ayı gündür.
- ➔ Mart ayının 15'i gününe denk gelmektedir.
- ➔ Nisan ayı üzerinde hafta sonu tatillerini bulup yuvarlak içine alalım.
- ➔ Nisan ayının 3'ü gününe denk gelmektedir.
- ➔ 23 Nisan Ulusal Egemenlik ve Çocuk Bayramı gününe denk gelmektedir.
- ➔ Mart ayının ilk pazartesi günü kaçınıcı gündür?
- ➔ Mart ayı gündür.

→ Aşağıdaki cümleleri dikkatlice okuyup öğrenelim.

Gün

1 Gün yirmi dört saattir.

Hafta



1 hafta 7 gündür.
Haftanın günleri; Pazartesi, salı,
çarşamba, perşembe, cuma, cumar-
tesi, pazar.

Ay

1 ay 4 haftadır.
1 ay 30 gündür.
31 gün süren aylar da vardır.
Şubat ayı 28 gündür ve 4 yılda bir
29 gün olur.

Yıl

1 yıl 12 aydır.
1 yıl elli iki haftadır.
1 yıl üç yüz altmış beş gündür.
Aylar;
Ocak, şubat, mart, nisan, mayıs,
haziran, temmuz, ağustos, eylül,
ekim, kasım, aralıktır.



→ Aşağıdaki saatlerin kaç gösterdiğini örnekteki gibi noktalı yerleri doldurarak yazalım.



Akrep ...8... 'in üzerinde, yelkovan ...12... 'nin üzerindedir.
Saat ...8... 'i göstermektedir.



Akrep 'in üzerinde, yelkovan 'nin üzerindedir.
Saat 'i göstermektedir.



Akrep 'in üzerinde, yelkovan 'nin üzerindedir.
Saat 'i göstermektedir.



Akrep 'in üzerinde, yelkovan 'nin üzerindedir.
Saat 'i göstermektedir.



Akrep 'in üzerinde, yelkovan 'nin üzerindedir.
Saat 'i göstermektedir.




Akrep 'in üzerinde, yelkovan 'nin üzerindedir.
Saat 'i göstermektedir.

→ Verilen saatlere örnekteki gibi akrep ve yelkovan çizelim.




Saat: 01.00

Saat: bir




Saat: 03.00

Saat: üç




Saat: 05.00

Saat: beş




Saat: 07.00

Saat: yedi




Saat: 09.00

Saat: dokuz




Saat: 11.00

Saat: on bir




Saat: 06.00

Saat: altı



Saat: 02.00


Saat: iki



Saat: 12.00

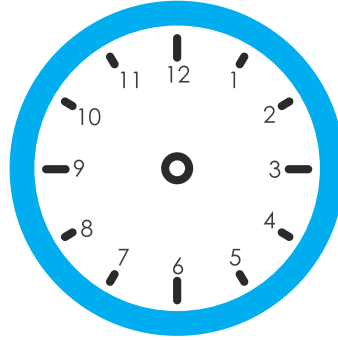
Saat: on iki

→ Verilen bilgilere göre saatlere örnekteki gibi akrep ve yelkovan çizelim.



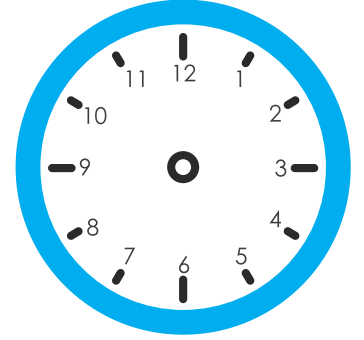
Saat: 01.30

Saat: bir buçuk



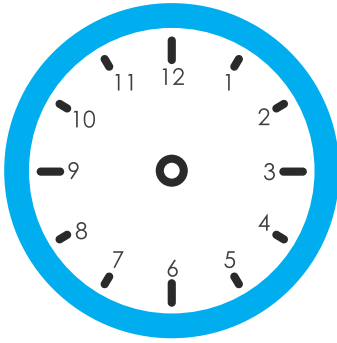
Saat: 03.30

Saat: üç buçuk



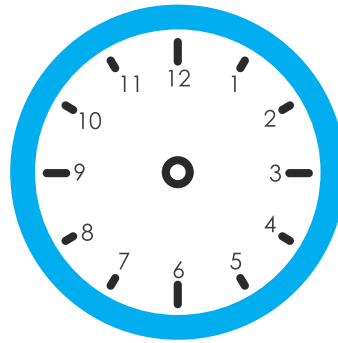
Saat: 05.30

Saat: beş buçuk



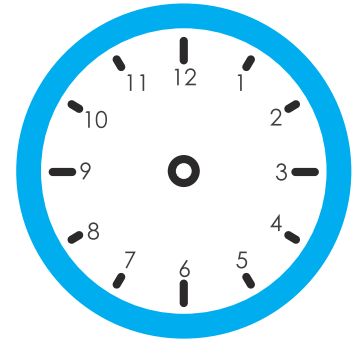
Saat: 06.30

Saat: altı buçuk



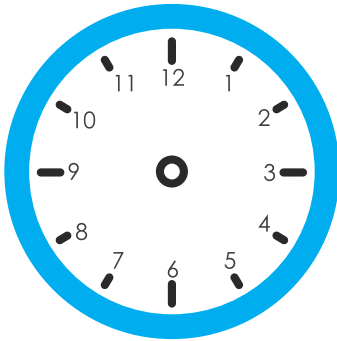
Saat: 09.30

Saat: dokuz buçuk



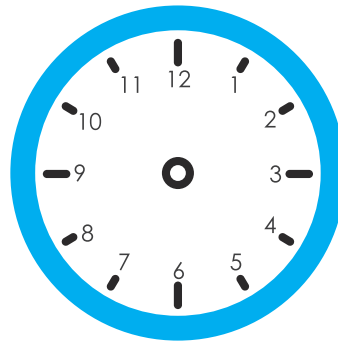
Saat: 10.30

Saat: on buçuk



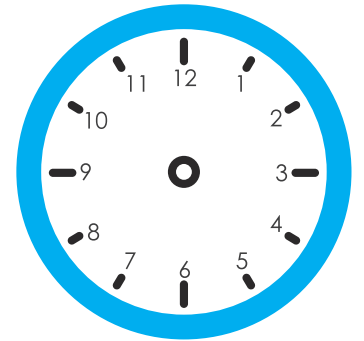
Saat: 02.30

Saat: iki buçuk



Saat: 04.30

Saat: dört buçuk



Saat: 07.30

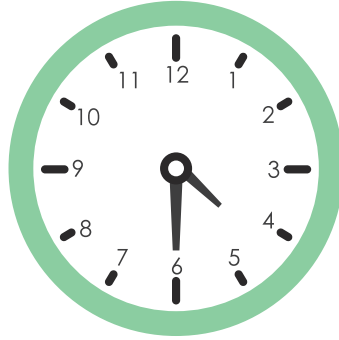
Saat: yedi buçuk

→ Aşağıdaki saatlerin kaçı gösterdiğini örnekteki gibi yazalım.



Saat: 01.30

Saat: bir buçuk




Saat:

Saat:




Saat:

Saat:




Saat:

Saat:




Saat:

Saat:




Saat:

Saat:



Saat:

Saat:



Saat:

Saat:



Saat:

Saat:



Yaşadığımız yerlerin isimleri büyüklüklerine göre değişir. Ülkemiz, illerden, iller ilçelerden, ilçeler mahalle ve köylerden oluşur. İlleri vali, ilçeleri kaymakam, köy ve mahalleleri ise muhtar yönetir. Aynı zamanda yaşadığımız yerlerde tarihi ve turistik bir çok yer vardır. Bunları bilmeli, gezip görmeliyiz.



✏️ Aşağıdaki yerleşim birimlerini yöneticileri ile eşleştirelim.



Vali



Muhtar



Kaymakam



✏️ Aşağıda istenen bilgileri yazalım.

Yaşadığınız ilin adı

Yaşadığınız ilçenin adı

Yaşadığınız mahallenin adı

✏️ Gezip görmek istediğimiz bir yer belirleyip hangi yerleşim biriminde olduğunu yazalım.

Gezeceğim yer:

Gezeceğim yerin ili

Gezeceğim yerin ilçesi

Gezeceğim yerin köyü

.....


.....

.....

1. Aşağıdaki görsellerden hangisinin adı ünlü harf ile bitmektedir?



2. Aşağıdaki varlıkların hangisinde "ra" hecesi yoktur?



3. Aşağıdakilerin hangisinde yazan kelimenin zıt anlamlısı yoktur?



4. Aşağıdaki sözcüklerden hangisi hecelerine yanlış ayrılmıştır?

A. Türk - i - ye

B. A - da - na

C. Sa - la - ta

5. Hangi cümledeki altı çizili verilen sözcük "Ne" sorusuna yanıt verir?

A. Bahçeye fidan diktik.

B. Annem eve geldi.

C. Yarın İzmir'e gideceğim.

6. Aşağıdaki görsellerden hangisinin ismi alfabetik sıraya göre en sonda yer alır?



1.

13, daha 20 eder.

Yukarıdaki ifadede noktalı yere hangi sayı gelmelidir?

- A. 12 B. 7
C. 10

2.

$$\begin{array}{r} 7 \\ + A \\ \hline 11 \end{array} \quad \begin{array}{r} A \\ + B \\ \hline 9 \end{array}$$

Yukarıdaki toplama işleminde "B" yerine hangi sayı yazılmıştır?

- A. 6 B. 5
C. 4

3.

Ali bana 3 boncuk verdi. Toplam 12 boncuğum oldu. Başlangıçta kaç boncuğum vardı?

- A. 8 B. 7
C. 9

4.

Hakan, 3 liraya kalem aldı. Satıcıya 10 lira verdi. Ne kadar para üstü alır?

- A. 7 B. 10
C. 13

5.

Saatin üzerinde saati gösteren çubuk hangisidir?

- A. Akrep
B. Yelkovan
C. Çubuk

6.

1 gün saattir.

Yukarıda boş bırakılan yere hangisi gelmelidir?

- A. 12
B. 18
C. 24

1. Yerleşim yerlerinin küçükten büyüğe doğru sıralanışı hangi seçenekte verilmiştir?

- A. İlçe, il, köy
- B. Köy, ilçe, il
- C. İl, ilçe, köy

2.



Yaşadığımız ili
..... ilçeyi ise
..... yö-
netir.

Alper'in cümlesinde boş bırakılan yerlere hangisi gelmelidir?

- A. Muhtar - vali
- B. Vali - kaymakam
- C. Kaymakam - vali

3. ■ Yaşadığımız mahalleyi muhtar yönetir.
● En büyük yerleşim birimi köydür.
▲ İlin yönetiminden vali sorumludur.

Yukarıdaki sembollerle ifade edilen bilgilerden hangileri doğrudur?

- A. ■ ▲
- B. ● ■
- C. ▲ ●

4. Yaşadığımız yerle ilgili hangisini bilmemize gerek yoktur.

- A. Mahallemizin adını.
- B. Yaşadığımız yerin gezip görülecek yerlerini.
- C. Yaşadığımız yerin yöneticisinin kişisel özelliklerini.

TÜRKÇE

1- B

2- A

3- B

4- A

5- A

6- B

MATEMATİK

1- B

2- B

3- C

4- A

5- A

6- C

HAYAT BİLGİSİ

1- B

2- B

3- A

4- C