

BİTKİLER SEVGİ İSTER

Adnan Bey ve eşi Nursen Hanım bitki bakımıyla uğraşıyorlardı. Evlerinde farklı farklı bitkiler yetiştiriyorlardı. Onları yetiştirirken çok hassas davranıyorlardı. Nursen Hanım, orkideyi çok seviyordu. Adnan Bey ise begonyalara sempati duyuyordu. Tabii diğer bitkileri de seviyorlardı. Her sabah bitkilerine şarkı söyleyip onlarla konuşuyorlardı.



1, 2 ve 3. soruları metne göre cevaplayalım.

1. Adnan Bey aşağıdakilerden hangisini seviyordu?

- A. Begonya
- B. Orkide
- C. Papatya

2. Her sabah ne yapıyorlardı?

- A. Bitkilerine şiir okuyorlardı.
- B. Bitkilerine masal anlatıyorlardı.
- C. Bitkilerine şarkı söylüyorlardı.




3. Adnan Bey'in eşinin adı aşağıdakilerden hangisidir?

- A. Begonya Hanım
- B. Nursen Hanım
- C. Çiçek Hanım

4. Samet, yazım yanlış olan oyuncacı alacaktır.



Buna göre Samet yukarıdaki oyuncaklardan hangisini almıştır?

- A. 
- B. 
- C. 

5. Aşağıdaki kelimelerden hangisinin eş anlamlısı varken zıt anlamlısı yoktur?

- A. büyük
- B. kırmızı
- C. cimri

6. 1 Birlikten kuvvet doğar.
2 Bir elin nesi var, iki elin sesi var.
3 Güneş girmeyen eve doktor girer.
4 Denize düşen yılanı sarılır.

Yukarıdaki atasözlerinden hangileri yardımlaşma ile ilgilidir?

- A. 1 - 2
B. 2 - 3
C. 1 - 4

7. ■ götürdüm

● tamirciye

▲ bilgisayarımı

Yukarıdaki kelimelerden hangisini çıkarırsak cümle oluşturamayız?

- A. ▲ B. ● C. ■

8. Kibar - Kaba




Yukarıdaki kelimeler arasındaki anlam ilişkisi aşağıdaki kelime çiftlerinden hangisinde vardır?

- A. Ozan - Şair
B. Lisan - Dil
C. Dolu - Boş

9.

Tekil Ad	Çoğul Ad	
Araba		Orman
	Gözlükler	Deste

Yukarıdaki tabloda sembollerle gösterilen yerlere aşağıdakilerden hangisi gelebilir?

- A.  kaya  elma  gemiler
B. ordu dergi düzine
C. çilek arılar Topluluk adı

10.

Aslan ormanda uyurken avcılar tarafından yakalandı. Küçük bir fare aslanı kurtardı. Aslan bu duruma çok şaşındı. Çünkü minicik fare, kocaman aslanı kurtarmıştı.

Yukarıda hikayenin hangi unsurundan bahsedilmemiştir?

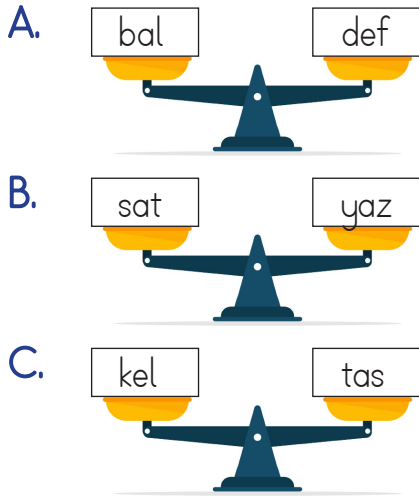
- A. Ana karakter
B. Yer
C. Zaman

11. SORUYA GEL

Her kelimenin ağırlığı, o kelimenin harflerinin alfabedeki sıra numaralarının toplamı kadardır.

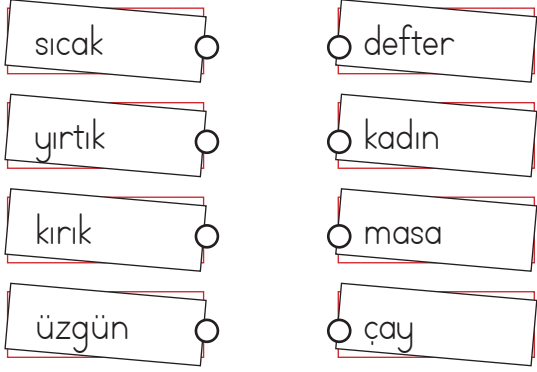
Örneğin; "al" kelimesi (a = 1), (l = 15) $15+1=16$ eder. Yani al=16

Buna göre kelimelerin ağırlıklarına bakılırsa aşağıdaki kefeleden hangisi dengede olur?



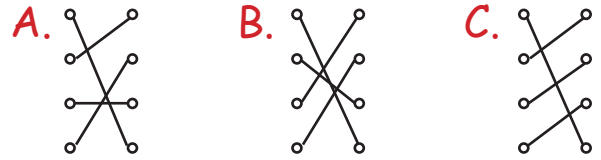
12. Özel adlara ▲ sembolü, tür adlarına ▼ sembolü konulursa "Kalem, Telefon, Mars" kelimelerine sırasıyla hangi semboller gelmelidir?

- A. ▼ ▲ ▼
- B. ▲ ▲ ▼
- C. ▼ ▼ ▲

13. 

Yukarıdaki varlıklarla bu varlıkların niteliklerini bildiren sözcükler eşleştirilmiştir.

Eşleştirmenin son görünüşü nasıl olmalıdır?



14. "Yüz" sözcüğü hangi cümlede "yüzme eylemi" anlamında kullanılmıştır?

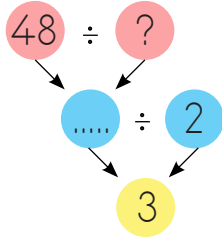
- A. Yüzümde sivilce çıktı.
- B. Yüz tane bilyem var.
- C. Yüzmeyi çok seviyorum.

15. ▲ Senin adın ne()
● Oley, babam geldi()
■ Aman, dikkat et()

Sembollerle gösterilen cümlelerin hangisinin sonuna farklı bir noktalama işareti getirilmelidir


- A. ▲ B. ● C. ■

6. Yandaki şemada bölme işlemlerine göre “?” yerine hangi sayı yazılmalıdır?




- A. 8 B. 6 C. 4

7.



İnci'nin kutusu



Zeynep'in kutusu

İki arkadaş meyve toplama yarışması yapmıştır.

- Armutlar 7 puan
- Kiviler 9 puan
- Zeynep 72 puan almıştır.

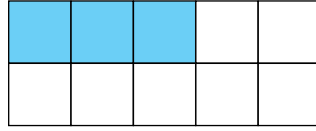
Buna göre İnci kaç puan almıştır?

- A. 64 B. 72 C. 76

8. Hangi bölme işleminde kalan farklı bir sayıdır?

- A. $64 \overline{)7}$ B. $41 \overline{)8}$ C. $38 \overline{)4}$


9.



Modelde gösterilen kesrin pay ve paydasına yazılacak sayılar hangisinde doğru olarak verilmiştir?

- | | <u>Pay</u> | <u>Payda</u> |
|----|------------|--------------|
| A. | 3 | 10 |
| B. | 3 | 7 |
| C. | 10 | 3 |

10. Yandaki boyalı alanın sayı doğrusu üzerinde gösterimi hangi seçenekte verilmiştir?



- A.
- B.
- C.

11. Evrim 28 lirasının $\frac{1}{4}$ 'i ile defter aldı.

Evrim'in, defter aldıktan sonra kaç lirası kalmıştır?

- A. 7 B. 14 C. 21

12.



Saat dörde çeyrek var.



Saat üçü kırk beş geçiyor.



Saat dördü çeyrek geçiyor.

Yukarıdaki çocuklardan ikisi saati doğru söylemiştir.

Hangisi yanlış bir tahminde bulunmuştur?

A.



B.



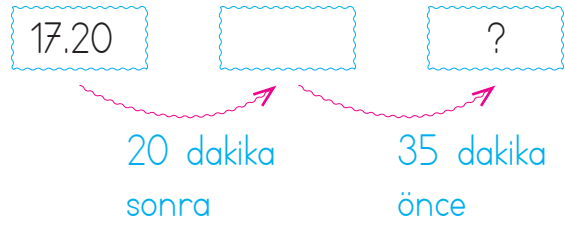
C.



13. Sabah 06.40'ta çıkan Asya'nın yolculuğu 105 dakika sürmüştür. Gideceği yere saat kaçta varır?

- A. 08.15 B. 08.25 C. 08.35

14.



Yukarıda soru işareti (?) ile gösterilen alana hangisini yazabiliriz?

- A. 17.05 B. 17.10 C. 17.15

15. SORUYA GEL

	A	B	C
1			
2			
3			
4			
5			
6			
7			
8			
9			
10			



Cevap Anahtarı



Ayhan

	A	B	C
1			
2			
3			
4			
5			
6			
7			
8			
9			
10			



Melis

	A	B	C
1			
2			
3			
4			
5			
6			
7			
8			
9			
10			

Yukarıda Ayhan ve Melis'in bir sınavdaki cevapları verilmiştir. Bu sınavda;

- Her doğru cevap 8 puandır.
- Her 2 yanlış cevap ise bir doğru cevabı silmektedir.

Ayhan ve Melis'in puanları toplamı kaçtır?

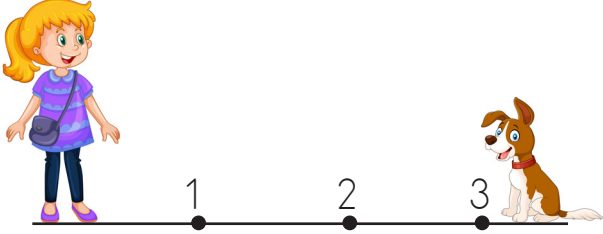
- A. 88 B. 96 C. 112

1. > Yüksek ses kulağa zarar vermez.
> İnsan kulağı her sesi işitebilir.
> Korna sesi yapay sese örnektir.

Yukarıdaki bilgilerden kaç tanesi doğrudur?

- A. 1 B. 2 C. 3

2.



Derya yukarıdaki konumlardan hangisinde bulunduğu köpeğin sesini daha şiddetli duyar?

- A. 1 B. 2 C. 3

3.

Lamba	Yıldız	Şimşek
Mum	Güneş	El feneri

Yukarıdaki ışık kaynaklarından kaç tanesi doğal ışık kaynağıdır?

- A. 2 B. 3 C. 4

4.



Kelebeğin çıkardığı ses işitme kaybına neden olur.

Akarsu sesi doğal sestir.



İrem ve İlke'nin söyledikleri ile ilgili aşağıdakilerden hangisi doğrudur?

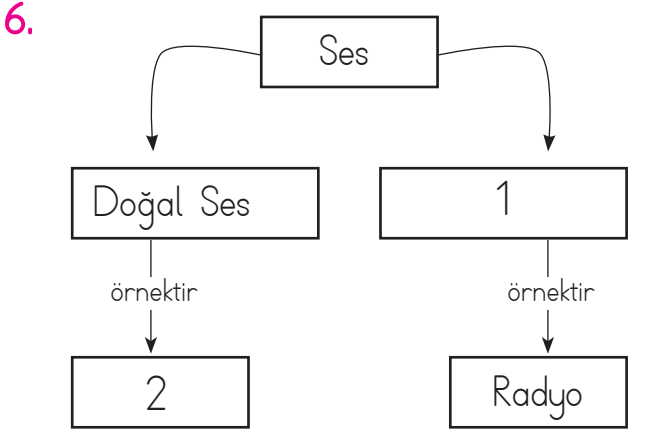
- | | İrem | İlke |
|----|--------|--------|
| A. | Doğru | Yanlış |
| B. | Yanlış | Doğru |
| C. | Doğru | Doğru |

5.

		D	Y
1	Kuş sesi yapay sestir.	✓	
2	Bardak sesi yapay sestir.		✓
3	Tüm sesler aynı şiddette duyulur.		✓

Yukarıdaki açıklamalardan hangileri yanlış işaretlenmiştir?

- A. 1 ve 2 B. 2 ve 3
C. 1 ve 3



Bu kavram haritasındaki numaralı yerlere sırasıyla hangileri yazılmalıdır?

- A. Yapay ses - Akarsu sesi
- B. Kuş sesi - Televizyon sesi
- C. Yapay ses - Davul sesi

7. Aşağıdaki ifadelerden hangisi doğrudur?

- A. Sesi işitmede görevli duyu organımız kulaklarımızdır.
- B. Sesin şiddetinin çok olması kulak sağlığımız için iyidir.
- C. Ses kaynağına yaklaştıkça sesin şiddeti azalır.



Yukarıdaki varlıkların ortak özelliği aşağıdakilerden hangisidir?

- A. Yapay ışık kaynağı olmaları
- B. Doğal ışık kaynağı olmaları
- C. Cansız varlık olmaları

9.



Yukarıdaki bilmecenin cevabı hangi ışık kaynağımızdır?

- A. Güneş
- B. Yıldız
- C. Ay

10. Öğretmen, Ece'ye bir soru sormuştur. Sorunun cevabı için 3 seçenek vermiştir.

- A. Yıldırım
- B. Ampul
- C. Mum



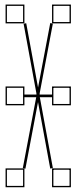
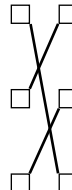
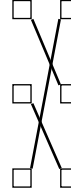
Sorduğunuz sorunun cevabı "yıldırım" öğretmenim.

Buna göre öğretmenin Ece'ye sorduğu soru aşağıdakilerden hangisidir?




- A. Aşağıdakilerden hangisi yapay ışık kaynağıdır?
- B. Aşağıdakilerden hangisi doğal ışık kaynağıdır?
- C. Aşağıdakilerden hangisi yapay ses kaynağıdır?

1. Tuvaletten çıktıktan sonra yıklarım. temiz
- Ortak kullanım alanlarını bırakırım. mendil
- Öksürürken ağzımı ile kapatırım. ellerimi

Yukarıdaki ifadeleri boş bırakılan yerlere gelecek kelimelerle eşleştirdiğimizde doğru eşleşme nasıl olur?

- A. 
- B. 
- C. 

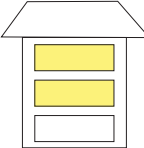
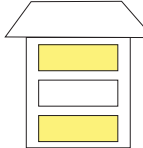
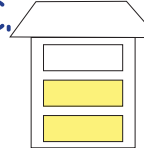
2. Aşağıdakilerden hangisi "alt geçit" anlamına gelmektedir?

- A. 
- B. 
- C. 

3.  Yandaki evin temizlik ve hijyen kuralları ile ilgili doğru olan davranışları boyanacaktır.

1. Çöpleri çöp kutusuna atmamız.
2. Tuvaletleri temiz tutmalıyız.
3. Burnumuzu elimizle silmemeliyiz.

Evin son görünümü nasıl olur?

- A. 
- B. 
- C. 

4. Yandaki levhanın anlamı aşağıdakilerden hangisidir?



- A. Dikkat
- B. Yaya geçidi
- C. Üst geçit

5. Aşağıdaki görselleri verilen araçlardan hangisinin yanlış kullanımı elektrik çarpmasına yol açar?



6. → Islak zeminde koşmak.
 → Kırık sandalyeye oturmak.
 → Dikkatli bir şekilde yürümek

Yukarıdaki davranışlardan kazaya sebep olanlar işaretlenecektir. İşaretlemenin son görünümü nasıl olur?

- A. B. C.

7. Erhan Bey koşu yaparken birden rahatsızlanmıştır. Bu durumu oğlu Selçuk fark etmiştir.



Selçuk bu durumda aşağıdakilerden hangisini yapmalıdır?

- A. 183'ü aramalıdır.
B. 110'u aramalıdır.
C. 112'yi aramalıdır.

8. Buse, okuldan çıktıktan sonra parka gitmiştir. Geç saatlere kadar oynamıştır. Tam o sırada tanımadığı biri yanına yaklaşip ona hediye vermek istediğini söylemiştir.

Buse, bu durumda aşağıdakilerden hangisini yapmalıdır?

- A. Hediyeyi almalıdır.
B. Oynamaya devam etmelidir.
C. Oradan uzaklaşmalıdır.

9. Aşağıdakilerden hangisi zor durumda yardım isteyeceğimiz kişilerden değildir?

- A. Öğretmenimiz
B. Tanımadığımız bir kişi
C. Ailemiz

10. 155 İtfaiye
 112 Polis imdat
 110 Ambulans

Acil telefon numaraları ait olduğu yerlerle eşleştirildiğinde hangisi oluşur?

- A. B. C.