

 Aşağıdaki eşitliklerde boş bırakılan yerleri tamamlayalım.



6 litre = yarım litre

4 litre = yarım litre

12 litre = yarım litre

18 litre = yarım litre

13 litre = yarım litre

15 litre = yarım litre

10 yarım litre = litre


16 yarım litre = litre

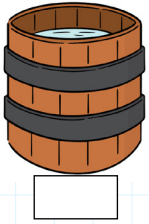
8 yarım litre = litre

20 yarım litre = litre

24 yarım litre = litre

12 yarım litre = litre

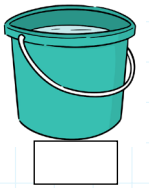
 Aşağıdaki kapların kaç litre sıvı aldığını yazalım.



3 litre



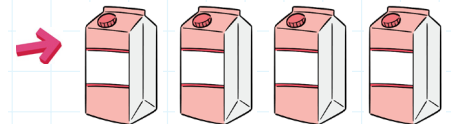
1 litre




Yarım litre



2 litre



 Aşağıdaki ifadelerden doğru olanların dairesini boyayalım.

Sıvı maddelerin ölçü birimi litredir.

Metre sıvı ölçü birimidir.

2 yarım litre bir litre eder.

Süt sıvı bir maddedir.

2 litre 3 yarım litreye eşittir.

8 yarım litre 4 litreye eşittir.

Sıvıları ölçmek için baskül kullanırız.

Yarım litrenin yarısı çeyrek litre eder.

Kum, taş gibi maddeler litre ile ölçülür.

8 litre 4 yarım litreye eşittir.

1.

1 kutu süttten 4 bardak süt çıkıyorsa yarım kutu süttten kaç bardak süt çıkar?



Çözüm:

2.

Merve her gün 6 yarım litre su içmektedir. Merve 1 haftada kaç litre su içer?



Çözüm:

3.

1 kutu meyve suyundan 5 bardak meyve suyu çıkıyorsa 20 bardak meyve suyu için kaç kutu meyve suyu gereklidir?



Çözüm:

4.

Bir fıçıda 21 litre su vardır. Üçer litrelik 3 sürahiyi su ile doldurursak fıçıda kaç litre su kalır?



Çözüm:

5.

İpek, doktorunun yazdığı şuruptan her gün yarım kaşık içmektedir. İpek 1 ay sonra kaç kaşık şurup içmiş olur?



Çözüm:

6.

Bir arabanın deposu 8 bidon benzin ile dolmaktadır. Bir bidon benzin 4 şişe ile dolduğuna göre arabanın deposu kaç şişe benzin ile tamamen dolar?



Çözüm:

1.

Bir su bardağı 8 yemek kaşığı ile dolmaktadır. 5 su bardağı kaç yemek kaşığı ile dolar?



Çözüm:

2.

5 portakaldan 1 bardak portakal suyu çıkmaktadır. 1 bardak portakal suyu 2 çay bardağını doldurmaktadır. 6 çay bardağı kaç portakalın suyu ile dolar?



Çözüm:

3.

Bir sütçü, inekten günlük 4 litre süt sağmaktadır. Sütçünün 5 ineği olduğuna göre günde 32 litre süt sağlamak için kaç ineğe daha ihtiyacı vardır?



Çözüm:

4.

2 litre süttten yarım kilogram yoğurt elde ediliyor. 18 litre süttten kaç kilogram yoğurt elde edilir?



Çözüm:

5.

Yarım litre suyun fiyatı 50 kuruştur. Bir aile 8 liraya yarım litre sularından alırsa toplamda kaç litre su almış olur?



Çözüm:

6.

Saksılarını sulamak için günde 4 yarım litre su kullanan Erdi, 1 haftada kaç litre su kullanmış olur?



Çözüm: