



4 yarım ekmek ile 8 çeyrek ekmek kaç ekmek eder?



Çözüm:



8 çeyrek elma ile 6 yarım elmanın toplamı kaç bütün elma eder?



Çözüm:



Yarısı 9 olan sayının tamamı kaçtır?



Çözüm:



Ayça 24 cevizin çeyreğini kardeşine, kalanların yarısını da babasına vermiştir. Ayça'nın kaç cevizi kalmıştır?



Çözüm:



Çeyreği 5 olan sayının tamamının 4 fazlası kaçtır?



Çözüm:



Yarısı 4 olan sayı ile çeyreği 3 olan sayının toplamı kaçtır?



Çözüm:



Yarısı 4 olan sayının 3 katı kaçtır?




Çözüm:




Bir aile her gün 4 çeyrek ekmek tükettiğine göre haftada kaç ekmek tüketmiş olurlar?




Çözüm:

 16 fındığın çeyreği tüketilince geriye kaç fındık kalır?


 Çözüm:

 Yarım kilosunu 4 lira olan tatlıdan 3 kilo alırsak satıcıya kaç lira ödememiz gerekir?


 Çözüm:

 9 bütün domates kaç yarım domates eder?


 Çözüm:

 Bir deste kalemin 2 tanesini kullandım. Kalan kalemlerin çeyreği kaç tanedir?


 Çözüm:

 Masadaki bardakların çeyreği kırıldı. Kırılan bardak sayısı 8 ise önceden masada kaç bardak vardı?


 Çözüm:

 3 pizza 24 lira olduğuna göre çeyrek dilimi kaç liradır?

 Çözüm:

 16 sayısının çeyreği ile yarısının toplamı kaçtır?

 Çözüm:

 Bir sürahi suyun çeyreği ile 5 bardak doluyor. Buna göre bir sürahi su ile kaç bardak su doldurabiliriz?

 Çözüm: