




Bilgi

Belli bir düzen içinde dizilen sayı veya nesneler bir örüntü oluşturur.

Örnek :        

Aşağıdaki örüntüde verilmeyen sembolleri belirleyerek tamamlayalım.



Aşağıdaki örüntü kuralını belirleyip yazalım. Verilen şekillerle bu kurala uygun örüntüler oluşturalım.



Örüntünün kuralı :

Benzer Örüntü





Örüntünün kuralı :

Benzer Örüntü






Örüntünün kuralı :


Benzer Örüntü



 Aşağıdaki örüntülerde boşluklara gelmesi gereken şekil veya nesneleri ok ile belirtelim.



 Aşağıdaki örüntülerde boşluklara gelmesi gereken şekil veya nesneleri işaretleyelim.



 Aşağıdaki örüntülerde boşluklara gelmesi gereken şekilleri çizelim.

