

✏ Aşağıda verilen saatlerin öğleden önce ve öğleden sonra kaç gösterdiklerini örnekteki gibi yazalım.




Öğleden önce : **01.15**
Öğleden sonra : **13.15**



Öğleden önce :
Öğleden sonra :



Öğleden önce :
Öğleden sonra :



Öğleden önce :
Öğleden sonra :

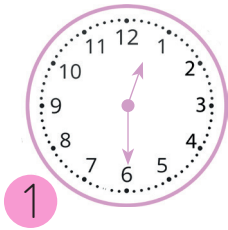


Öğleden önce :
Öğleden sonra :




Öğleden önce :
Öğleden sonra :

✏ Verilen saatlere göre aşağıdaki ifadelerden doğru olanların başına "D", yanlış olanların başına "Y" harfini yazalım.



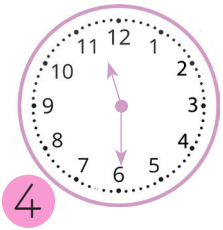
1



2



3




4


- 1 numaralı ifade akrep 12'nin, yelkovan 6'nın tam üzerindedir.
- 2 numaralı saat öğleden sonra dijital saatte 22:15 olarak gösterilir.
- 3 numaralı saatte yarım saat sonra saat 6'yı gösterecektir.
- 4 numaralı saat yarım saat sonra 12'yi gösterecektir.
- 1 ve 4 numaralı saatlerin arasında 1 saatlik zaman farkı vardır.

✏ Aşağıda okunuşları verilen saatleri analog saat üzerinde gösterelim.


Saat on çeyrek geçiyor.




Saat iki buçuk




Saat yediyi çeyrek geçiyor.




Saat altı.



Saat dokuz buçuk.




Saat altıyı çeyrek geçiyor.

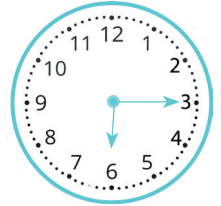


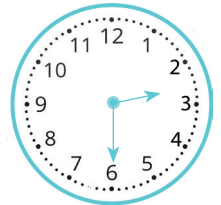
✏ Aşağıda verilen saatlerin okunuşlarını yazalım.









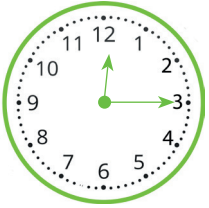


 Görsellerdeki çocukların aktivitelerinin saat kaçta biteceğini dijital saat üzerine yazalım.



Okul servisim yarım saat sonra gelecek.

..... :



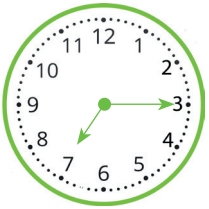
15 dakika sonra yüzeceğim.

..... :



1 buçuk saat önce resim yaptım.

..... :



Yarım saat önce kahvaltı yaptım.

..... :



2 saat sonra uyuyacağım.

..... :