

COCO'NUN YARAMAZLIKLARI

Ormanın birinde yaramazlığıyla tanınan bir maymun yaşardı. Bu maymunun adı Coco'ydu. Tehlikelere ve mesafelere hiç aldanmaz ağaçtan ağaca zıplardı. Bir gün yine mesafeye bakmadan ağacın birine atlarken tutunmak istediği dala yetişemeden "pat" diye düşüverdi. Düşerken çok büyük bir ses çıktı. Düştüğü yerde avcılar derin bir çukur açmışlardı. Maymun Coco onun içine düşmüştü. Sesini duyan diğer hayvanlar hemen yardımına koşuverdi. Ama düştüğü yer o kadar derindi ki onu kurtarmak çok uzun sürdü. Arkadaşları tarafından kurtarılan Coco, bundan sonra tehlikeli işler yapmamaya söz verdi.



1, 2 ve soruyu metne göre cevaplayalım.

1. Coco ormanda nasıl tanınırdı?
 - A. Akıllılığıyla
 - B. Zekiliğiyle
 - C. Yaramazlığıyla
 - D. Tembelliğiyle
2. Metne göre Coco'nun düştüğü yerde ne vardı?
 - A. Avcıların açtığı çukur
 - B. Başka hayvanların yuvası
 - C. Anıların petekleri
 - D. Derin bir dere
3. Aşağıdaki cümlelerin hangisinde noktalama işaretlerinde hata yapılmıştır?
 - A. Mersin'e ne zaman geldin?
 - B. Adana, yemekleriyle de anılan bir şehirdir.
 - C. Ee, bu da fazla oldu yeter artık.
 - D. Çilek, karpuz ve erik en sevdiğim meyvelerdir.

4.



İnsan dışındaki canlı ve cansız varlıkları insan özellikleri verilerek, başlarından geçen olaylar ile insanlara ibret vermek amacıyla yazılmış kısa yazılardır.

Yukarıdaki çocuğun tanımladığı metin türü aşağıdakilerden hangisidir?

- A. Masal
 - B. Hikaye
 - C. Öykü
 - D. Fabl
5. Aşağıda resimlerle anlatılan kavramlardan hangisinin eş seslisi yoktur?




B.



D.





Yukarıda görselde yer alan hayvanların hangi ikisinin ismindeki kalın ve ince ünlü sayıları birbirine eşittir?

- A. 1 - 2
- B. 2 - 3
- C. 1 - 3
- D. 3 - 4

7. Aşağıda kullanım alanı verilen noktalama işaretlerinden hangisinde hata yapılmıştır?

- A. Soru bildiren cümlelerin sonuna soru işareti konur.
- B. Hayret, kızgınlık, şaşırma ve mutluluk gibi duyguları belirtmek ve vurgulamak için ünlem işareti konur.
- C. Tamamlanmamış (eksilteli) cümlelerin sonuna iki nokta konur.
- D. Özel isimlere getirilen ekler kesme işaretiyle ayrılır.

8. Aşağıdaki cümlelerde altı çizili sözcüklerden hangisi mecaz anlamıyla kullanılmıştır?





- A. Burada oturmaktan çok sıkıldım.
- B. Erzurum'da havalar çok soğumuş.
- C. Bu sınavdan kalırsam yandım.
- D. Bu kadar ince bir ipi nereden buldun?







Yukarıdaki kelimelerden kaç tanesinin yazımı yanlıştır?

- A. 2
- B. 3
- C. 4
- D. 5

10.

	mektep - okul
	doktor - hekim
	ak - kara
	barış - sulh

Yukarıdaki tabloda hangi sembolün önündeki kelime çifti arasındaki anlam ilişkisi farklıdır?

- A. 
- B. 
- C. 
- D. 

11. Aşağıdaki cümlelerin hangisinde yazım hatası yapılmıştır?
- A. Siz de toplantıya katılacak mısınız?
- B. Benim çantam siyah, kardeşiminki kırmızıydı.
- C. Bu sınavdan yüksek not almak hiç te kolay olmadı.
- D. Tam düşüyordum ki; babam elini uzattı.

12. Aşağıdaki ifadelerden hangisi yanlıştır?
- A. Gerçek anlam, bir kelimenin aklımıza ilk gelen anlamıdır.
- B. Bir bilim, sanat, meslek dalıyla ya da bir konuyla ilgili özel ve belirli bir kavramı olan sözcük şeklinde ifade edilen kavram terim anlamıdır.
- C. "Elim çok acıyor." cümlesindeki "acımak" sözcüğü mecaz anlamında kullanılmıştır.
- D. "Gezegen, gök taşı" gibi sözcükler terim anlamı sözcüklerdir.

13.



Derste o kadar önemli bir konu vardı ki tüm öğrenciler

Yukarıdaki öğrencinin kurduğu cümlelerin sonuna aşağıdaki deyimlerden hangisi getirilirse cümle anlamlı olur?

- A. kendini dinledi
- B. yarım kulak dinledi
- C. kulak asmadı
- D. can kulağı ile dinledi

14.

1- Damlaya damlaya göl olur.

2- Komşu komşunun külüne muhtaçtır.

3- Kalem kılıçtan üstündür.

4- İşleyen demir pas tutmaz..

Yukarıda verilen atasözlerinden hangisi "tasarruf, dayanışma ve eğitim" alanlarından biriyle ilgili değildir?

- A. 1
- B. 2
- C. 3
- D. 4

15.

Birinci sözcüğün eş anlamlısı vardır.

İkinci sözcük birinci sözcüğün zıt anlamlısıdır.

Üçüncü sözcüğün eş seslisi vardır.

Aşağıdaki sözcüklerin hangisi yukarıdaki tabloya uygun olarak verilmiştir?

1. sözcük

2. sözcük

3. sözcük

A.

barış

sulh

kayıt

B.

doktor

hastane

yüz

C.

cevap

soru

ekmek

D.

düşman

arkadaş

kara

1.

232522

237520

156652

233525

- Yukarıdaki sayıları küçükten büyüğe doğru sıraladığımızda baştan 2. sayı hangisi olur?

- A.

232522

 B.

237520

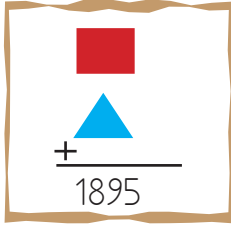
C.

156652

 D.

237520

2.



Yukarıdaki toplama işleminde

■

 sembolü 90 arttırılır,

▲

 sembolü 50 azaltılırsa sonuç ne olur?

- A. 1935
 B. 1795
 C. 1685
 D. 1445
3.

6

9

0

2

Yukarıdaki rakamlar kullanılarak oluşturulabilecek dört basamaklı en büyük ve en küçük sayının toplamı kaçtır?

- A. 10256
 B. 11689
 C. 12252
 D. 13400

4.

4858	-	2585	=	
				+
				1858
				=
				?

Yukarıda verilen işlem şemasına göre "?" yerine hangi sayı gelmelidir?

- A. 4100
 B. 4125
 C. 4131
 D. 4150

5.

Ob	Bn	Yz	O	B









Yukarıdaki abaküste gösterilen sayıdan 8576 çıkarılırsa sonuç aşağıdaki sayılardan hangisi olur?

- A. 35665
 B. 37585
 C. 37100
 D. 38500

6.

	4281	→	4300
	5749	→	5800
	7625	→	7600
	2552	→	2500

Yukarıdaki sembollerin belirttikleri sayılar en yakın yüzlüğe yuvalanmıştır. Hangi sembollerin en yakın yüzlüğe yuvarlanmasında hata yapılmıştır?

- A.  
- B.  
- C.  
- D.  

7. Turistik bir şehri üç yılda 9568 kişi ziyaret etmiştir. Birinci yıl 2548 kişi, ikinci yıl 1748 kişi ziyaret ettiğine bu şehri üçüncü yıl kaç kişi ziyaret etmiştir?

- A. 5200
- B. 5252
- C. 5260
- D. 5272

8. Bir şeker fabrikası dört günde 9858 kg şeker üretiyor. Bu fabrika birinci gün ve ikinci gün toplam 3545 kg, üçüncü gün 1645 kg şeker ürettiğine göre dördüncü gün kaç kg şeker üretmiştir?

- A. 4650
- B. 4665
- C. 4668
- D. 4700

9.

SORUYA GEL

Kenan, Sevil ve Kaan içinde sayıların yazılı olduğu kartlardan birer tane çekiyor. Ve çektikleri kartlarla ilgili aşağıdaki bilgileri veriyor.

Kenan : Çektiğim kartta yazılı olan sayı 5 basamaklı en büyük çift sayıdan 5 eksiktir.


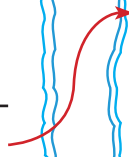

Sevil : Benim çektiğim sayı 5 basamaklı rakamları farklı en büyük tek sayıdır.



Kaan: Benim sayım beş basamaklı en büyük sayıdan 2 eksiktir.

Yukarıdaki çocukların çektikleri sayılarla aşağıda ilgili verilen bilgilerden hangisi yanlıştır?

- A. En büyük sayıyı Kaan çekmiştir.
- B. En küçük sayıyı Kenan çekmiştir.
- C. Sevil'in çektiği sayının rakamları toplamı 35'tir.
- D. Kaan'ın çektiği sayı tek sayıdır.

10.

$\begin{array}{r} 3656 \\ - 1256 \\ \hline \end{array}$ 		$\begin{array}{r} 985 \\ - \\ \hline \end{array}$ 
--	---	---

Yukarıdaki çıkarma işlemlerinde  ve  sembollerinin toplamı kaçtır?

- A. 3810
- B. 3815
- C. 3820
- D. 3825

11. Aşağıdaki toplama işlemlerinden hangisinin sonucu yanlıştır?

A.
$$\begin{array}{r} 1245 \\ +4756 \\ \hline 6001 \end{array}$$

B.
$$\begin{array}{r} 3895 \\ +4352 \\ \hline 8247 \end{array}$$

C.
$$\begin{array}{r} 5099 \\ +2565 \\ \hline 7564 \end{array}$$

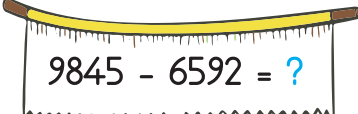
D.
$$\begin{array}{r} 2354 \\ +1968 \\ \hline 4322 \end{array}$$

12.  $965 - 480$  $285 + 146$

 $685 - 286$  $220 + 131$

Yukarıdaki işlemlerden kaç tanesinin onluğa yuvarlanmış şekli 400'dür?

- A. 1
- B. 2
- C. 3
- D. 4

13.  $9845 - 6592 = ?$

Yukarıdaki işlemin sonucu ile ilgili aşağıdaki yorumların hangisi yapılamaz?

- A. Rakamları toplamı 13'tür.
- B. En yakın yüzlüğe yuvarlanmış şekli 3300'dür.
- C. En yakın onluğa yuvarlanmış şekli 3260'dır.
- D. Binler ve birler basamağındaki rakamların sayısı değeri ayndır.

14. Aşağıdaki örüntülerden hangisinin kuralı "9 artar, 5 azalır" şeklindedir?

A.  15  20  29  34  43

B.  18  27  20  29  36

C.  26  35  30  39  34

D.  45  50  41  46  35

15. Ali



Beş yüz seksen beş bin altı yüz kırk dokuz

Ayşe



Yedi yüz altmış beş bin dokuz yüz kırk iki

Arda



Yirmi yedi bin iki yüz kırk beş

Ezgi



Altmış beş bin dört yüz dokuz

Yukarıdaki çocuklardan hangi ikisinin söylediği sayıların binler basamaklarının sayısı değerlerinin toplamı 12'dir?

- A. Ali - Ayşe
- B. Ezgi - Ayşe
- C. Ali - Ayşe
- D. Ezgi - Arda

1. Yeni T.C. kimlik kartının ön yüzünde aşağıdaki bilgilerden hangisi yer almaz?

- A. Doğum tarihi
- B. T.C. kimlik numarası
- C. Ad ve soyad
- D. Baba adı



Kardeşimle nüfus cüzdanlarımızı karşılaştığımızda çok fazla benzer noktalar gördük.




Hakan ile kardeşinin nüfus cüzdanlarında gördükleri benzer noktalar arasında aşağıdakilerden hangisi olamaz?

- A. Doğum tarihleri
- B. T.C. Kimlik numaraları
- C. Baba adları
- D. Soyadları

3. Sözlü tarih çalışması yapılırken ilk olarak aşağıdakilerden hangisi yapılmalıdır?

- A. Görüşmeden sonra alınan kayıtlar düzenlenir.
- B. Görüşülecek kişiye sorulacak sorular hazırlanır.
- C. Görüşülecek konu hakkında ön bilgi toplanır.
- D. Kişiyile yapılan görüşmeler çeşitli yollarla kaydedilir.

4.



Yukarıdaki görsellerde yer alan çocuklardan kaç tanesi empati duygusuyla hareket etmiştir?

- A. 1
- B. 2
- C. 3
- D. 4

5. Aşağıdaki ifadelerden hangisi yanlıştır?

- A. Horon, Karadeniz Bölgesi'ne ait yöresel bir oyundur.
- B. İshakpaşa Sarayı, Ağrı'da bulunan tarihi yapılardan bir tanesidir.
- C. Topkapı Sarayı, İstanbul'da bulunan tarihi yapılardan bir tanesidir.
- D. Kız Kulesi, Mersin'de bulunan turistik yerlerden bir tanesidir.

6. Milli Mücadele Dönemi'nde; Urfa, Antep ve Maraş'ta mücadele edilen devlet aşığıdakilerden hangisidir?
- Fransa
 - İngiltere
 - Yunanistan
 - Ermenistan

7.



Selin, Seda ve Ezgi çok iyi 3 arkadaştır. Birçok şeyi beraber yapan bu üç arkadaşın Ezgi; Selin ve Seda top oynadığı zaman onlara katılmamakta, eve gidip kitap okumaktadır. Buna göre aşağıdaki yorumlardan hangisi yapılamaz?

- İyi arkadaşların da ilgi alanları farklı olabilir.
 - Ezgi'nin ilgi alanlarından biri kitap okumaktır.
 - Selin ve Seda'nın ilgi alanlarından biri top oynamaktır.
 - Selin kitap okumaktan hoşlanmamaktadır.
8. Aşağıdakilerden hangisi duygusal ve sosyal özelliklerimizden biridir?
- Çok güzel futbol oynarım.
 - Sarı saçlı ve mavi gözlüyüm.
 - Arkadaşlarımla sohbet etmekten çok hoşlanırım.
 - Matematik dersinde çok başarılıyım.

9. Milli Mücadele Dönemi'nde Ermenilere karşı büyük başarı sağlayan komutan ve başarının sağlandığı cephe aşağıdaki seçeneklerden hangisinde verilmiştir?
- Kazım Karabekir - Güney Cephesi
 - Kazım Karabekir - Doğu Cephesi
 - İsmet İnönü - Doğu Cephesi
 - Ali Fuat Cebesoy - Batı Cephesi





10.

- ▶ Mustafa Kemal Atatürk'ün "Ordular! İlk hedefiniz Akdeniz'dir, ileri!" emrini verdiği savaş
- ▶ Atatürk'e gazi unvanı ve mareşal rütbesi verilen savaş
- ▶ Türk ordusunun geri çekilmek zorunda kaldığı Milli Mücadele Dönemi'nde kaybedilen tek savaş

Yukarıdaki olaylar, savaşlarla eşleştirildiği zaman aşağıdaki savaşlardan hangisi dışarıda kalır?

- Sakarya Meydan Muharebesi
- Kütahya Eskişehir Savaşları
- Başkomutanlık Meydan Muharebesi
1. İnönü Savaşı





1. Aşağıdaki organlardan hangisi sigaradan en fazla etkilenir?

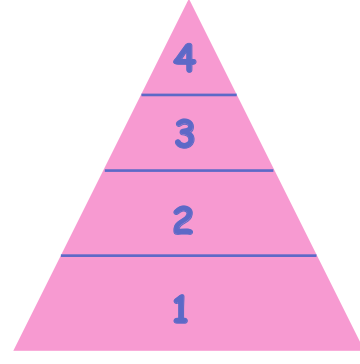
- A.  B. 
- C.  D. 

2. Fosilleri inceleyen bilim dalına ne ad verilir?

- A. Kronoloji
B. Arkeoloji
C. Paleontoloji
D. Fizyoloji

3. Aşağıdaki besinlerden hangisinin yapıcılığı ve onarıcılığı en fazladır?

- A.  B. 
- C.  D. 




(4 ve 5. soruyu yukarıda verilen besin piramidi-ne göre cevaplayalım.)

4. Yukarıda verilen besin piramidi ile ilgili yapılan aşağıdaki yorumlardan hangisi yanlıştır?

- A. En fazla tüketilen besinler 1. katta yer almaktadır.
B. 3. kattaki besin grubundaki besinlerden protein ihtiyacı karşılanır.
C. 4. kattaki besin grupları enerji vericidir.
D. Makarna, pirinç gibi besinler 4. kattaki besin gruplarına örnek olarak verilebilir.

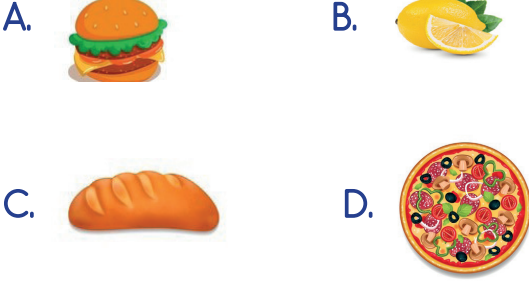
5.



Yukarıda verilen besinler, besin piramidinin hangi katına yerleştirilmelidir?

- A. 1. kat
B. 2. kat
C. 3. kat
D. 4. kat

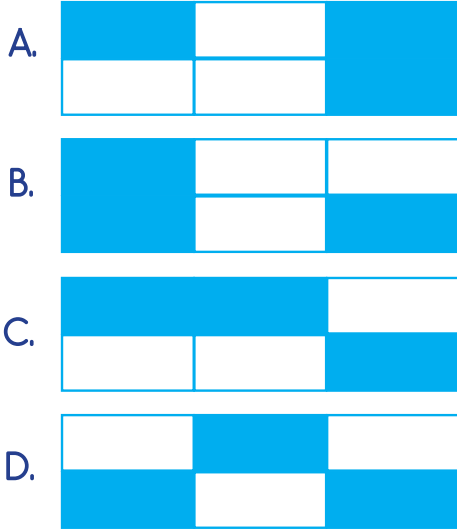
6. Aşağıdaki besin gruplarından hangisinin fazlası vücutta depo edilmez?



7.

Demir	Kükürt	Toprak
Taş	Katran	Bakır

Yukarıdaki tabloda madenlere ait kutular boyandığında tablonun son görünümü nasıl olur?



8. Aşağıdaki bilgilerden hangisi yanlıştır?

- A. Dünya, Güneş etrafında bir tam turunu 365 gün 6 saatte tamamlar.
- B. Dünya, kendi eksenini etrafındaki dönüşünü 24 saatte tamamlar.
- C. Dünya, Güneş etrafında dönerken Güneş'e olan uzaklığı değişmez.
- D. Dünya kendi etrafında dönerken Güneş'e dönük yüzü gündüzü yaşar.

9.

..... vücudumuzun büyüyüp gelişmesinde, sağlıklı bir şekilde hayatımızı devam ettirmemize katkısı vardır. Vücudumuzda düzenleyici olarak rol oynar. Kemiklerimizin yapısı, kalp atışlarımızın düzenli olması gibi birçok işlevi vardır.

Verilen metnin doğru tamamlanabilmesi için aşağıdakilerden hangisi yukarıdaki boşluğa yazılmalıdır?

- A. Yağlar
- B. Karbonhidratlar
- C. Mineraller
- D. Proteinler

10. Aşağıdaki bilgilerden hangisi yanlıştır?

- A. Proteinler vücudumuzda yapıcı ve onarıcı olarak görev yapar.
- B. Karbonhidratlar enerji ihtiyacımızı öncelikli olarak sağlayan besin grubudur.
- C. Vitaminler vücut direncini artırarak bizi hastalıklara karşı korur.
- D. Enerji ihtiyacımızı sadece karbonhidratlardan karşılarız.