

Saat: 12.20

Saat on ikiyi yirmi geçiyor.

➔ Saati gösteren kısa kol olan akrep 12 ile 1 arasındadır. Yani saat 12'yi geçiyor.

➔ Dakikayı gösteren uzun kol olan yelkovan ise 4'ün üzerindedir. Her sayı arası 5 dakika olduğundan 4'e kadar beşer sayarız. (5-10-15-20)

✎ Aşağıdaki saatlerin okunuşlarını örnekteki gibi yazalım.



Saat onu otuz
beş geçiyor.



.....
.....




.....
.....



.....
.....

✎ Aşağıdaki saatlerin okunuşlarını örnekteki gibi yazalım.



10.20



.....



.....



.....



.....



.....



.....



.....

 Aşağıdaki dijital saatlere göre analog saatlere akrep ve yelkovan çizelim.



07.35



11.25



12.40



13.15



15.30



16.55



18.00



21.20


 Aşağıdaki saatlerin üstündeki kutuya öğleden önce, altındakine ise öğleden sonra kaç gösterdiğini örnekteki gibi yazalım.


05.20





17.20





 Aşağıdaki saatlerin okunuşlarını örnekteki gibi yazalım.


 03.40 = 3'ü 40 geçiyor.


 08.15 =


 11.35 =


 12.30 =


 15.25 =


 21.50 =


 20.55 =

 19.45 =


 23.20 =


 Aşağıdaki saatlerin okunuşlarını örnekteki gibi yazalım.


 05.50 = 6'ya 10 var.


 07.45 =


 06.40 =


 11.55 =


 13.35 =



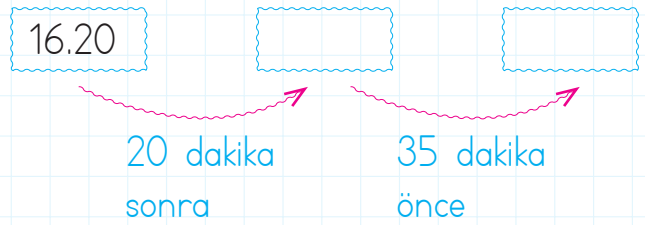
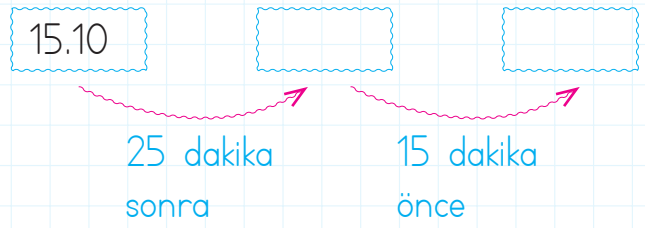

 15.50 =

 17.40 =

 19.50 =

 23.55 =

 Aşağıdaki saatlerden önce ve sonra gelen saatleri örnekteki gibi yazalım.





1 Yıl

4 mevsimdir

12 aydır.

52 haftadır

365 gündür.

1 gün 24 saattir.

1 saat 60 dakikadır.

1 dakika 60 saniyedir.

Saat "sa.", dakika "dk.", saniye "sn." şeklinde kısaca gösterilir.

Aşağıdaki zaman ölçülerini uygun ifadelerle aynı renge boyayalım.

1 hafta



12 ay



1 ay



30 gün



1 gün



24 saat



1 saat



60 saniye



1 dakika



7 gün



1 yıl



1 yıl



52 hafta



60 dakika



Aşağıdaki noktalı alanlara uygun ifadeler yazalım.

→ 3 hafta 20 günden fazladır.

→ 4 gün 1 haftadan azdır.

→ 1 ay 25 günden fazladır.

→ 300 gün 1 yıldan azdır.

→ Evde 3 temizlik yaptık.

→ Tavuk 2 sonra haşlanacak.

Aşağıdaki soruların cevaplarını işaretleyelim.

3 gün kaç saat eder?

72

48

24

2 saat kaç dakika eder?

60

90

120

10 dakika kaç saniye eder?

60

600

6

3 yıl kaç ay eder?

12

24

36

52 hafta kaç yıl eder?

1

2


3

5 hafta kaç gün eder?

5

20

35

 Aşağıda yan yana olan derslerin başlama ve bitiş saatleri verilmiştir. Süresi en uzun olan derslerin altındaki tavşanı boyyalım.

Başlangıç Bitiş



Türkçe



Başlangıç Bitiş



Matematik



Başlangıç Bitiş



Müzik



Başlangıç Bitiş



İngilizce



Başlangıç Bitiş



Fen Bilimleri



Başlangıç Bitiş



Sosyal Bilgiler



Başlangıç Bitiş



Görsel Sanatlar




Başlangıç Bitiş




Beden Eğitimi



 Aşağıda bazı çocukların yaptıkları tatil süreleri verilmiştir. Aşağıdaki soruları tabloya göre cevaplayalım.


Öğrencinin Adı	Tatil Başlangıcı	Tatil Bitişi
Sinan	20 Haziran	23 Haziran
Deniz	24 Haziran	28 Haziran
Burak	5 Temmuz	12 Temmuz
Ceyda	6 Temmuz	14 Temmuz
Pınar	15 Temmuz	25 Temmuz
Faruk	13 Temmuz	29 Temmuz


 Çocukların kaç gün tatil yaptıklarını yanlarına yazalım.


Sinan: Ceyda:.....


Deniz: Pınar:

Burak: Faruk:

 En uzun süre tatil yapan kimdir?

 En kısa süre tatil yapan kimdir?

 7 gün tatil yapan kimdir?

 En uzun süre tatil yapan kaç gün tatil yapmıştır?

1.

Selim'in izlediği çizgi film saat 17.45'te başlamıştır. Çizgi film 55 dakika sürdüğüne göre saat kaçta bitmiştir?



Çözüm:

2.

Melike saat 09.45'te havuza girmiştir. Havuzda 85 dakika kalan Melike havuzdan saat kaçta çıkmıştır?



Çözüm:

3.

Günde 25 dakika kitap okuyan Betül, bir ayda kaç dakika kitap okur?



Çözüm:

4.

İpek hafta içi günde 55 dakika, hafta sonu günde 75 dakika ders çalışmaktadır. İpek bir haftada kaç saat ders çalışmaktadır?



Çözüm:

5.

Berkan sınavı 2 saat 27 dakikada, Ergin ise 1 saat 54 dakikada bitirmiştir. Sınavı Ergin, Berkan'dan kaç dakika önce bitirmiştir?



Çözüm:

6.

90 dakika süren maçta 15 dakikalık bir ara olmuştur. Maç saat 20.30'da başladığına göre kaçta bitmiştir?



Çözüm:

1.

Defne ile Birsen satranç oynamaya saat 16.15'te başladı. Oyunları 45 dakika sürdüğüne göre saat kaçta bitmiştir?



Çözüm:

2.

İlke günde 2 saat 25 dakika ders çalışmaktadır. 2 haftada toplam kaç saat ve dakika ders çalışmıştır?



Çözüm:

3.

Yasemin, annesiyle dışarıda 2 saat 27 dakika oyun oynadıktan sonra eve saat 20.50'de dönmüştür. Buna göre Yasemin ile annesi saat kaçta oyuna başlamıştır?



Çözüm:

4.

Elmas, sinemaya 14:40'ta girdi. Film 2 saat 15 dakika sürdüğüne göre Elmas sinemadan saat kaçta çıkmıştır?



Çözüm:

5.

Hasan hafta sonları hariç günde 3 saat kitap okuyor. Hasan 5 haftada toplam kaç saat kitap okur?



Çözüm:

6.

Çağla oyun parkına 12.20'de giriş yapmış, oyun parkından 13.15'te çıkış yapmıştır. Çağla, oyun parkında kaç dakika kalmıştır?



Çözüm: