




 Aşağıdaki para gruplarının toplamını kuruş ve TL olarak örnekteki gibi yazalım.



 Aşağıdaki para gruplarının kaç liraya eşit olduğunu bulup yazalım.



 Aşağıdaki para gruplarının kaç liraya eşit olduğunu bulup yazalım.



Çocukların kumbaralarında ne kadar para olduğunu hesaplayalım.
TL ve Kr. olarak sonuçları yazarak çocukların adlarını bulalım.



.....



=



.....



=



.....



=



.....



=

Eda 6 TL

Murat 18 TL

Sema 19 TL

Mert 23 TL

 Sol kutucukta yazan para miktarını elde etmek için görselleri verilen paralardan kaç tane alınması gerektiğini örnekteki gibi yazalım.

						
17 lira 50 kuruş		1	1	2	1	
26 lira 75 kuruş						
6 lira 25 kuruş						
36 lira 75 kuruş						
19 lira 50 kuruş						
27 lira 75 kuruş						

 Aşağıdaki cümlelerde noktalı yerleri uygun sözcüklerle dolduralım.



Değerin en düşük madeni paramız, değeri en büyük madeni paramız'dir.



Değerin en düşük kağıt paramız, değeri en büyük kağıt paramız'dir.



4 tane 25 kuruş eder.



2 tane 50 kuruş TL, 5 tane 1 TL en küçük kağıt paramız eder.




10 tane 10 kuruş eder.

 Cüzdanda verilen para miktarına göre soruları cevaplayalım.

Hepsi 5 kuruş olsaydı kaç tane 5 kuruş ederdi?

Çözüm:



Hepsi 25 kuruş olsaydı kaç tane 25 kuruş ederdi?

Çözüm:



Hepsi 10 kuruş olsaydı kaç tane 10 kuruş ederdi?

Çözüm:

Hepsi 50 kuruş olsaydı kaç tane 50 kuruş ederdi?

Çözüm:

 Aşağıda fiyatları verilen ürünlere göre soruları cevaplayalım.

Kek	: 8 TL
Baklava	: 12 TL
Çay	: 5 TL



Bir kek, bir de çay alan kişi kaç lira ödeme yapar?

Çözüm:



Bir baklava alıp 50 lira ödeyen biri kaç lira para üstü alır?


Çözüm:



Baklava ve çal almak isteyen Emre'nin en az kaç lirası olması gerekir?

Çözüm:

1. ~~□□□□□□~~



□	X	✓		X	
□	✓	X	✓		✓
□□	X	✓	X	✓	

1. ~~□□~~

~~□~~

~~□~~

2. ~~□~~

~~□~~

~~□~~

3. ~~□~~

~~□~~

~~□~~

4. ~~□~~



~~□~~

~~□~~

5. ~~□~~

~~□~~



~~□~~

6. ~~□~~

~~□~~

~~□~~

2. ~~□□~~



1. cem alpere yardım ediyor

Yukarıdaki cümlenin doğru yazımı hangi seçenekte verilmiştir?

- A. Cem Alpere yardım ediyor.
B. Cem Alper'e yardım ediyor?
C. Cem Alper'e yardım ediyor.

2. Araba hızlıydı konforlu değildi.

Verilen cümleleri bağlamak için hangi sözcük kullanılabilir?

- A. fakat B. ile
C. kadar

3. Aşağıdaki sözcük çiftlerinden hangisi farklıdır?

- A. açık - kapalı
B. uzun - kısa
C. yıl - sene

4. Aşağıdaki varlıklardan hangisinin adı büyük harfle yazılır?



5. Cadde adı → Akkapı
Sokak adı → Papatya
Şehir adı → ?

Soru işareti ile belirtilen kutuya hangi sözcük yazılabilir?

- A. Köy
B. Kasaba
C. Çanakkale

6. Aşağıdaki cümlelerin hangisinde neden sonuç ilişkisi yoktur?

- A. Güneşli havaları çok severim.
B. Trafik kalabalık olduğundan geç kaldı.
C. Anneler günü için annesine hediye aldı.

1. 4 tane 5 lira, 8 tane 1 liradan kaç lira fazladır?
 A. 12
 B. 10
 C. 9



Yukarıdaki paraların toplamı 100 liradan kaç lira eksiktir?

- A. 30 B. 35 C. 40



Yukarıdaki paraların çeyreği aşağıdakilerden hangisidir?

- A.  B.  C. 

4. Ayhan, Deniz ve İpek markete gidiyorlar. Aldıkları ürünlere 27 lira ödüyorlar. Ayhan Deniz'den 3 lira eksik, İpek'ten ise 3 lira fazla para ödüyor.
 Deniz markete kaç lira ödemiştir?
 A. 6 lira
 B. 9 lira
 C. 12 lira

5. Aşağıdaki ifadelerden hangisi doğrudur?
 A. 4 tane 25 kuruş 1 TL eder.
 B. 3 tane 50 kuruş 1 TL eder.
 C. 6 tane 25 kuruş 1 TL eder.

6. En büyük madeni para ile en küçük kağıt paranın farkı TL'dir??
 A. 3
 B. 4
 C. 5

1. Aşağıdakilerden hangisi kültürel mirasımıza ait değildir?



2.  Zeybek

 Bale

 Horon

 Halay

Yukarıdakilerden hangileri geleneksel oyunlarımızdandır?

A.   

B.   

C.   

3. Aşağıdakilerden hangisi gelenek ve göreneklerimizden değildir?

A. Paskalya kutlamaları

B. Kına gecesi

C. Sünnet düğünü

4. Aşağıdakilerden hangisi geleneksel seyirlik oyunlarımızdan değildir?

A. Hacivat ve Karagöz

B. Opera

C. Orta oyunu

5. Bir millete ait bilgi ve davranışlarla bunlara ait eserler oluşturur.

Yukarıdaki ifadede boş bırakılan yere hangi sözcük yazılabilir?

A. oyunlarımızı

B. türkülerimizi

C. kültürümüzü

6. Aşağıdaki ifadelerden hangileri kültürümüzle ilgili değildir?

A. Yabancı ülkelerin yemekleri

B. El sanatlarımız


C. Yemeklerimiz



Ali



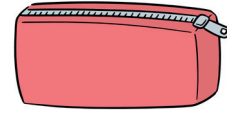
12 TL



34 TL



48 TL



23 TL



Merve

Yukarıda bir kırtasiyede satılan ürünlerin fiyatları verilmiştir.

- Satıcı, 60 TL ve üzerinde yapılan alışverişler için 10 TL indirim yapmaktadır.
- Aynı üründen iki tane alındığında ikinci ürün, yarı fiyatına satılmaktadır.
- 90 Lirası olan Merve, bir kitap ve bir çanta almıştır.
- 50 Lirası olan Ali, iki tane boya kalem seti ve bir kalemlik almıştır.

Yukarıdaki bilgilere göre aşağıdaki soruları cevaplayalım.

1. Yaptığı alışveriş sonunda Merve'nin kaç lirası kalır?

A. 28

B. 18

C. 8

2. Yaptığı alışveriş sonunda Ali'nin kaç lirası kalır?

A. 11

B. 10

C. 9

3. Ali, parasının tamamıyla aşağıdaki hangi iki ürünü satın alamaz?

A. Çanta - Boya kalem seti

B. Kalemlik - Boya kalem seti

C. Kitap - Kalemlik

Cevap Anahtarı

Türkçe

1. C
2. A
3. C
4. B
5. C
6. A

Matematik

1. A
2. A
3. B
4. C
5. A
6. B

Hayat B.

1. B
2. C
3. A
4. B
5. C
6. A

Soruya Gel

1. B
2. C
3. C