

Ayşe günün yorgunluğunu kitap okuyarak atmayı çok severdi. Kitap okuduktan sonra uyurdu. Kitapta okuduğu hikayelerin bazılarını rüyasında görüp annesine anlatırdı. Ayşe'nin bu huyundan çok memnun olan annesi, Ayşe'ye sürekli yeni kitaplar hediye ederdi.



1. ve 2. soruları metne göre cevaplayalım.

1. Ayşe ne yapmayı çok severdi?

- A. Resim çizmeyi
- B. Kitap okumayı
- C. Uyumayı

2. Ayşe gördüğü rüyaları kime anlatırdı?


- A. Annesine
- B. Öğretmenine
- C. Kardeşine

3. **r a y a**

Yukarıda verilen harfleri kullanarak hangi sözcük yazılmaz?

- A. ayar
- B. yara
- C. ayak

4. Aşağıdaki görsellerden hangisinin ismi sözlükte diğerlerinden daha önce yer alır?



5. Hangi cümlenin hece sayısı diğerlerinden farklıdır?

- A. Kitap okumayı çok severim.
- B. Temmuz en sevdiğim aydır.
- C. Bahar'ın saçları çok uzamış.

6. Aşağıdaki kelimelerden hangisinin yazımı hatalıdır?

A. kirbit

B. yalnız

C. herkes

7. Aşağıda kelimelerden hangisinin tek başına anlamı vardır?

A. gibi

B. yak

C. için



8. Yukarıdaki sözcüğün eş anlamlısı aşağıdakilerden hangisidir?

A. mektep

B. isim

C. talebe

9.



Yukarıda yazılı olan kelime ile ilgili aşağıdakilerden hangisi söylenemez?

A. Özel isimdir.

B. İki heceden oluşmuştur.

C. Ünlü harf sayısı daha fazladır.

10.

Ders başlarken öğretmenimiz bize ödüllü soru soracağını söyledi. Herkes sorunun zor olmasını bekliyordu. Ama öğretmenin sorduğu soru kolaydı. Ya da bize öyle gelmişti. Dersin bitişiyile beraber soruyu kimse cevaplayamadığını gördük. Öğretmenimiz sorunun çözüm yolunu gösterince dikkatli olmanın ne kadar önemli olduğunu anladık.

Yukarıdaki metinde zıt anlamıyla birlikte kaç kelime grubu oluşur?

A. 2

B. 3

C. 4




11. Aşağıdaki sözcüklerden hangisinin yazımında hata yapılmıştır?

- A. Ağrılı
- B. Ankara'da
- C. Ordu'nun

12.

Ben giderim, o gider, içimde tık tık eder.

Yukarıdaki bilmecenin cevabı aşağıdakilerden hangisidir?

- A. 
- B. 
- C. 

13. Aşağıdaki kelimelerin hangisinde bir ünlü harf diğerlerinden daha az sayıda tekrar etmiştir?

- A. pencere
- B. çamaşır
- C. makara

Soruya Gel

14. Aşağıdaki çocuklar bisiklet yarışı yapmaktadır. Kask rengi alfabetik sıraya göre önce gelen kişi yarışı kazanmıştır. Bu bilgilere göre yarışı kim kazanmıştır?

A.



B.



C.



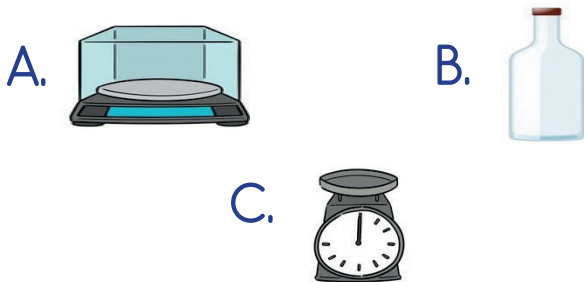
15. Aşağıdaki cümlelerin hangisinin sonuna farklı bir noktalama işareti konulmalıdır?

- A. Pazardan 3 kilo elma aldık
- B. Okula hazır mıyız
- C. Eda seninle mi geldi

1. Dedeleriyle bayramlaşmaya giden Ahmet, Ali ve Semih'e dedeleri 20'şer lira harçlık veriyor. Daha sonra Ali, Ahmet'in almak istediği ürün için kendi payından 10 lira Ahmet'e veriyor. Buna göre Ahmet'in cebindeki miktar aşağıdakilerden hangisidir?



2. Aşağıdakilerden hangisini sıvıları ölçmek için kullanabiliriz?



3. Bir sınıfta 20 öğrenci bulunmaktadır. Bunlardan 8'i kız öğrenci olduğuna göre erkek öğrenci sayısı kaçtır?

A. 11 B. 12 C. 13



Yukarıda bir şişeyi kaç bardağın tam olarak dolduracağı verilmiştir. Buna göre 3 şişeyi kaç bardak tam olarak doldurabilir?

A. 7
B. 8
C. 9

Veri: Hayvan sayıları

Tablo: Çiftlikteki hayvan sayıları

Hayvanlar	Hayvan Sayısı
İnek	3
Koyun	6
At	5
Horoz	4

5. ve 6. soruları tabloya göre cevaplayalım.

5. Bu çiftlikte toplam kaç hayvan bulunmaktadır?

- A. 17
- B. 18
- C. 19

6. Horoz sayısının koyun sayısına eşit olabilmesi için çiftliğe kaç horoz daha alınmalıdır?

- A. 1
- B. 2
- C. 3

7. Bugün 13 Temmuz Pazartesi olduğuna göre 5 gün sonra hangi gün olur?

- A. 17 Temmuz Cuma
- B. 18 Temmuz Cumartesi
- C. 18 Temmuz Pazar

8. Ozan'ın çantasının ağırlığı en büyük rakam kadardır. Ali'nin çantası ise Ozan'ın çantasından 5 kilogram daha hafiftir. Ali ile Ozan'ın çantalarının toplam ağırlıkları kaç kilogramdır?

- A. 12
- B. 13
- C. 14

9.



Yukarıdaki paralarla aşağıdaki ürünlerden hangisini alamayız?

A.



₺75

B.



₺86

C.



₺84


10. Ada, kardeşinden 3 yaş büyüktür. Ada'nın şimdiki yaşı 11 olduğuna göre Ada ile kardeşinin yaşları toplamı kaçtır?

A. 17

B. 19

C. 20

11.



Aşağıdakilerden hangisinde yukarıdaki kadar varlık vardır?

A.



B.



C.



12.



Yukarıdaki örüntünün kuralı aşağıdakilerden hangisidir?

A. Bir elma, iki muz

B. Bir muz, iki elma

C. İki muz, dört elma

13. Aşağıdaki şekillerden hangisinin kenarı ve köşesi yoktur?



14. Hasan Öğretmen çocuklara "e" ve "k" harflerinin alfabedeki sıralarının toplamını sormuştur. Hangi çocuğun yaptığı işlem doğrudur?

A.

$$\begin{array}{r} 14 \\ + 6 \\ \hline \end{array}$$

B.

$$\begin{array}{r} 11 \\ + 9 \\ \hline \end{array}$$

C.

$$\begin{array}{r} 12 \\ + 7 \\ \hline \end{array}$$

15. Seda sabah pikniğe gidecektir. Saatini, sabah 6'ya kurmuş, öyle uyumuştur. Seda'nın kurduğu saat çalmamış, Seda uyanması gereken saatten üç saat geç uyanmıştır. Buna göre Seda'nın uyantığı saat aşağıdakilerden hangisidir?

A.




B.




C.




1. Aşağıdakilerden hangisi "Oyun ve Fiziki Etkinlikler" dersi araç gerecidir?



2.  Güneş ısı ve ışık kaynağı-mızdır.


 Dünya, Güneş'ten büyüktür.

 Dünya'nın şekli küreye benzer.

Yukarıdaki ifadelerden hangisi yanlıştır?



3. Bir ağaçta hangi olay en son gerçekleşir?



4. Aşağıda verilen cümlelerden hangisi doğrudur?

A. Herkesin fikrine saygı duymalıyız.

B. Fikirlerimizi sadece annemize söyleriz.

C. Yüksek sesle konuştuğumuz zaman fikirlerimiz daha iyi anlaşılır.


5. Topkapı Sarayı hangi ilimizdedir?

A. Bursa

B. Çanakkale

C. İstanbul

6. Dengeli ve düzenli beslenen bir öğrenci aşağıdakilerden hangisini tüketmemeye özen gösterir?



Yukarıdaki hayvanlardan kaç tanesi evcil hayvan değildir?

A. 3

B. 4

C. 5

8. Ülkemizin başkenti aşağıdakilerden hangisidir?

A. İstanbul

B. Ankara

C. İzmir



Arda oyun oynarken düşmüş, kolunu sakatlamıştır. Öğretmeni hemen acil servisi aramış, ilk müdahale yukarıdaki gibi yapılmıştır. Öğretmenin aradığı numara aşağıdakilerden hangisidir?

A. 110

B. 155

C. 112

10. Aşağıdakilerden hangisi dini bayramlarımızdan biridir?

A. Zafer Bayramı

B. Ramazan Bayramı

C. Ulusal Egemenlik ve Çocuk Bayramı